

PREFEITURA MUNICIPAL DE BOM JESUS DO ITABAPOANA-RJ
SECRETARIA MUNICIPAL DE EDUCAÇÃO, ESPORTE E LAZER

SEMEEL

A mudança está em nossas mãos

Atividades Orientadoras

3^o
ano

Ensino Fundamental

UNIDADE ESCOLAR:

PROFESSOR(A) ANO DE ESCOLARIDADE DATA
3º ANO

NOME:

HOJE É?

SEGUNDA TERÇA QUARTA QUINTA SEXTA

CÓDIGO BNCC

EF35LP03 – EF35LP04 – EF35LP15


LÍNGUA PORTUGUESA

1 – Leia o texto:

BULLYING NÃO É BRINCADEIRA!

Bullying é uma situação que evidencia agressões intencionais, sendo verbais ou físicas, feitas de maneira constante e repetitiva, por um ou mais indivíduos contra um ou mais sujeitos.

Este termo surgiu a partir do inglês **Bully**, palavra que significa tirano, brigão ou valentão.



a) Este é um texto do gênero:

- () informativo.
() carta.
() bilhete.

b) Qual é o assunto do texto?


c) De acordo com o texto e imagens, pode-se considerar este tipo de comportamento, uma falta de respeito com o colega? Justifique.

d) Marque somente as opções que você considera contrária a este tipo de agressão.


- () Briga () Amizade () Inveja
() Amor () Rivalidade () Respeito

e) Considerando que você tenha um colega que pratica este tipo de comportamento, que conselho daria a ele ou ela para deixar tal atitude?

2 – Que atitudes, além de respeito, você pode observar na imagem abaixo? Escreva duas.



3 – Escreva um pequeno diálogo sobre o assunto que estudamos hoje.



UNIDADE ESCOLAR:

PROFESSOR(A)

ANO DE ESCOLARIDADE
3º ANO

DATA

NOME:

HOJE É?

SEGUNDA TERÇA QUARTA QUINTA SEXTA

CÓDIGO BNCC

EF03MA24 – EF03MA03

123 MATEMÁTICA 123

É preciso ter dinheiro para se comprar alguma coisa.

No Brasil, a moeda que usamos é o **REAL**.

O símbolo do real é o **R\$**.


- Observe as moedas e seus valores:

					
um centavo	cinco centavos	dez centavos	vinte e cinco centavos	cinquenta centavos	um real











E as nossas cédulas são estas abaixo. Ao lado escreva o valor de cada uma:



ATIVIDADES



1. Vamos calcular?

COMPREI	PAGUEI	RECEBI DE TROCO
		
		
		
		
		

UNIDADE ESCOLAR:

PROFESSOR(A)

ANO DE ESCOLARIDADE

DATA

3º ANO

NOME:

HOJE É?

SEGUNDA

TERÇA

QUARTA

QUINTA


SEXTA

CÓDIGO BNCC

EF03MA24 – EF03MA03

123 MATEMÁTICA 123

1. Tiago comprou um livro que custou R\$ 30,00 e pagou com uma nota de R\$ 50,00. Ele recebeu troco? Quanto?




2. Selma comprou uma bola para seu filho, Júlio. A bola custou R\$ 75,00. Ela pagou com uma nota de R\$ 100,00. Quanto ela recebeu de troco?



3. Rafael foi à sorveteria e comprou 6 picolés. Sabendo que cada picolé custou R\$ 2,00, quanto ele gastou?



4. Os irmãos, Marcelo, Carlos e Lucas, resolveram se juntar para comprar uma bicicleta de R\$ 780,00. Observe a quantia que cada criança já conseguiu economizar e resolva as questões abaixo.



a) Quem juntou a maior quantia e quanto foi?

b) Quem juntou menos e quanto foi?

c) Quanto têm os três juntos?

d) Quanto ainda falta para realizarem a compra?

5. A madrinha de Carlos deu R\$ 80,00 para ajudar as crianças. Ainda falta dinheiro? Quanto?
