

PREFEITURA MUNICIPAL DE BOM JESUS DO ITABAPOANA-RJ
SECRETARIA MUNICIPAL DE EDUCAÇÃO, ESPORTE E LAZER

Atividades Orientadoras



Educação de Jovens e Adultos

FASE I



UNIDADE ESCOLAR:

PROFESSORA

DATA

NOME:

FASE

CÓDIGO BNCC

LP

LÍNGUA PORTUGUESA

1- O QUE VOCÊ CONSEGUE LER? CIRCULE.



2- ENCONTRE AS PALAVRAS NO DIAGRAMA ABAIXO:



V D E A R I E L F T B O M O
N T G H O G A R O T O B F
G O M O L O P B O M B R I L
B J M I N U A N O V Y S O L
B E O I P C A C A U S H O W
G U A R A N A N U O T D C
O C O C A C O L A U H U O S

UNIDADE ESCOLAR:

PROFESSORA

DATA

NOME:

FASE

CÓDIGO BNCC



DOBRO DE UM NÚMERO

PARA SABER QUANTO É O DOBRO DE UM NÚMERO, BASTA SOMAR ESSE NÚMERO DUAS VEZES OU MULTIPLICAR ESSE NÚMERO POR 2.

1- CALCULE O DOBRO DOS NÚMEROS ABAIXO:

$$4 = \underline{\quad\quad\quad} + \underline{\quad\quad\quad} = \underline{\quad\quad\quad}$$

$$2 = \underline{\quad\quad\quad} + \underline{\quad\quad\quad} = \underline{\quad\quad\quad}$$

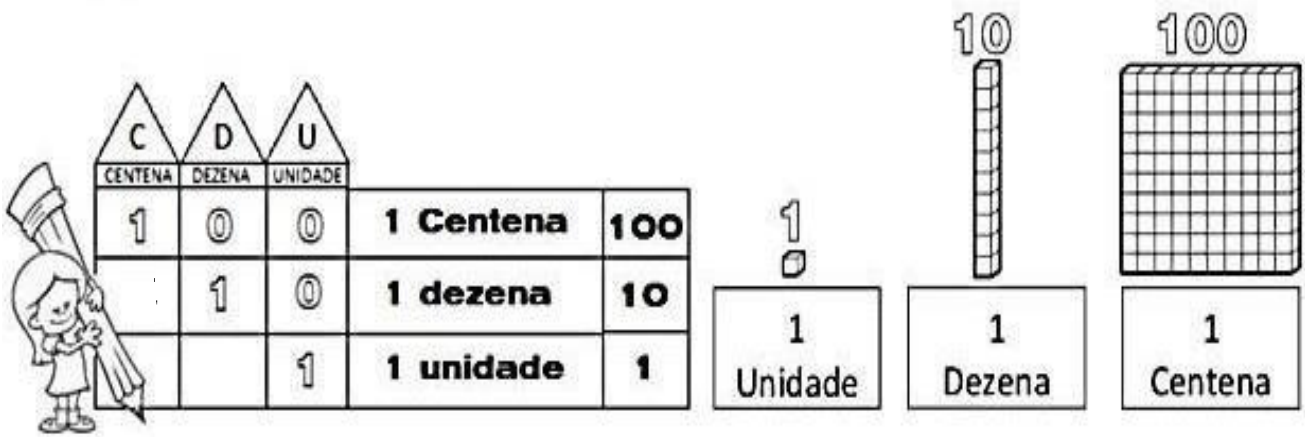
$$6 = \underline{\quad\quad\quad} + \underline{\quad\quad\quad} = \underline{\quad\quad\quad}$$

$$1 = \underline{\quad\quad\quad} + \underline{\quad\quad\quad} = \underline{\quad\quad\quad}$$

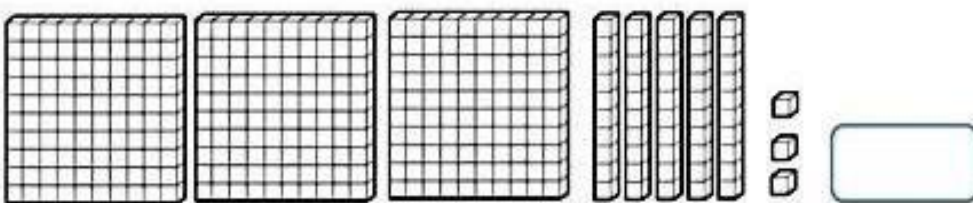
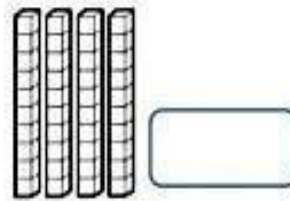
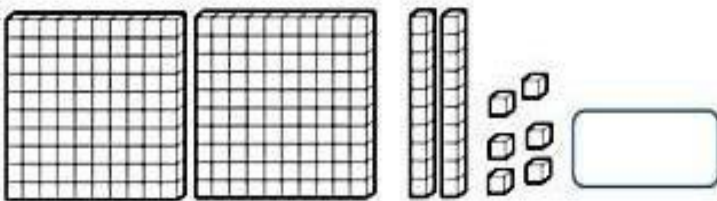
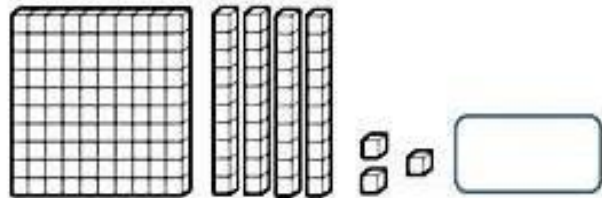
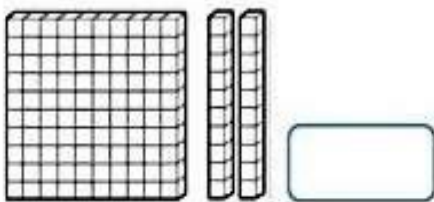
$$3 = \underline{\quad\quad\quad} + \underline{\quad\quad\quad} = \underline{\quad\quad\quad}$$

$$5 = \underline{\quad\quad\quad} + \underline{\quad\quad\quad} = \underline{\quad\quad\quad}$$

SISTEMA DE NUMERAÇÃO DECIMAL



2- REPRESENTE COM ALGARISMOS AS QUANTIDADES REPRESENTADAS COM O MATERIAL DOURADO:



3- REGISTRE OS NUMERAIS UTILIZANDO OS ALGARISMOS:

	C	D	U
NOVENTA E QUATRO			
VINTE E CINCO			
CENTO E QUARENTA			
NOVENTA E TRÊS			
CINQUENTA E SETE			



UNIDADE ESCOLAR:

PROFESSORA

DATA

NOME:

FASE


CÓDIGO BNCC




1- COLOQUE CADA LETRA EM UM QUADRINHO E CONTE




--	--	--	--	--	--	--	--




--	--	--	--	--	--	--	--



--	--	--	--	--	--	--	--



--	--	--	--	--	--	--	--



2- ESCREVA AS SÍLABAS INICIAIS DE CADA PRODUTO:



3- COMPLETE AS FRASES COM SUA MARCA PREFERIDA:

A) COMPREI UM SABÃO EM PÓ _____ E
OUTRO LÍQUIDO.

B) MEU CHOCOLATE FAVORITO É _____

C) ADORO O LEITE EM PÓ _____.

D) GOSTO DE USAR _____ NAS LOUÇAS;





UNIDADE ESCOLAR:

PROFESSORA

DATA

NOME:

FASE

CÓDIGO BNCC

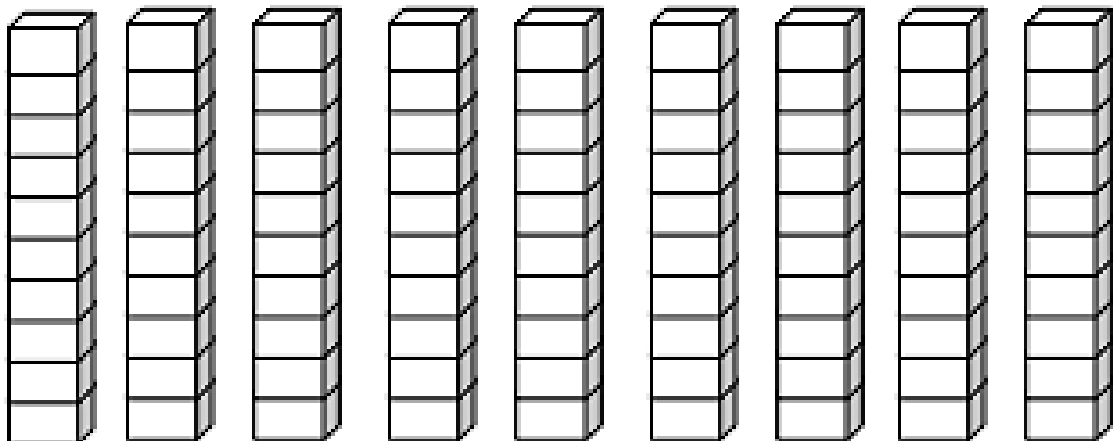
MA

MATEMÁTICA

1- OBSERVE A TABELA DE SEQUÊNCIA NUMÉRICA:

1	2	3	4	5	6	7	8	9	10
11	12	13	14	15	16	17	18	19	20
21	22	23	24	25	26	27	28	29	30
31	32	33	34	35	36	37	38	39	40
41	42	43	44	45	46	47	48	49	50

2- PINTE NO MATERIAL DOURADO A QUANTIDADE REPRESENTADA NA TABELA:





UNIDADE ESCOLAR:

PROFESSORA

DATA

NOME:

FASE

CÓDIGO BNCC

LP **LÍNGUA PORTUGUESA**

1- LIGUE OS PRODUTOS AOS NOMES:

MOÇA



LIZA

SALADA



PINHO BRIL

ARISCO

LUX



PATO

QUATÁ



ROYAL

QUALY



2- VAMOS LER?



3- DAS PALAVRAS QUE VOCÊ LEU, ESCREVA AQUELAS DE QUE VOCÊ MAIS GOSTA.

A large rounded rectangular box containing four horizontal lines for writing.

3- QUANTAS PALAVRAS VOCÊ ESCREVEU?

A horizontal rounded rectangular box for writing the number of words.

RÓTULOS



Minuano



LUX®



Cacau Show



Yakult

