

PREFEITURA MUNICIPAL DE BOM JESUS DO ITABAPOANA-RJ  
SECRETARIA MUNICIPAL DE EDUCAÇÃO, ESPORTE E LAZER

**SEMEEL**

*A mudança está em nossas mãos*

# Atividades Orientadoras



**1º**  
ano

# Ensino Fundamental

UNIDADE ESCOLAR:

PROFESSOR(A)  ANO DE ESCOLARIDADE  DATA

1º ANO

NOME:

HOJE É?

SEGUNDA

TERÇA

QUARTA

QUINTA

SEXTA

CÓDIGO BNCC

EF01LP16/EF01LP02/EF01LP06/EF01LP09

## LÍNGUA PORTUGUESA

1. LEIA O POEMA COM A AJUDA DA PROFESSORA E RESPONDA:

### ERA UMA VEZ

ERA UMA VEZ...  
UMA FADA  
QUE VIVIA NA COZINHA.  
PEGAVA FARINHA,  
OVO, FERMENTO,  
UMA COLHER DE VENTO,  
UM POUCO DE AÇÚCAR,  
TRÊS BATIDAS NA PORTA  
E...SCATAPLAM!  
SURGIA UMA TORTA!  
(JOSÉ DE NICOLA)



2. CIRCULE, NO TEXTO, AS PALAVRAS QUE COMEÇAM COM A LETRA **F**.

3. DE ACORDO COM O TEXTO, QUEM VIVIA NA COZINHA?

\_\_\_\_\_

4. O QUE A FADA FAZIA NA COZINHA?


\_\_\_\_\_

5. QUAIS OS INGREDIENTES QUE ELA USOU PARA FAZER A TORTA?


\_\_\_\_\_

# ESTUDO DA LÍNGUA


6. PREENCHA OS QUADRINHOS COM AS LETRAS E SÍLABAS DO NOME DAS FIGURAS:




□	□	□	□
□	□		




□	□	□	□
□	□		



□	□	□	□	□	□
□	□				




□	□	□	□	□	□
□	□	□			




□	□	□	□
□	□		

7. CIRCULE AS SÍLABAS QUE FORMAM O NOME DAS FIGURAS E ESCREVA:




FA	FO	CA
□		




GO	CO	FI
□		



LA	FI	TA
□		




FA	CA	DA
□		



FA	TO	CA
□		



FE	CA	TI
□		




BI	TA	FE
□		



GO	FO	FE
□		



NE	FO	CA
□		



FU	TA	BA
□		



UNIDADE ESCOLAR:

PROFESSOR(A)

ANO DE ESCOLARIDADE  
1º ANO

DATA

NOME:

HOJE É?

SEGUNDA

TERÇA

QUARTA

QUINTA


SEXTA

CÓDIGO BNCC

EF01MA01/EF01MA06

**123 MATEMÁTICA 123**







**SUBTRAÇÃO**

  $3 - 1 = \square$

  $4 - 2 = \square$


  $4 - 3 = \square$

1. RESOLVA AS SUBTRAÇÕES:

 $7 - 2 = \underline{\quad}$	 $10 - 3 = \underline{\quad}$
 $8 - 4 = \underline{\quad}$	 $5 - 2 = \underline{\quad}$
 $10 - 2 = \underline{\quad}$	 $9 - 3 = \underline{\quad}$

# SITUAÇÕES-PROBLEMA

1. NUMA DOCERIA TINHA 12 PIRULITOS. FORAM VENDIDOS 7. QUANTOS PIRULITOS SOBARAM?



D	U

RESPOSTA: \_\_\_\_\_

---

2. JÚLIA FEZ 15 BISCOITOS. COMEU 4. QUANTOS BISCOITOS SOBARAM?

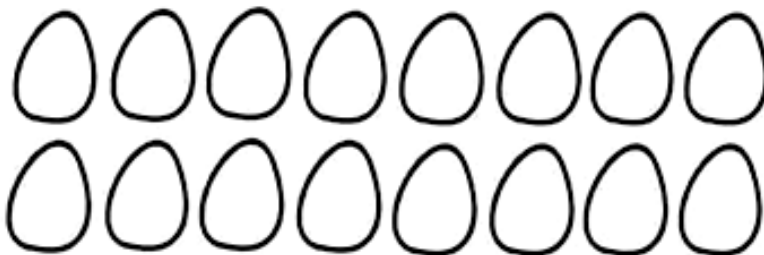


D	U

RESPOSTA: \_\_\_\_\_

---

3. ÉRICA COMPROU 16 OVOS. USOU 5 PARA FAZER UM BOLO. QUANTOS OVOS RESTARAM?



D	U

RESPOSTA: \_\_\_\_\_

UNIDADE ESCOLAR:

PROFESSOR(A)  ANO DE ESCOLARIDADE  DATA

1º ANO

NOME:

HOJE É?

SEGUNDA

TERÇA

QUARTA

QUINTA

SEXTA

CÓDIGO BNCC

EF01LP16/EF01LP02/EF01LP06/EF01LP09

## **LÍNGUA PORTUGUESA**

1. FAÇA A LEITURA COMPARTILHADA COM A PROFESSORA E RESPONDA:

### A FOCA FILÓ

ESTA É A FOCA FILÓ,  
GULOSA COMO ELA SÓ.  
COME FAROFA COM FILÉ,  
DOCE DE FIGO E CAFÉ.

E ASSIM A FOCA FILÓ,  
SABIDA COMO ELA SÓ,  
APRENDEU NÃO SÓ A NADAR,  
COMO TAMBÉM A DANÇAR  
SAMBA, ROCK E ATÉ FORRÓ...

NA VERDADE, A FOCA FILÓ,  
SAPECA COMO ELA SÓ,  
GOSTA DE CAIR NA FOLIA,  
SEJA DE NOITE OU DE DIA...



2. QUAL O TÍTULO DO POEMA? \_\_\_\_\_.

3. QUANTOS VERSOS? \_\_\_\_\_.

4. QUANTAS ESTROFES? \_\_\_\_\_.


5. ESCREVA, DE ACORDO COM O POEMA, AS PALAVRAS QUE RIMAM COM:

FILÓ - \_\_\_\_\_

FILÉ - \_\_\_\_\_


NADAR - \_\_\_\_\_

FOLIA - \_\_\_\_\_





6. COMPLETE A CRUZADINHA:



1 – FACA

2 – FADA

3 – FAMA

4 – FATIA

5 – FOTO

6 – FOCA

7 – FIGO

8 – FITA

9 – FUBÁ

10 – FAMÍLIA

11 – FOFOCA

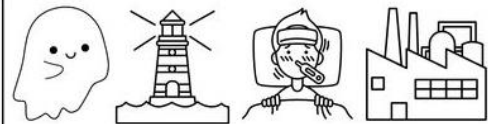
12 – FELIZ

13 – FIVELA


14 – FIADO

7. PINTE AS FIGURAS QUE COMEÇAM COM AS SÍLABAS EM DESTAQUE:


**FA**




**FE**




**FI**



**FO**



**FU**



UNIDADE ESCOLAR:

PROFESSOR(A)

ANO DE ESCOLARIDADE  
1º ANO

DATA

NOME:

HOJE É?

SEGUNDA

TERÇA

QUARTA

QUINTA

SEXTA


CÓDIGO BNCC

EF01MA01/EF01MA06


123 MATEMÁTICA 123

**SITUAÇÕES-PROBLEMA**


1. DENTRO DE CADA SACOLA TEM UMA DEZENA DE MAÇÃS. SOMANDO COM AS MAÇÃS QUE ESTÃO FORA, QUANTAS FICARÃO?




MAÇÃS



MAÇÃS




MAÇÃS



MAÇÃS




MAÇÃS



MAÇÃS




2. DONA JÚLIA FEZ 6 BOLOS E COLOCOU 2 MORANGOS EM CADA BOLO. QUANTOS MORANGOS ELA USOU NO TOTAL?




\_\_\_\_\_ + \_\_\_\_\_ + \_\_\_\_\_ + \_\_\_\_\_ + \_\_\_\_\_ + \_\_\_\_\_ = \_\_\_\_\_

3. RICARDO FOI À FEIRA E COMPROU 4 PENCAS DE BANANA. CADA PENCA TEM 3 BANANAS. QUANTAS BANANAS ELE COMPROU AO TODO?




\_\_\_\_\_ + \_\_\_\_\_ + \_\_\_\_\_ + \_\_\_\_\_ = \_\_\_\_\_

4. NA SALA DE CAROLINA TEM 17 ALUNOS. HOJE FORAM 10. QUANTOS FALTARAM? DESENHE E CALCULE:



$10 + \underline{\hspace{2cm}} = 17$

5. MURILO TEM 12 BOLAS. QUANTAS ELE PRECISA PARA COMPLETAR 20 BOLAS? DESENHE E CALCULE:



$12 + \underline{\hspace{2cm}} = 20$