

**PREFEITURA MUNICIPAL DE BOM JESUS DO ITABAPOANA-RJ**  
**SECRETARIA MUNICIPAL DE EDUCAÇÃO, ESPORTE E LAZER**

# **Atividades Orientadoras**



## **Educação de Jovens e Adultos**

### **FASE I**



UNIDADE ESCOLAR:

PROFESSORA

DATA

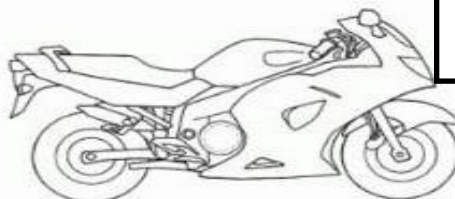

NOME:

FASE

CÓDIGO BNCC

**LP** **LÍNGUA PORTUGUESA**

1- CIRCULE SOMENTE AS IMAGENS QUE FAZEM PARTE DOS MEIOS DE TRANSPORTE TERRESTRES. DEPOIS ESCREVA OS NOMES DOS MEIOS DE TRANSPORTE:



2- COMPLETE O ALFABETO COM AS LETRAS QUE ESTÃO FALTANDO E CIRCULE AS VOGAIS:

	B		D		F		H	I	
K		M			P		R		T
U		W		Y					

COMPLETE OS NOMES DOS MEIOS DE TRANSPORTE COM AS VOGAIS:


A - E - I - O - U



M \_\_\_ T \_\_\_



\_\_\_ N \_\_\_ B \_\_\_ S



TR \_\_\_ M



B \_\_\_ C \_\_\_ CL \_\_\_ T \_\_\_



C \_\_\_ RR \_\_\_

UNIDADE ESCOLAR:

PROFESSORA

DATA

NOME:

FASE

CÓDIGO BNCC

**MA** **MATEMÁTICA**



1- NO QUADRO ACIMA, APARECEM FORMAS GEOMÉTRICAS PARA REPRESENTAR PLACAS DE SINAIS DE TRÂNSITO. ESCREVA O NOME DESTAS FIGURAS ABAIXO:




2- OBSERVE A DATA DE VALIDADE NA EMBALAGEM DO LEITE E RESPONDA. MÁRCIA COMPROU ESTE PRODUTO NO DIA **05/06/2024**. QUANTOS DIAS ELA TERÁ PARA CONSUMIR ANTES DA DATA DE VALIDADE VENCER?

VALIDADE ATÉ:

19/06/2024

( ) 10 DIAS

( ) 12 DIAS

( ) 14 DIAS

3- CIDA TEM QUE IR AO CENTRO DA CIDADE E PARA CHEGAR LÁ, DEVE PEGAR O ÔNIBUS **SETECENTOS E UM**. MARQUE UM X NO LOCAL ONDE ESTE NÚMERO ESTÁ REPRESENTADO.

710 - A

701 - A

7001 - A

4- NUMERE CORRETAMENTE OS MEIOS DE TRANSPORTE:

1- LAMBRETA

2- TRICICLO

3- ÔNIBUS

4- SKATE

5- MONOCICLO

6- BICICLETA





UNIDADE ESCOLAR:

PROFESSORA

DATA

NOME:

FASE

CÓDIGO BNCC



1- OBSERVE AS PLACAS DE TRÂNSITO E NUMERE CORRETAMENTE, AO SEU SIGNIFICADO:



( )  
ÁREA ESCOLAR  
PRÓXIMA.

( )  
PROIBIDO  
TRÂNSITO DE  
BICICLETA.

( )  
PROIBIDO  
TRÂNSITO DE  
PEDESTRES.

2- COMPLETE O QUADRO ABAIXO:

PALAVRAS	QUANTAS SÍLABAS?	PRIMEIRA SÍLABA	ÚLTIMA SÍLABA	QUANTAS VOGAIS?
TRICICLO				
BICICLETA				
MONOCICLO				



3- OBSERVE AS PALAVRAS DO QUADRO E COMPLETE AS AFIRMAÇÕES A SEGUIR:

**MOTORISTA – GUARDA DE TRÂNSITO – TRÂNSITO –  
FAIXA DE PEDESTRES – RUAS**

A) LUGAR SEGURO PARA ATRAVESSAR A RUA:

B) LUGAR PARA OS VEÍCULOS TRAFEGAREM:

C) PESSOA QUE DIRIGE UM VEÍCULO:

D) PESSOA QUE CUIDA DO TRÂNSITO:

E) MOVIMENTO DE VEÍCULOS NAS RUAS:

4- COMPLETE A FRASE A SEGUIR, TROCANDO O DESENHO POR PALAVRA:

O MENINO ANDA DE  NA RUA.



UNIDADE ESCOLAR:

PROFESSORA

DATA

NOME:

FASE

CÓDIGO BNCC



1- ROBERTO PAGOU NO POSTO DE GASOLINA, COM AS SEGUINTE CÉDULAS:



A) FAÇA UM **X** NO NÚMERO QUE REPRESENTA O VALOR PAGO:

2- FAÇA A ESCRITA DOS NUMERAIS ABAIXO:

3- FAÇA UM **X** NA SOMA DOS TRÊS NUMERAIS ACIMA:

4- AGORA ESCREVA A SOMA POR EXTENSO:



5- ANOTE NA TABELA ABAIXO, QUANTAS NOTAS DE CADA VALOR PODEM SAIR DO CAIXA ELETRÔNICO PARA FORMAR R\$ 380,00.

6- DIOGO, PEDRO E JOÃO ESTAVAM JOGANDO DADOS. SOMANDO AS JOGADAS, CADA UM FEZ:

DIOGO → $5 + 7 + 8 + 9 =$
PEDRO → $2 + 12 + 4 + 3 =$
JOÃO → $10 + 5 + 7 + 2 =$


QUEM GANHOU?

QUEM FEZ MENOS PONTOS?

A) QUAL FOI A CLASSIFICAÇÃO DE CADA UM, NO JOGO DE DADOS?

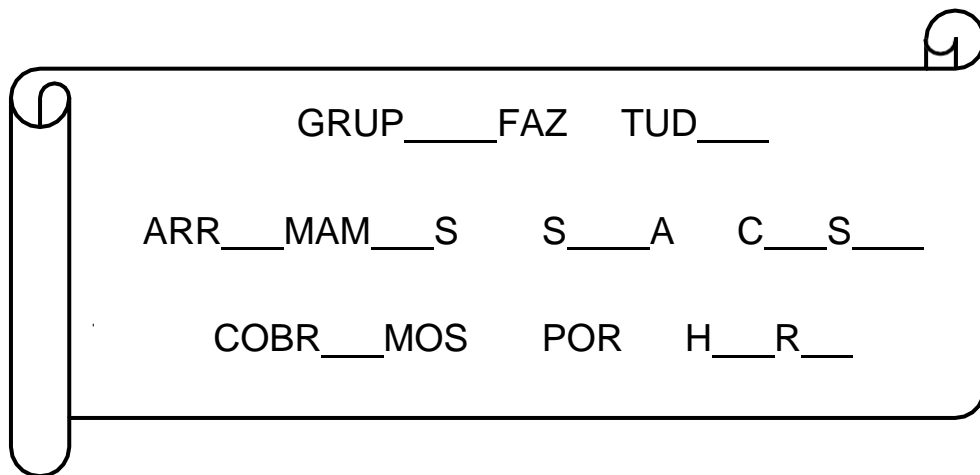
1º LUGAR	2º LUGAR	3º LUGAR

7- QUANTOS LADOS TEM UM DADO?





3- PARA DIVULGAR OS SEUS SERVIÇOS, UM GRUPO DE AMIGOS CRIOU UM ANÚNCIO NO WHATSAPP. LEIA O ANÚNCIO E COMPLETE AS PALAVRAS COM AS VOGAIS QUE ESTÃO FALTANDO.



A) ESCREVA O ANÚNCIO QUE VOCÊ COMPLETOU AQUI:

\_\_\_\_\_

\_\_\_\_\_

\_\_\_\_\_

4- MUDE UMA LETRA E FORME OUTRA PALAVRA:

S	U	C	O
S		C	O
S		C	O

A) ESCREVA AS TRÊS PALAVRAS QUE FORMOU ACIMA:

\_\_\_\_\_

\_\_\_\_\_

\_\_\_\_\_