

PREFEITURA MUNICIPAL DE BOM JESUS DO ITABAPOANA-RJ
SECRETARIA MUNICIPAL DE EDUCAÇÃO, ESPORTE E LAZER

Atividades Orientadoras



Educação de Jovens e Adultos

FASE I



UNIDADE ESCOLAR:

DATA

PROFESSORA

NOME:

FASE

CÓDIGO BNCC



1- LEITURA FEITA COM AJUDA DO PROFESSOR:

OS MEIOS DE TRANSPORTE

PARA NOS LOCOMOVERMOS DE UM LUGAR PARA O OUTRO, PODEMOS USAR OS MEIOS DE TRANSPORTE.

ESSES MEIOS DE TRANSPORTE PODEM SER CLASSIFICADOS EM: AQUÁTICOS, TERRESTRES E AÉREOS.

AQUÁTICOS – SE MOVIMENTAM PELA ÁGUA.

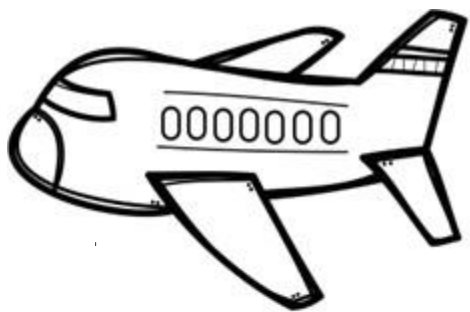
TERRESTRES – SE MOVIMENTAM PELA TERRA.

AÉREOS – SE MOVIMENTAM PELO AR.

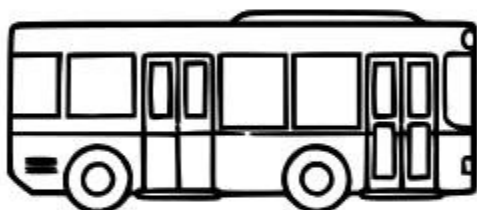
2- O MEIO DE TRANSPORTE ABAIXO É AQUÁTICO, TERRESTRE OU AÉREO?
ESCREVA NO RETÂNGULO:



3- ESCREVA O NOME DOS MEIOS DE TRANSPORTE (AÉREO, TERRESTRE E AQUÁTICO) NOS RETÂNGULOS:



AÉREO



TERRESTRE



AQUÁTICO

4- COMPLETE O QUADRO ABAIXO:

PALAVRAS	QUANTAS VOGAIS?	QUANTAS CONSOANTES?	QUANTAS SÍLABAS?	ÚLTIMA SÍLABA
AVIÃO				
ÔNIBUS				
NAVIO				
AÉREO				
TERRESTRE				
AQUÁTICO				

UNIDADE ESCOLAR:

PROFESSORA

DATA

NOME:

FASE

CÓDIGO BNCC

MA








MATEMÁTICA

1- OBSERVE A IMAGEM E NUMERE DE ACORDO COM A LEGENDA:

(1) TERRESTRE

(2) AQUÁTICO

(3) AÉREO



2- COMPLETE OBSERVANDO A ATIVIDADE 1:

A) QUANTOS MEIOS DE TRANSPORTE TEM A ATIVIDADE ACIMA?

B) QUANTOS SÃO AÉREOS?

C) QUANTOS SÃO TERRESTRES?

D) QUANTOS SÃO AQUÁTICOS?

3- OBSERVE OS NÚMEROS DA RETA NUMÉRICA E RESPONDA.



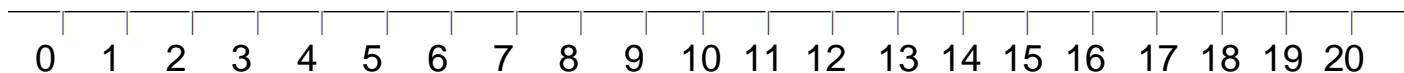
A) QUAL O MENOR NÚMERO DA RETA? _____

B) QUAL NÚMERO ESTÁ ENTRE 4 E 6? _____

C) QUAL O MAIOR NÚMERO DA RETA? _____

D) QUAIS NÚMEROS ESTÃO DEPOIS DO 7? _____

4- OBSERVE OS NÚMEROS DA RETA NUMÉRICA E RESPONDA:



A) QUAL O MAIOR NÚMERO DA RETA? _____

B) QUAIS NÚMEROS ESTÃO ENTRE 7 E 12? _____

C) QUAL NÚMERO ESTÁ ANTES DE 18 NA RETA? _____

D) QUAL NÚMERO ESTÁ DEPOIS DE 15 NA RETA? _____



UNIDADE ESCOLAR:

PROFESSORA

DATA

NOME:

FASE

CÓDIGO BNCC



1- ENCONTRE O NOME DOS MEIOS DE TRANSPORTE NO DIAGRAMA ABAIXO:



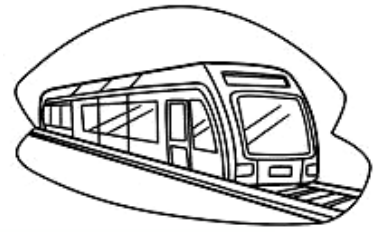

HELICÓPTERO – BARCO – NAVIO – TREM
AVIÃO – ÔNIBUS – CARROÇA – BICICLETA

A	M	R	B	A	R	C	O	U	I	R	E	A	C
H	T	R	E	M	H	I	L	J	D	A	O	Y	M
O	N	I	T	E	S	H	J	Ô	N	I	B	U	S
J	I	T	E	A	C	A	R	R	O	Ç	A	A	R
R	I	O	N	A	V	I	O	C	E	R	H	Ç	A
A	V	I	Â	O	V	F	T	A	H	T	Y	Z	L
A	Â	G	B	I	C	I	C	L	E	T	A	B	C
E	H	E	L	I	C	Ó	P	T	E	R	O	C	R

2- AGORA ORGANIZE OS NOMES NOS QUADROS, DE ACORDO COM O TIPO DE MEIO DE TRANSPORTE:

TERRESTRE	AÉREO	AQUÁTICO

3- QUAIS DOS TRANSPORTES LEVAM MAIS PESSOAS DE UMA SÓ VEZ?
CIRCULE-OS E REGISTRE O NOME NOS RETÂNGULOS ABAIXO:



4- QUAIS DOS MEIOS DE TRANSPORTE ABAIXO VOCÊ COSTUMA VER NA SUA CIDADE?

(A) CARRO

(B) ÔNIBUS

(C) MOTO



(D) TREM

(E) NAVIO

(F) CAMINHÃO

