

PREFEITURA MUNICIPAL DE BOM JESUS DO ITABAPOANA-RJ  
SECRETARIA MUNICIPAL DE EDUCAÇÃO, ESPORTE E LAZER

# Atividades Orientadoras



## Educação de Jovens e Adultos

### FASE IV

UNIDADE ESCOLAR:	<input type="text"/>	
PROFESSORA	<input type="text"/>	DATA <input type="text"/>
NOME:	<input type="text"/>	
FASE	<input type="text" value="IV"/>	CÓDIGO BNCC <input type="text" value="EFEJAFII-IIIILP01, EFEJAFI/FIIILP30"/>



## LÍNGUA PORTUGUESA

Os transportes correspondem ao conjunto de materiais e instrumentos técnicos utilizados no deslocamento de pessoas e cargas de um lugar para o outro. No contexto do desenvolvimento dos países e da sociedade, os meios de transporte são de grande importância para a infraestrutura, ou seja, o suporte material para que tal crescimento instrumentalize-se. Quanto maior o crescimento econômico de um determinado país, maior a demanda e a pressão sobre os meios de transporte. Por esse motivo, dizemos que os transportes, ao lado da comunicação, são elementos estratégicos para qualquer país ou governo.

Assim, quando vemos notícias de que o governo anuncia a construção, por exemplo, de uma grande rodovia, ferrovia ou hidrovia, entendemos que essa ação é fruto de uma necessidade latente de crescimento para gerar mais riquezas, empregos e investimentos.

1-“O transporte público no Brasil sempre foi alvo de muitas reclamações ao longo do tempo. A insatisfação da população com o transporte coletivo nas cidades brasileiras não é uma questão recente.”

Assinale (F) para falso ou (V) para verdadeiro, as situações que indicam um dos principais elementos responsáveis pelos problemas do transporte público no Brasil.

- ( ) Crescimento desordenado das cidades, sem acompanhamento em infraestrutura.
- ( ) Ausência de veículos particulares para a população.
- ( ) Crescimento das cidades, menor que o do campo.
- ( ) Barateamento das passagens, elevando a procura e diminuindo os serviços.

2- Os transportes, ao lado da comunicação, são elementos estratégicos para qualquer país ou governo.





UNIDADE ESCOLAR:

PROFESSORA

DATA

NOME:

FASE







CÓDIGO BNCC



## MATEMÁTICA

### Linha do tempo: evolução dos meios de transporte

Ao longo do tempo, os meios de transporte foram evoluindo para atender às necessidades humanas. Observe as figuras abaixo. Na linha do tempo, preencha os espaços da tabela com os números dos meios de transporte correspondentes, colocando-os em ordem cronológica: do mais antigo para o mais recente.



Linha do tempo

Mais antigo



Mais recente

Meios de transporte					

1- Marcos poupou R\$ 2.350,00 e utilizou uma parte desse dinheiro par comprar 4 pneus novos para seu carro. Ele gastou R\$ 1.190,00. Quanto sobrou de dinheiro para Marcos?

Resposta \_\_\_\_\_

2- No pátio da escola tem 8 bicicletas estacionadas. Se eu somar todas as rodas dessas bicicletas, qual será o resultado?

Resposta \_\_\_\_\_

3- Um borracheiro trocou os pneus de 5 carros na sexta-feira. Quantos pneus ele trocou ao todo?

Resposta \_\_\_\_\_

4- Um trem tem cinco vagões. Cada vagão tem 6 rodas. Quantas rodas têm ao todo no trem?

Resposta: \_\_\_\_\_

5- Numa viagem de carro, percorri 370Km no primeiro dia, 256Km no segundo dia e 82Km no terceiro dia. Quantos km percorri nesses 3 dias?

Resposta: \_\_\_\_\_

6- Uma loja tinha 128 automóveis. Vendeu 79 e depois comprou mais 56. Quantos automóveis possui agora?

Resposta: \_\_\_\_\_



UNIDADE ESCOLAR:

PROFESSORA

DATA

NOME:

FASE

CÓDIGO BNCC



## GEOGRAFIA

1) Complete as lacunas com as palavras abaixo:

**asfaltadas – meios de transporte – cavalo – mercadorias – boas condições – carros – vias de circulação – carro de boi – pessoas – ônibus**

a) \_\_\_\_\_ ligam as cidades por onde passam os \_\_\_\_\_ levando \_\_\_\_\_ e \_\_\_\_\_.

b) Antigamente, as estradas eram de terra, estreitas e esburacadas, e muitos percursos levavam horas e até dias para ser feitos. Utilizavam-se, nessa época, \_\_\_\_\_ ou \_\_\_\_\_.

c) Atualmente, \_\_\_\_\_ e \_\_\_\_\_ permitem que os percursos em estradas de rodagem sejam feitos em tempo bem menor. Mas, para que isso aconteça, as estradas devem ser \_\_\_\_\_ e estar \_\_\_\_\_.

2) Ônibus, metrô e trem são meios de transporte coletivos. Em seu município, as pessoas utilizam muito ou pouco os meios de transporte coletivos? Em sua opinião isso é bom ou ruim para o meio ambiente?

\_\_\_\_\_

\_\_\_\_\_

3) No município onde você vive, existem problemas de transporte? Se sim, quais?

\_\_\_\_\_

\_\_\_\_\_

\_\_\_\_\_

4) Em seu município, existem rodovias, ferrovias, aeroportos e portos? Quais são os mais utilizados pela população? Quais você já utilizou?

---



---

5) Qual é o meio de transporte mais utilizado em seu município?

---



---

6) Organize as informações na tabela:

trem	motorista	aeroporto
navio	piloto	estação ferroviária
ônibus	maquinista	cais do porto
avião	timoneiro	estação rodoviária

Profissional	Transporte	Local de onde parte

7- Escreva o que você conhece sobre os meios de transportes encontrados no caça-palavras:

É TRANSPORTE DE USO COLETIVO OU PESSOAL?

PARA QUE TIPO DE TRANSPORTE É INDICADO?

QUEM UTILIZA?

---



---



---



---



---



---