

PREFEITURA MUNICIPAL DE BOM JESUS DO ITABAPOANA-RJ
SECRETARIA MUNICIPAL DE EDUCAÇÃO, ESPORTE E LAZER

SEMEEL

A mudança está em nossas mãos

Atividades Orientadoras



1º
ano

Ensino Fundamental

UNIDADE ESCOLAR:

PROFESSOR(A) ANO DE ESCOLARIDADE DATA

1º ANO

NOME:

HOJE É?

SEGUNDA

TERÇA

QUARTA

QUINTA

SEXTA

CÓDIGO BNCC

EF15LP03/EF01LP02/EF15LP18

LÍNGUA PORTUGUESA


1. LEIA O TEXTO JUNTO COM OS COLEGAS E A PROFESSORA:

JOGOS OLÍMPICOS

A CADA QUATRO ANOS, ATLETAS DE CENTENAS DE PAÍSES SE REÚNEM NUM PAÍS-SEDE PARA DISPUTAREM UM CONJUNTO DE MODALIDADES ESPORTIVAS. O MUNDO TODO ASSISTE E TORCE PELOS ATLETAS DE SEU PAÍS.

OS JOGOS OLÍMPICOS TIVERAM ORIGEM NA GRÉCIA ANTIGA E O PRINCIPAL MOTIVO DESSE EVENTO ERA HOMENAGEAR ZEUS, O DEUS MAIS IMPORTANTE DA CULTURA GREGA. ERA UMA FESTIVIDADE COM UMA MISTURA DE RELIGIÃO E ESPORTE.

FOI PROIBIDA POR UM TEMPO, POR UM IMPERADOR ROMANO. ATÉ QUE, EM 1896, A PRIMEIRA EDIÇÃO DOS JOGOS OLÍMPICOS ACONTECEU EM ATENAS, NA GRÉCIA. DESDE ENTÃO, A CADA QUATRO ANOS, UMA CIDADE É ESCOLHIDA PARA SEDIÁ-LOS.




2. RESPONDA DE ACORDO COM O TEXTO:

A) OS JOGOS OLÍMPICOS ACONTECEM:

- () A CADA 2 ANOS.
() A CADA 10 ANOS.
() A CADA 4 ANOS.

B) OS JOGOS TIVERAM INÍCIO EM QUAL PAÍS?

- () BRASIL () GRÉCIA () ESTADOS UNIDOS



C) O QUE É DISPUTADO EM CADA EDIÇÃO DAS OLIMPÍADAS?

- () MODALIDADES ESPORTIVAS.
- () JOGOS DE VIDEOGAME.
- () SOMENTE FUTEBOL.

D) QUAL CULTURA OS JOGOS OLÍMPICOS REPRESENTAVAM?

- () CULTURA LATINA.
- () CULTURA EUROPEIA.
- () CULTURA GREGA.


E) "...FOI PROIBIDA POR UM TEMPO, POR UM IMPERADOR ROMANO. ATÉ QUE, EM 1896, A PRIMEIRA EDIÇÃO DOS JOGOS OLÍMPICOS ACONTECEU EM...":

- () PARIS.
- () ATENAS.
- () RIO DE JANEIRO.

3. QUAIS DAS MODALIDADES ESPORTIVAS QUE VOCÊ CONHECE TE AGRADAM MAIS?

4. O PRINCIPAL SÍMBOLO DAS OLIMPÍADAS REPRESENTA A UNIÃO DE POVOS E RAÇAS, POIS É FORMADO POR CINCO ANÉIS ENTRELAÇADOS, REPRESENTANDO OS CINCO CONTINENTES E SUAS CORES. A PAZ, A AMIZADE E O BOM RELACIONAMENTO ENTRE OS POVOS, QUE SÃO OS PRINCÍPIOS DOS JOGOS OLÍMPICOS. PINTE OS ANÉIS DE ACORDO COM A LEGENDA E DESCUBRA COMO O SÍMBOLO É REPRESENTADO.

- 1- AZUL - REPRESENTA O CONTINENTE EUROPEU
- 2- AMARELO - REPRESENTA O CONTINENTE ASIÁTICO
- 3- PRETO - REPRESENTA O CONTINENTE AFRICANO
- 4- VERMELHO - REPRESENTA O CONTINENTE AMERICANO
- 5- VERDE - REPRESENTA A OCEANIA



UNIDADE ESCOLAR:

PROFESSOR(A) ANO DE ESCOLARIDADE DATA
1º ANO

NOME:

HOJE É?


SEGUNDA TERÇA QUARTA QUINTA SEXTA

CÓDIGO BNCC

EF01MA06/EF01MA08


123 MATEMÁTICA 123

PREMIAÇÃO



TODOS CORREM ATRÁS DELAS! O 1º COLOCADO EM CADA COMPETIÇÃO RECEBE A MEDALHA DE OURO, O 2º, A MEDALHA DE PRATA, E O 3º, A MEDALHA DE BRONZE. POR SUA HISTÓRIA E IMPORTÂNCIA, SÓ POR PODER PARTICIPAR DOS JOGOS OLÍMPICOS, TODOS JÁ SÃO VITORIOSOS!

1. LIGUE A MEDALHA AO ATLETA CORRESPONDENTE:



OURO BRONZE PRATA

PROBLEMINHAS

1. O BRASIL GANHOU 15 MEDALHAS DE OURO E 4 MEDALHAS DE PRATA. QUANTAS MEDALHAS O BRASIL GANHOU AO TODO?

D	U



R.: _____

2. UM GINASTA CONQUISTOU 14 PONTOS EM UMA PROVA E 12 EM OUTRA. QUAL TOTAL DE PONTOS ELE CONSEGUIU?

D	U



R.: _____

3. NO JOGO, O BRASIL FEZ 22 PONTOS NO PRIMEIRO TEMPO E 45 NO SEGUNDO TEMPO. QUANTOS PONTOS O BRASIL FEZ AO TODO?

D	U



R.: _____

4. NUMA PARTIDA DE BASQUETE, UMA SELEÇÃO FEZ 35 PONTOS E A EQUIPE ADVERSÁRIA FEZ 13 PONTOS. QUANTOS PONTOS A PRIMEIRA EQUIPE FEZ A MAIS QUE A SEGUNDA?

D	U



R.: _____

UNIDADE ESCOLAR:

PROFESSOR(A)

ANO DE ESCOLARIDADE DATA

1º ANO

NOME:

HOJE É?

SEGUNDA

TERÇA

QUARTA

QUINTA

SEXTA

CÓDIGO BNCC

EF15LP03/EF01LP02/EF01LP02

LÍNGUA PORTUGUESA

1. LEIA O TRECHO DA MÚSICA JUNTO COM A PROFESSORA E RESPONDA:

É UMA PARTIDA DE FUTEBOL

BOLA NA TRAVE NÃO ALTERA O PLACAR.
BOLA NA ÁREA SEM NINGUÉM PRA CABECEAR.
BOLA NA REDE PRA FAZER UM GOL.
QUEM NÃO SONHOU EM SER UM JOGADOR
DE FUTEBOL?
[...].
O MEIO-CAMPO É O LUGAR DOS CRAQUES,
QUE VÃO LEVANDO O TIME TODO PRO ATAQUE.
O CENTROAVANTE, O MAIS IMPORTANTE.
QUE EMOCIONANTE É UMA PARTIDA DE FUTEBOL!
O MEU GOLEIRO É UM HOMEM DE ELÁSTICO.
SÓ OS DOIS ZAGUEIROS TÊM A CHAVE DO CADEADO
OS LATERAIS FECHAM A DEFESA,
MAS QUE BELEZA É UMA PARTIDA DE FUTEBOL.



SAMUEL ROSA/NANDO REIS

2. QUAIS AS POSIÇÕES DE JOGADORES CITADOS NOS TRECHOS DA MÚSICA?

3. QUEM SÃO OS AUTORES DA MÚSICA?

4. OS TRECHOS DA MÚSICA TRATAM DE QUE ASSUNTO?

5. QUEM É O HOMEM DE ELÁSTICO NA PARTIDA DE FUTEBOL?

() ATACANTE

() CENTROAVANTE

() GOLEIRO

6. O CENTROAVANTE É:

- () O HOMEM ELÁSTICO.
- () O MAIS IMPORTANTE.
- () A CHAVE DO CADEADO.



7. O LUGAR DOS CRAQUES É:

- () NA LATERAL.
- () O MEIO DE CAMPO.
- () O ATAQUE .

8. DE ACORDO COM O PRIMEIRO PARÁGRAFO DA MÚSICA, UMA PARTIDA DE FUTEBOL É:

- () MUITO DIVERTIDA.
- () EMOCIONANTE.
- () DIVERTIDA.

9. PARA FAZER UM GOL É:

- () BOLA NA REDE.
- () BOLA NA TRAVE.
- () BOLA NA ÁREA.

10. PARA ALÉM DO FUTEBOL, NAS OLIMPÍADAS TÊM DIVERSAS OUTRAS MODALIDADES DE ESPORTES. VAMOS CONHECÊ-LOS PREENCHENDO O AUTODITADO ABAIXO:

NATAÇÃO – TÊNIS – VÔLEI – JUDÔ
CICLISMO – FUTEBOL – BASQUETE – ATLETISMO



UNIDADE ESCOLAR:

PROFESSOR(A)

ANO DE ESCOLARIDADE

DATA

NOME:

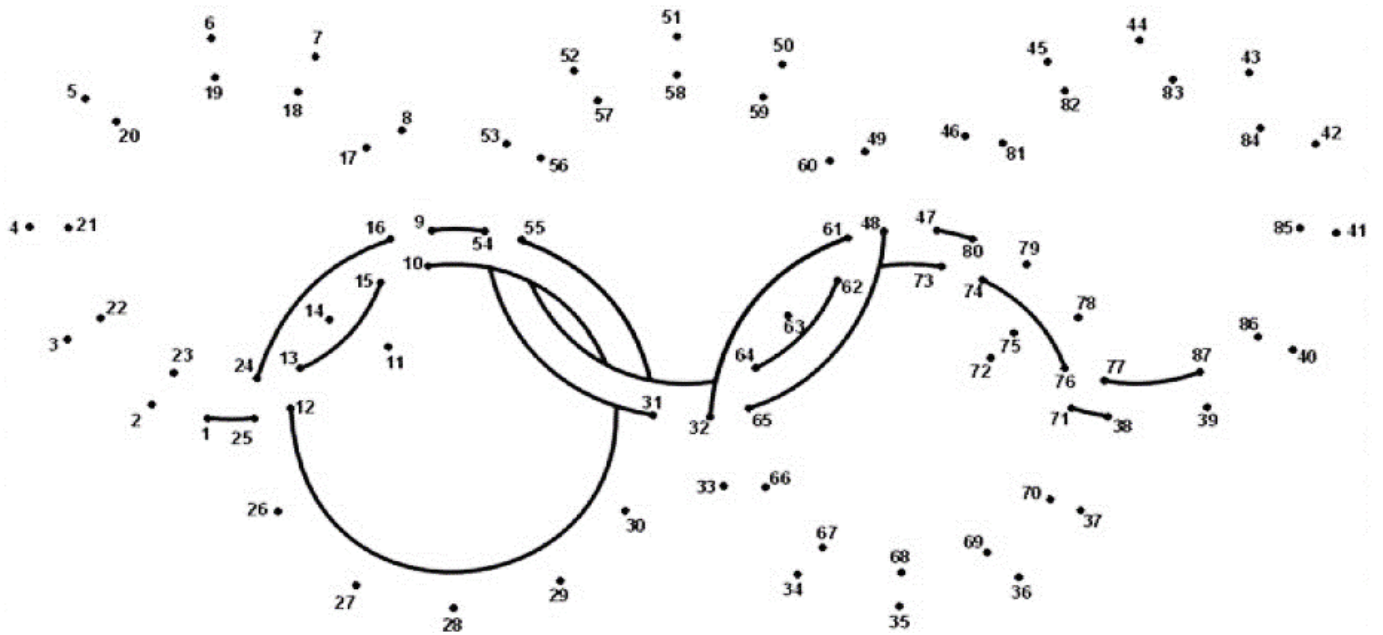
HOJE É?

SEGUNDA
 TERÇA
 QUARTA
 QUINTA
 SEXTA


CÓDIGO BNCC

123 MATEMÁTICA 123

1. LIGUE OS PONTOS SEGUINDO A ORDEM DOS NÚMEROS DO 1 AO 87:



2. **SIMETRIA.** COMPLETE A FIGURA DESENHANDO A METADE QUE FALTA DA TOCHA OLÍMPICA.





UNIDADE ESCOLAR:

PROFESSOR(A)

ANO DE ESCOLARIDADE

DATA

1º ANO

NOME:

HOJE É?

SEGUNDA

TERÇA

QUARTA

QUINTA

SEXTA

CÓDIGO BNCC

EF15LP03/EF01LP02/EF01LP02

ABC LÍNGUA PORTUGUESA

1. COPIE O ALFABETO CURSIVO DAS LETRAS MAIÚSCULAS E MINÚSCULAS:

A - B - C - D - E - F - G - H - I

J - K - L - M - N - O - P - Q - R

S - T - U - V - W - X - Y - Z

a - b - c - d - e - f - g - h - i

j - k - l - m - n - o - p - q - r

s - t - u - v - w - x - y - z