

PREFEITURA MUNICIPAL DE BOM JESUS DO ITABAPOANA-RJ
SECRETARIA MUNICIPAL DE EDUCAÇÃO, ESPORTE E LAZER

SEMEEL

A mudança está em nossas mãos

Atividades Orientadoras



1º
ano

Ensino Fundamental

UNIDADE ESCOLAR:

PROFESSOR(A) ANO DE ESCOLARIDADE DATA
 1º ANO

NOME:

HOJE É?

SEGUNDA TERÇA QUARTA QUINTA SEXTA

CÓDIGO BNCC

EF12LP18/EF15LP03/EF01LP02

LÍNGUA PORTUGUESA

1. LEIA O TEXTO JUNTO COM A PROFESSORA E RESPONDA:

O JANTAR DE JACOBINA

ISABEL CRISTINA SILVEIRA SOARES

A JOANINHA JACOBINA
AJEITOU-SE PARA O JANTAR
JUVENAL SEU NAMORADO
UMA JOIA VAI LHE DAR!

JACOBINA QUANDO O VIU
JUSTAMENTE PASSOU MAL
ESTAVA DE PIJAMA
O JOVEM JUVENAL!

O JEITO ERA AGORA
EM CASA MESMO FICAR
COMER JILÓ COM JACA
E NO JARDIM NAMORAR!



1. QUAL O TÍTULO DO POEMA?

2. QUAL ANIMAL É RETRATADO NO POEMA? _____.

3. O QUE A JOANINHA JACOBINA VAI GANHAR DE PRESENTE?

() UM PAR DE SAPATOS.

() UMA JOIA.

() UM CASACO DE COURO.

4. O QUE A JOANINHA JACOBINA E O SEU NAMORADO JUVENAL COMERAM NO JANTAR?

() ARROZ COM FEIJÃO.

() CARNE COM MACARRÃO.

() JILÓ COM JACA.



5. RETIRE DO TEXTO AS PALAVRAS QUE RIMAM NA:

1ª ESTROFE: _____, _____.

2ª ESTROFE: _____, _____.

3ª ESTROFE: _____, _____.


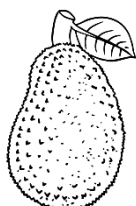
6. LEIA NOVAMENTE A SEGUNDA ESTROFE DO POEMA E COMPLETE-A ABAIXO COM AS PALAVRAS QUE FALTAM.

_____ QUANDO O VIU
_____ PASSOU MAL
ESTAVA DE _____ O JOVEM _____!

7. AUTODITADO. COMPLETE O AUTODITADO COM AS PALAVRAS DO QUADRO.

PIJAMA – JILÓ – JACA – JACARÉ – JOANINHA – JIPE – JIBOIA





UNIDADE ESCOLAR:

PROFESSOR(A) ANO DE ESCOLARIDADE DATA

1º ANO

NOME:

HOJE É?

SEGUNDA TERÇA QUARTA QUINTA SEXTA

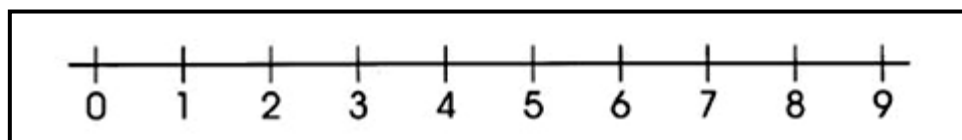
CÓDIGO BNCC

EF01MA05/EF01MA01


123 MATEMÁTICA 123

RETA NUMÉRICA

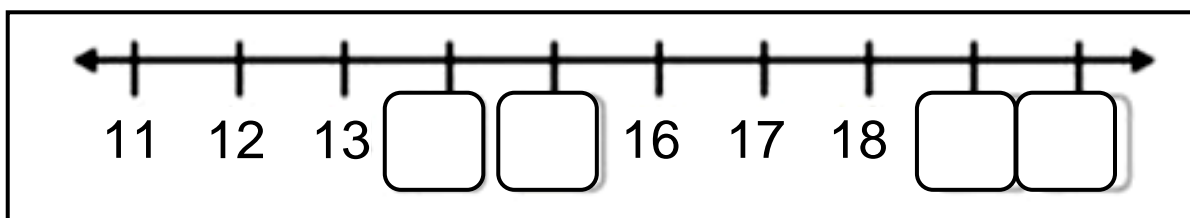
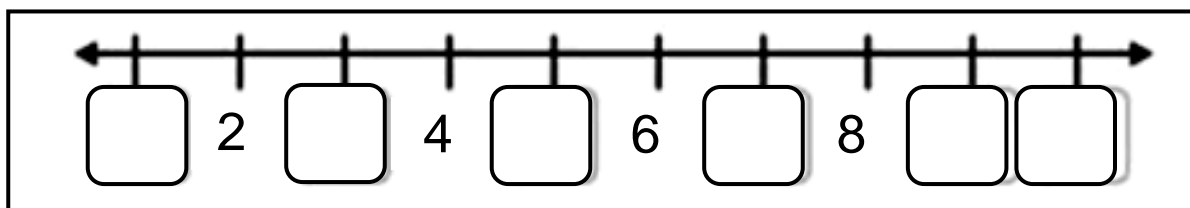
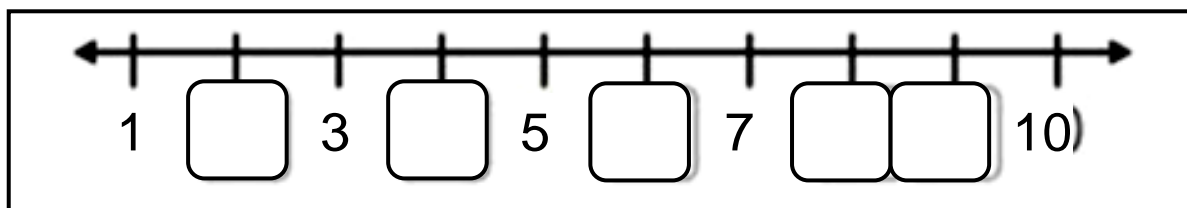
1. OBSERVE A RETA NUMÉRICA E RESPONDA:



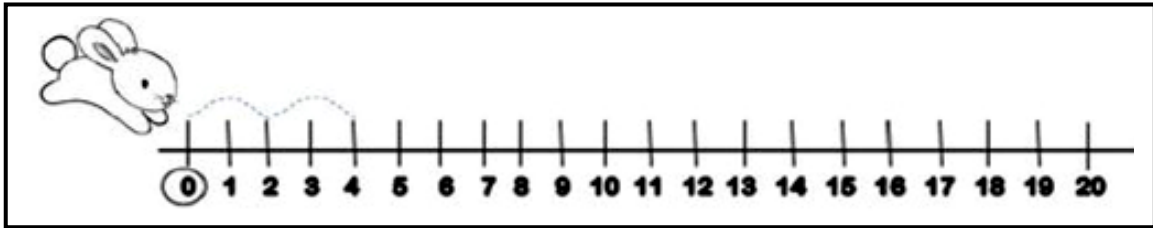
- A) QUAL É O MENOR NÚMERO DA RETA? _____
- B) QUAL É O MAIOR NÚMERO DA RETA? _____
- C) QUAL NÚMERO PAR VEM LOGO DEPOIS DO NUMERAL 1? _____
- D) QUAL NUMERAL ESTÁ ENTRE O NÚMERO 4 E O NÚMERO 6? _____
- E) QUAL O MAIOR NÚMERO PAR DA RETA NUMÉRICA? _____
- F) QUAL MAIOR NÚMERO ÍMPAR DA RETA NUMÉRICA? _____



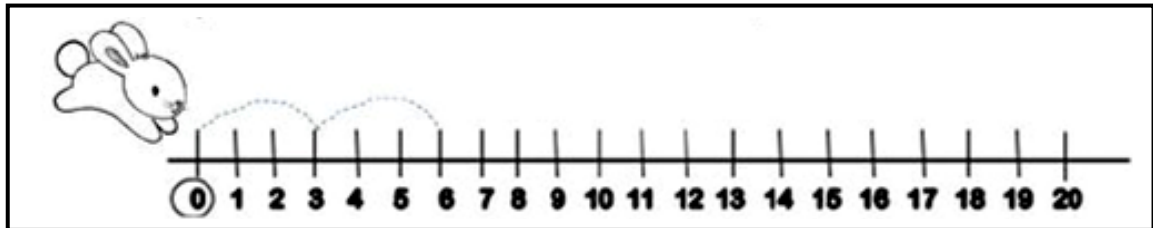
2. COMPLETE AS SEQUÊNCIAS NUMÉRICAS ABAIXO COM OS NÚMEROS QUE ESTÃO FALTANDO:



3. AJUDE O COELHINHO A SALTAR SEGUINDO A SEQUÊNCIA E CIRCULANDO OS NÚMEROS EM QUE ELE VAI PISAR:





A) ESCREVA EM ORDEM **CRESCENTE** OS NÚMEROS QUE VOCÊ CIRCULOU:



B) ESCREVA EM ORDEM **DECRESCENTE** OS NÚMEROS QUE VOCÊ CIRCULOU:

4. SUBTRAINDO COM RETA NUMÉRICA. SIGA O MODELO DAS SETAS NA RETA NUMÉRICA E RESOLVA AS SUBTRAÇÕES:

$10 - 3 = \square$	
$9 - 4 = \square$	
$10 - 5 = \square$	
$8 - 4 = \square$	
$10 - 2 = \square$	
$7 - 3 = \square$	
$10 - 7 = \square$	



UNIDADE ESCOLAR:

PROFESSOR(A)

ANO DE ESCOLARIDADE

DATA

NOME:

HOJE É?

SEGUNDA

TERÇA

QUARTA

QUINTA

SEXTA

CÓDIGO BNCC

EF12LP18/EF15LP03/EF01LP02

LÍNGUA PORTUGUESA

1. LEIA O TEXTO JUNTO COM A PROFESSORA E OS COLEGAS E RESPONDA:


O JANTAR DO JABUTI

O JABUTI CHAMOU
A JURITI* PARA JANTAREM JUNTOS.
ELES COMERAM CAJU,
JACA, JENIPAPO E JATOBÁ.
DEPOIS DISSERAM:
– JANTAR COMO ESTE NÃO HÁ!

*JURITI: AVE COM O CORPO MARROM E
CABEÇA CINZENTA QUE VIVE NAS MATAS.



2. REESCREVA OS VERSOS DO POEMA NO ESPAÇO ABAIXO.




3. SEPARE AS SÍLABAS DAS PALAVRAS E PINTE A QUANTIDADE DE SÍLABAS CORRESPONDENTES A CADA UMA DELAS:




JOANINHA ○○○○○○

□ □ □ □ □




JUIZ ○○○○○○

□ □



JEGUE ○○○○○○


□ □



JAVALI ○○○○○○

□ □ □

4. COMPLETE A CRUZADINHA:



JACA
 JACARÉ
 JANELA
 JEGUE
 JIBOIA
 JOIA
 JORNAL
 JUJUBA

UNIDADE ESCOLAR:

PROFESSOR(A) ANO DE ESCOLARIDADE DATA

NOME:

HOJE É?

SEGUNDA TERÇA QUARTA QUINTA SEXTA

CÓDIGO BNCC

EF01MA06/EF01MA08/EF01MA19

123 MATEMÁTICA 123

1. TIAGO COMPROU UM LIVRO QUE CUSTOU R\$30,00 E PAGOU COM UMA NOTA DE R\$50,00. QUANTO ELE RECEBEU DE TROCO?

D	U

R: _____


2. CELMA COMPROU UMA CAMISA PARA SEU FILHO JÚLIO. A CAMISA CUSTOU R\$20,00. ELA PAGOU COM UMA NOTA DE R\$50,00. QUANTO CELMA DEVE RECEBER DE TROCO?

D	U

R: _____

3. RAFAEL FOI À SORVETERIA E COMPROU 6 PICOLÉS. SABENDO QUE CADA PICOLÉ CUSTOU R\$2,00, QUANTO ELE GASTOU?

$$2 + 2 + 2 + 2 + 2 + 2 = \underline{\hspace{2cm}}$$



R: _____





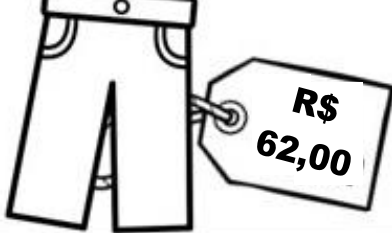







4. LÚCIA PRODUZIU 10 BRIGADEIROS PARA VENDER NA FEIRA. CADA BRIGADEIRO CUSTARÁ R\$5,00. QUANTO LÚCIA VAI GANHAR COM A VENDA DE TODOS OS DOCES?

$$5 + 5 + 5 + 5 + 5 + 5 + 5 + 5 + 5 + 5 = \underline{\hspace{2cm}}$$



R: _____

5. VAMOS CALCULAR?

COMPREI	PAGUEI	RECEBI DE TROCO
		
		
		
		
		
		



UNIDADE ESCOLAR:

PROFESSOR(A)

ANO DE ESCOLARIDADE

DATA

1º ANO

NOME:

HOJE É?

SEGUNDA

TERÇA

QUARTA

QUINTA

SEXTA

CÓDIGO BNCC

EF01LP07.RJ

ABC LÍNGUA PORTUGUESA

1. Exercite sua escrita:

A janelinha fecha

quando está chovendo.

A janelinha abre

se o sol está

aparecendo.

Vamos colorir?

