

PREFEITURA MUNICIPAL DE BOM JESUS DO ITABAPOANA-RJ  
SECRETARIA MUNICIPAL DE EDUCAÇÃO, ESPORTE E LAZER

**SEMEEL**

*A mudança está em nossas mãos*

# Atividades Orientadoras



2º  
ano



# Ensino Fundamental

UNIDADE ESCOLAR:

PROFESSOR(A)  ANO DE ESCOLARIDADE  DATA   
2º ANO

NOME:

HOJE É?

SEGUNDA  TERÇA  QUARTA  QUINTA  SEXTA

CÓDIGO BNCC

EF15LP02/EF15LP03

## **LÍNGUA PORTUGUESA**

1. LEIA O TEXTO JUNTO COM A PROFESSORA E RESPONDA:

### **JOGOS OLÍMPICOS**

A CADA QUATRO ANOS, ATLETAS DE CENTENAS DE PAÍSES SE REÚNEM NUM PAÍS-SEDE PARA DISPUTAREM UM CONJUNTO DE MODALIDADES ESPORTIVAS. O MUNDO TODO ASSISTE E TORCE PELOS ATLETAS DE SEU PAÍS.

#### **ORIGEM**

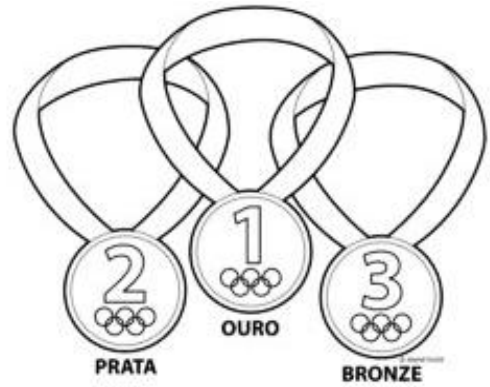
OS JOGOS OLÍMPICOS TIVERAM SUA ORIGEM NA GRÉCIA ANTIGA, APROXIMADAMENTE, 2.500 ANOS A.C. E O PRINCIPAL MOTIVO DESSE EVENTO ERA HOMENAGEAR ZEUS, O DEUS MAIS IMPORTANTE DA CULTURA GREGA. ERA UMA FESTIVIDADE COM UMA MISTURA DE RELIGIÃO E ESPORTE, MAS MUITO IMPORTANTE PARA AQUELA CIVILIZAÇÃO. ACONTECIA NA CIDADE DE OLÍMPIA, POR ISSO RECEBEU ESTE NOME. FOI PROIBIDA POR UM TEMPO, POR UM IMPERADOR ROMANO.

PASSARAM-SE DEZESSEIS SÉCULOS SEM ESTE EVENTO, ATÉ QUE, EM 1896, A PRIMEIRA EDIÇÃO DOS JOGOS OLÍMPICOS ACONTECEU EM ATENAS, NA GRÉCIA. DESDE ENTÃO, A CADA QUATRO ANOS, UMA CIDADE É ESCOLHIDA PARA SEDIAR OS JOGOS EM QUE SÃO DISPUTADAS DIVERSAS MODALIDADES ESPORTIVAS.



2. OS JOGOS OLÍMPICOS ACONTECEM:

- ( ) A CADA 2 ANOS.
- ( ) A CADA 10 ANOS.
- ( ) A CADA 4 ANOS.



3. OS JOGOS COMEÇARAM EM QUE PAÍS?

- ( ) BRASIL
- ( ) GRÉCIA
- ( ) ESTADOS UNIDOS

4. O QUE SÃO DISPUTADOS EM CADA EDIÇÃO DOS JOGOS OLÍMPICOS?

- ( ) MODALIDADES ESPORTIVAS.
- ( ) JOGOS DE VIDEOGAME.
- ( ) SOMENTE FUTEBOL.

5. O NOME "OLIMPIADAS" TEM O NOME A PARTIR...

- ( ) DA CIDADE DE OLÍMPIA.
- ( ) DE UMA LÂMPADA.
- ( ) DE UMA MODALIDADE ESPORTIVA.

6. ONDE ACONTECEU A PRIMEIRA EDIÇÃO OFICIAL DOS JOGOS OLÍMPICOS?

- ( ) EM TÓQUIO
- ( ) EM ATENAS
- ( ) EM SÃO PAULO

7. QUAL MODALIDADE ESPORTIVA TE CHAMA MAIS ATENÇÃO? \_\_\_\_\_.

8. CONHEÇA OUTRAS MODALIDADES ESPORTIVAS COMPLETANDO O AUTODITADO COM AS PALAVRAS DO QUADRO:

NATAÇÃO – TÊNIS – VÔLEI – JUDÔ – CICLISMO – FUTEBOL – BASQUETE – ATLETISMO



UNIDADE ESCOLAR:

PROFESSOR(A)

ANO DE ESCOLARIDADE

DATA

NOME:

HOJE É?

SEGUNDA  TERÇA  QUARTA  QUINTA  SEXTA


CÓDIGO BNCC

EF02MA05/EF02MA06

## 123 MATEMÁTICA 123

1. O PRINCIPAL SÍMBOLO DAS OLIMPIADAS REPRESENTA A UNIÃO DE POVOS E RAÇAS, POIS É FORMADO POR CINCO ANÉIS ENTELAÇADOS, REPRESENTANDO OS CINCO CONTINENTES E SUAS CORES. A PAZ, A AMIZADE É O BOM RELACIONAMENTO ENTRE OS POVOS, QUE SÃO OS PRINCÍPIOS DOS JOGOS OLÍMPICOS. PINTE OS ANÉIS DE ACORDO COM A LEGENDA E DESCUBRA COMO O SÍMBOLO É REPRESENTADO.

- 1- AZUL - REPRESENTA O CONTINENTE EUROPEU
- 2- AMARELO - REPRESENTA O CONTINENTE ASIÁTICO
- 3- PRETO - REPRESENTA O CONTINENTE AFRICANO
- 4- VERMELHO - REPRESENTA O CONTINENTE AMERICANO
- 5- VERDE - REPRESENTA A OCEANIA



**ESTA FIGURA VAI NA BANDEIRA OLÍMPICA, QUE TEM O PAPEL IMPORTANTE NA ABERTURA DOS JOGOS. ELA É HASTEADA LOGO APÓS A DECLARAÇÃO FEITA PELO CHEFE DE ESTADO DA CIDADE-SEDE, QUE OFICIALIZA A ABERTURA DOS JOGOS.**

## PROBLEMAS OLÍMPICOS

2. NO TÊNIS DE MESA, O TOTAL DE PONTOS FOI DE 286. SENDO 124 DE UMA ATLETA. QUANTOS PONTOS O ATLETA ADVERSÁRIO FEZ?

C	D	U


R.: \_\_\_\_\_



3. NA FINAL DO TÊNIS, O BRASIL FEZ 79 PONTOS E A FRANÇA FEZ 55. QUANTOS PONTOS A MAIS O BRASIL FEZ?

D	U

R: \_\_\_\_\_



4. O JAPÃO LEVOU AOS JOGOS 27 ATLETAS PARA DISPUTAR A NATAÇÃO. DESTES, 19 GANHARAM MEDALHAS. QUANTOS ATLETAS JAPONESES NÃO GANHARAM MEDALHAS?

D	U

R: \_\_\_\_\_



5. NOS JOGOS DO RIO DE JANEIRO, 68 ATLETAS DISPUTARAM O NADO SINCRONIZADO. EM TÓQUIO FORAM 56. SOMENTE NAS DUAS EDIÇÕES, QUANTOS ATLETAS DISPUTARAM O NADO SINCRONIZADO?

D	U

R: \_\_\_\_\_





UNIDADE ESCOLAR:

PROFESSOR(A)  ANO DE ESCOLARIDADE  DATA   
2º ANO

NOME:

HOJE É?

SEGUNDA  TERÇA  QUARTA  QUINTA  SEXTA

CÓDIGO BNCC

EF15LP02/EF15LP03

## ABC LÍNGUA PORTUGUESA

1. LEIA O TEXTO JUNTO DA PROFESSORA E RESPONDA:



### A TOCHA OLÍMPICA

VOCÊ SABIA QUE A TOCHA OLÍMPICA É UM DOS PRINCIPAIS SÍMBOLOS DAS OLIMPÍADAS? A CADA QUATRO ANOS É DESENVOLVIDO UM NOVO MODELO, DE ACORDO COM AS CARACTERÍSTICAS DO LUGAR ONDE SERÃO OS JOGOS. 100 DIAS ANTES DE INICIAR A COMPETIÇÃO, O FOGO NA PIRA OLÍMPICA É ACESO. TRADICIONALMENTE, OS ATLETAS E PERSONALIDADES ALTERNAM-SE PARA CARREGAR A TOCHA ATÉ O ACENDIMENTO DA PIRA. ISSO CHAMA-SE REVEZAMENTO DA TOCHA.

2. COMPLETE:

A) \_\_\_\_\_ É UM DOS PRINCIPAIS SÍMBOLOS DAS OLIMPÍADAS.

B) A CADA \_\_\_\_\_ É DESENVOLVIDO UM NOVO MODELO.

C) \_\_\_\_\_ ANTES DE COMEÇAR A \_\_\_\_\_  
O \_\_\_\_\_ NA PIRA OLÍMPICA É ACESO.

D) TRADICIONALMENTE OS \_\_\_\_\_ E  
\_\_\_\_\_ ALTERNAM-SE PARA CARREGAR A TOCHA.


E) ISSO CHAMA-SE REVEZAMENTO DA \_\_\_\_\_.

3. LEVE A TOCHA ATÉ O ESTÁDIO DE ABERTURA DOS JOGOS OLÍMPICOS:



4. ENCONTRE NO CAÇA-PALAVRAS O NOME DAS MODALIDADES ESPORTIVAS EM DESTAQUE:

NATAÇÃO – BASQUETE – BOXE – REMO – VÔLEI – KARATÊ – TÊNIS - SURFE



N	A	T	A	Ç	A	O	U	B
G	I	E	R	E	I	K	L	A
T	E	N	I	S	C	A	S	S
R	E	M	O	G	E	R	U	Q
B	L	S	R	R	D	A	R	U
O	L	N	B	I	T	T	F	E
X	A	M	B	M	A	E	E	T
E	U	W	A	A	E	S	C	E
V	O	L	E	I	P	P	L	E





UNIDADE ESCOLAR:

PROFESSOR(A)  ANO DE ESCOLARIDADE  DATA

2º ANO

NOME:

HOJE É?

SEGUNDA

TERÇA

QUARTA

QUINTA

SEXTA

CÓDIGO BNCC

EF02MA05

**123 MATEMÁTICA 123**

**CONTINHAS - SUBTRAÇÃO**

C	D	U
4	6	7
-	3	5 2

C	D	U
4	4	4
-	2	0 3

C	D	U
3	5	5
-		2 3

C	D	U
5	8	6
-	3	5 1

C	D	U
4	5	9
-		1 6


C	D	U
2	9	8
-		2 5

C	D	U
1	7	8
-		5 6

C	D	U
3	3	4
-		1 2

C	D	U
4	6	4
-		2 4

C	D	U
8	9	5
-	2	5 4



C	D	U
3	0	6
-	2	0 0





UNIDADE ESCOLAR:

PROFESSOR(A)

ANO DE ESCOLARIDADE

2º ANO

DATA

NOME:

HOJE É?

SEGUNDA

TERÇA

QUARTA

QUINTA

SEXTA

CÓDIGO BNCC

EF15LP02/EF15LP03

## LÍNGUA PORTUGUESA

1. Leia o texto com atenção e responda:

- Que é isso, meu craque? Não acha que está fazendo tempestade em copo d'água? Ganhar e perder faz parte do jogo. Depois, cá entre nós, é só uma pelada. Um joguinho de mada. Já imaginou se fosse final das Olimpíadas?

- Pai, a minha pelada é final Olímpica!

(Cuter desconhecido)

2. Por que Vitinho ficou tão triste?

---

3. O que representa para Vitinho uma simples pelada?

---

4. Com quem o garoto está falando?

( ) Com o pai.

( ) Com o tio.

( ) Com o irmão.

5. Qual esporte olímpico é retratado no verso?

( ) Natações.

( ) Futebol.

( ) Vôlei.

