

PREFEITURA MUNICIPAL DE BOM JESUS DO ITABAPOANA-RJ
SECRETARIA MUNICIPAL DE EDUCAÇÃO, ESPORTE E LAZER

SEMEEL

A mudança está em nossas mãos

Atividades Orientadoras



3^o
ano



Ensino Fundamental

UNIDADE ESCOLAR:

PROFESSOR(A)

ANO DE ESCOLARIDADE

3º ANO

DATA

NOME:

HOJE É?

SEGUNDA

TERÇA

QUARTA

QUINTA

SEXTA

CÓDIGO BNCC

EF03LP24

LÍNGUA PORTUGUESA



PARIS 2024



Leia o texto abaixo:

JOGOS OLÍMPICOS

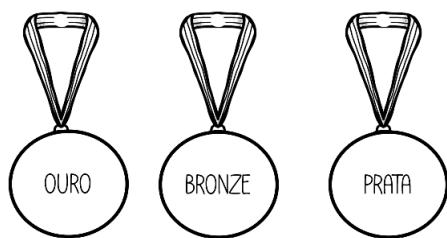
Os Jogos Olímpicos são considerados como um dos maiores eventos esportivos do mundo. Esses jogos acontecem a cada quatro anos. No ano de 2024, os Jogos Olímpicos acontecerão em Paris.



Um dos principais símbolos das Olimpíadas é a bandeira com os **anéis olímpicos**, simbolizando a união entre os cinco continentes.


Cada anel possui uma cor diferente, associada a um continente específico: o azul representa a Europa, o amarelo a Ásia, o preto a África, o verde a Oceania e o vermelho as Américas.

A **tocha olímpica** percorre diversos países, sendo conduzida pelos melhores esportistas e grandes nomes do país. Após percorrer as ruas, a tocha é usada para acender a pira olímpica no dia da abertura.



A premiação dos vencedores é realizada através de **medalhas**. O 1º colocado em cada competição, recebe a medalha de ouro, o 2º, medalha de prata e o 3º, medalha de bronze. Por sua história e importância, só em participar dos Jogos Olímpicos, todos já são vitoriosos.

A **mascote** das Olimpíadas de 2024 em Paris é um simpático chapéu vermelho chamado "**Phryge**". Phryge parece um chapéu fofinho com olhos e sorriso e representa liberdade e alegria.



Os Jogos Olímpicos são uma oportunidade para os atletas mostrarem todo o seu talento e dedicação, além de promover a união e a paz entre as nações. Entre as modalidades praticadas nesses jogos, estão vários tipos de esportes como **atletismo, natação, judô, vôlei**, entre muitos outros.



Os **Jogos Paralímpicos** são uma competição incrível, como as olimpíadas, mas para atletas com deficiências. Esses atletas são super talentosos e competem em muitos esportes, como corrida, natação e basquete, em cadeira de rodas. Os jogos paralímpicos mostram que todos podem ser campeões e inspiram pessoas no mundo todo com suas histórias de coragem e superação.


Atividades

1. Qual é o intervalo de anos entre a realização dos Jogos Olímpicos?

- a) De 2 em 2 anos.
- b) De 4 em 4 anos.
- c) De 3 em 3 anos.
- d) De 5 em 5 anos.

2. Conforme o texto lido, os anéis olímpicos representam:

- a) a alegria dos atletas participantes.
- b) a força e coragem dos brasileiros.
- c) a união dos cinco continentes.
- d) a paz e dedicação dos atletas.



3. Em que cidade da Europa acontecerão os Jogos Olímpicos no ano de 2024?

4. Liste três modalidades esportivas presentes nos Jogos Olímpicos.

5. Ligue de acordo com a cor que representa cada continente dos anéis olímpicos.

Azul

Amarelo

Preto

Verde

Vermelho

África


Américas

Oceania

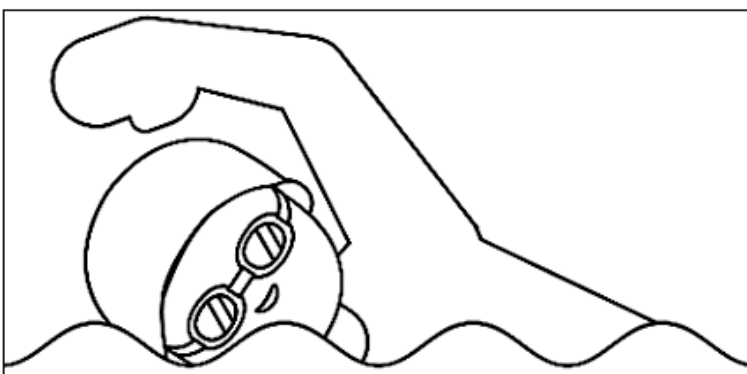
Europa

Ásia

➤ Pinte corretamente os anéis olímpicos com as cores correspondentes no texto.



6. A imagem abaixo representa um esporte praticado nos Jogos Olímpicos. Veja:



➤ Que esporte é esse?

2. Observe o quadro abaixo:

Jogos Olímpicos de Tóquio 2020
Quadro de Medalhas

Países				Total
1  Estados Unidos	39	41	33	113
2  China	38	32	18	88
3  Japão	27	14	17	58
4  Reino Unido	22	21	22	65
12  Brasil	7	6	8	21

a) Qual foi o primeiro colocado?

b) Qual o total de medalhas do Reino Unido e Brasil?

C	D	U

➤ Escreva esse total por extenso:

3. Leia:

As Olimpíadas originaram-se por volta do século VII a.C. O primeiro atleta a vencer uma prova em Olimpíada teria sido Corobeu, em 776 a.C. – a prova era de corrida.

Observe o número destacado no texto e faça o que se pede.

a) Escreva esse número por extenso _____



b) O **antecessor** desse número é o _____

c) O **sucessor** desse número é o _____


d) Escreva o algarismo que ocupa a ordem das **unidades**. _____

e) Escreva o algarismo que ocupa a ordem das **dezenas**. _____

f) Escreva o algarismo que ocupa a ordem das **centenas**. _____

4. Complete: Sabendo que as Olimpíadas ocorrem de 4 em 4 anos, na coluna da esquerda escreva os anos em que as Olimpíadas serão realizadas, e, na coluna da direita, a sua idade.

ANO	MINHA IDADE
2024	



UNIDADE ESCOLAR:

PROFESSOR(A) ANO DE ESCOLARIDADE DATA

3º ANO

NOME:

HOJE É?

SEGUNDA TERÇA QUARTA QUINTA SEXTA

CÓDIGO BNCC

EF15LP04 – EF03LP24 – EF03LP01 – EF35LP12

LÍNGUA PORTUGUESA

Gênero textual - Tirinha



A **tirinha** é um gênero textual que surgiu devido à falta de espaço nos jornais para a publicação passatempos. O nome "tirinha" remete ao formato do texto, que parece um "recorte" de jornal.

Leia a tirinha abaixo:



1. De acordo com a tirinha, marque a resposta correta:

a) Quem são os personagens da tirinha?

- Cascão, Franjinha e Mônica.
 Magali, Cascão e Cebolinha.
 Cascão, Cebolinha e Mônica.

b) O que Mônica achou da brincadeira?

- Fácil de realizar, moleza.
 Difícil de realizar.
 Muito chata.



Copyright © 2000 Mauricio de Sousa Produções Ltda. Todos os direitos reservados.

c) A brincadeira que Cebolinha e Cascão queriam mostrar à Mônica é o "Salto com Vara". Mônica realizou da maneira correta?

- Sim, pois ela não usou a vara e podia passar por baixo.
 Não, pois o objetivo da brincadeira é saltar por cima com a vara para alcançar a maior altura.





Leitura e interpretação

1. Leia o texto abaixo:


AS OLIMPÍADAS DOS ANIMAIS

LUANA ZACARIAS

Os animais da Floresta Grotão
Estão treinando para as olimpíadas.
O organizador desse grande acontecimento
É o empolgado Rei Leão.





A girafa Gina vai participar da ginástica rítmica.
Está equilibrando muito bem o bambolê no pescoço.
Enquanto do seu lado a cutia Mimica
Prepara-se para a corrida.



O hipopótamo Joca está preparado
Para a grande luta de boxe
E o macaco Dourado
Ainda precisa treinar muito para o judô.



O cão Julião escolheu o esgrima
E a porquinha Juju a natação.
O sapo Cururu e o gato Mimo
São os representantes do atletismo.



Onça Zelda foi a escolhida
Para levar a tocha olímpica.
E todos os animais que sobraram
Farão parte da torcida.

Compreendendo o texto

2. Os animais que irão participar das olimpíadas são de qual floresta?

- () Floresta Bolão.
- () Floresta Gatão.
- () Floresta Grotão.
- () Floresta Balão.

3. O que a girafa Gina está conseguindo equilibrar no pescoço?

- () bola
- () boneca
- () fita
- () bambolê

4. Quem está organizando o grande acontecimento?

5. No texto, aparece um animal que ainda precisa treinar muito. Quem é ele?

6. A tocha é um símbolo das olimpíadas e no grande evento da Floresta Grotão, por quem ela será levada?


7. Ligue cada animal ao esporte que irá participar nas olimpíadas dos bichos:



GINÁSTICA RÍTMICA



ESGRIMA



NATAÇÃO



JUDÔ



BOXE



ATLETISMO



CORRIDA

8. Retire do texto 2 palavras escritas com “m” antes de p e b.

9. Agora, com a ajuda de um dicionário, pesquise outras palavras escritas com “m” antes de p e b e escreva no espaço abaixo:



UNIDADE ESCOLAR:

PROFESSOR(A) ANO DE ESCOLARIDADE DATA

NOME:

HOJE É?
 SEGUNDA TERÇA QUARTA QUINTA SEXTA

CÓDIGO BNCC
EF03MA05.RJ – EF03MA25 – EF03MA03

123 MATEMÁTICA 123

ESTIMATIVA DE RESULTADOS

1. Pretendo fazer um sorteio das letras da palavra PARIS. Qual a maior chance: tirar uma consoante ou uma vogal?

P A R I S

2. Em uma caixa há 3 medalhas de ouro e 3 medalhas de prata. Uma medalha é escolhida aleatoriamente da caixa. Qual dos seguintes eventos pode acontecer? Marque a resposta correta:

a) () Uma medalha de bronze é escolhida.

b) () Uma medalha de ouro é escolhida.

c) () Um troféu é escolhido.



3. Uma grande empresa está realizando uma rifa beneficente de 1 ingresso para as Olimpíadas de Paris. A rifa terá 1000 números e somente 1 será sorteado. Ana comprou 20 números e Luiz comprou 100. Quem tem mais chance de ganhar? Marque a resposta certa:

a) () Ana e Luiz possuem chances iguais.

b) () Ana possui mais chance de ganhar.

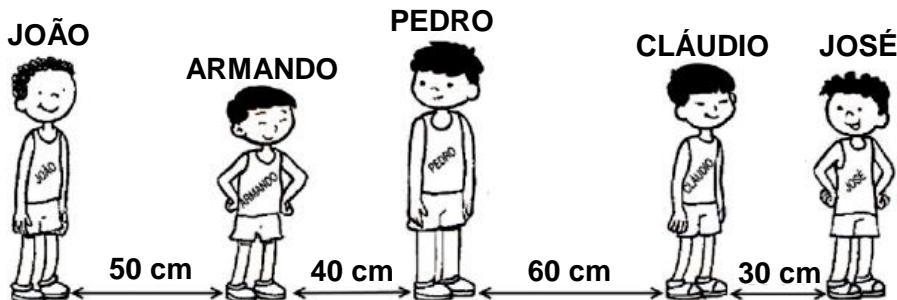
c) () Luiz possui mais chance de ganhar.



PARIS 2024



4. Na ginástica, os atletas fizeram fila para aguardar a vez da apresentação. Veja a distância entre eles na fila.



➤ Qual a distância entre João e Cláudio?

() Mais de 150 cm.

() Exatamente 150 cm.

() menos de 150 cm.

5. Resolva os problemas Olímpicos:

a) No tênis de mesa, um atleta fez 136 pontos e o outro fez 113. Qual foi o total de pontos feitos?

C	D	U


Resposta: _____



b) No final do tênis, o Brasil fez 73 pontos e a França fez 36. Quantos pontos os dois países fizeram ao todo?

C	D	U

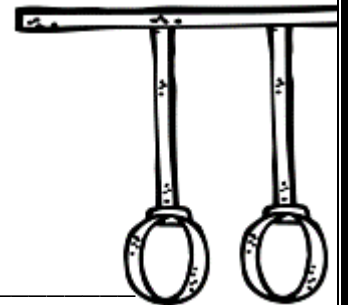
Resposta: _____



c) Nas argolas, o ginasta brasileiro fez 15 pontos na primeira fase e 28 pontos na segunda. Ao todo, quantos pontos o ginasta fez?

C	D	U

Resposta: _____



d) No beisebol, a Itália venceu a Suíça por 25 a 22. Quantos pontos foram feitos nesse jogo?

C	D	U

Resposta: _____

