

PREFEITURA MUNICIPAL DE BOM JESUS DO ITABAPOANA-RJ
SECRETARIA MUNICIPAL DE EDUCAÇÃO, ESPORTE E LAZER

SEMEEL

A mudança está em nossas mãos

Atividades Orientadoras



1º
ano

Ensino Fundamental

UNIDADE ESCOLAR:

PROFESSOR(A) ANO DE ESCOLARIDADE DATA
1º ANO

NOME:

HOJE É?

SEGUNDA TERÇA QUARTA QUINTA SEXTA

CÓDIGO BNCC

EF12LP04/EF01LP17

LÍNGUA PORTUGUESA

O CARTAZ

O OBJETIVO DO CARTAZ É ESTABELECEER UMA INTERAÇÃO COM O RECEPTOR DA MENSAGEM, É COMUNICAR ALGO A ALGUÉM, QUE PODE SER SIMPLEMENTE UMA INFORMAÇÃO ACERCA DE UM EVENTO.

1. ANALISE O CARTAZ ABAIXO:



SENSACIONAL FESTA DE AGOSTO NO MUNICÍPIO DE BOM JESUS DO ITABAPOANA

DE 11 A 15

**SHOWS, BARRACAS, DESFILE CÍVICO, EXPOSIÇÕES
FOTOGRAFICAS, PARQUE DE DIVERSÃO E MUITO
MAIS.**

2. OBSERVE E ESCREVA QUAIS OS ELEMENTOS QUE COMPÕEM O CARTAZ:

3. PARA QUE SERVE UM CARTAZ?

4. QUAL É O ASSUNTO DESSE CARTAZ?


5. ONDE ACONTECERÁ O EVENTO? _____

6. QUANDO? _____

7. QUAIS SÃO AS ATRAÇÕES? _____

BILHETE

SÃO TEXTOS COMUNICATIVOS QUE CONTÊM MENSAGENS SIMPLES, OS QUAIS SÃO ESCRITOS EM PEQUENOS PAPÉIS E ENVIADOS PARA AMIGOS DE ESCOLA, IRMÃO, MÃE, DENTRE OUTROS.



A COORDENAÇÃO DA ESCOLA INFORMA AOS RESPONSÁVEIS, QUE TODAS AS CRIANÇAS QUE IRÃO PARTICIPAR DO DESFILE ESCOLAR, NO DIA 15 DE AGOSTO, DEVERÃO ESTAR NA ESCOLA PONTUALMENTE NO HORÁRIO MARCADO.

A COORDENAÇÃO.

12/08/2024

8. VOCÊ CONHECE ESSE GÊNERO TEXTUAL? _____

9. PARA QUE SERVE UM BILHETE?

10. DO QUE SE TRATA ESSE BILHETE?

11. QUEM ESTÁ ENVIANDO ESSE BILHETE?

12. A QUEM ESSE BILHETE ESTÁ SENDO ENVIADO?

13. QUANDO OCORRERÁ O DESFILE? _____

14. QUANDO O BILHETE FOI ESCRITO? _____

15. QUE RECOMENDAÇÃO ESTÁ SENDO FEITA NO BILHETE?

16. O QUE QUER DIZER A PALAVRA "PONTUALMENTE" NO BILHETE?



UNIDADE ESCOLAR:

PROFESSOR(A) ANO DE ESCOLARIDADE DATA

NOME:

HOJE É?

SEGUNDA

TERÇA

QUARTA

QUINTA

SEXTA

CÓDIGO BNCC

EF01MA08/EF01MA01/EF01MA03.RJ

123 MATEMÁTICA 123

1. COMPLETE A SEQUÊNCIA NUMÉRICA:

1					6				10
	12			15			18		
		23	24			27			30
	32		34					39	
41				45		47			50
		53			56			59	
	62		64			67			
71				75			78		80
	82		84				88	89	
		93			96	97			

- A) QUAL O MAIOR NÚMERO DESSA SEQUÊNCIA? _____.
- B) QUAL O MENOR NÚMERO DESSA SEQUÊNCIA? _____.
- C) QUAL NÚMERO CORRESPONDE A NOVE DEZENAS? _____.
- D) QUE NÚMERO REPRESENTA SETE DEZENAS E OITO UNIDADES? _____.
- E) PINTE OS NÚMEROS PARES.

2. PENSE RÁPIDO E RESPONDA:

A) ANA E JOANA ESTÃO JOGANDO DAMA. ANA GANHOU 4 PARTIDAS E JOANA GANHOU 10. QUANTAS PARTIDAS JOANA GANHOU A MAIS QUE ANA? _____.

B) UM TIME DE FUTEBOL É COMPOSTO POR 12 JOGADORES. CHEGARAM 7 PARA TREINAR. QUANTOS JOGADORES AINDA NÃO CHEGARAM? _____.

C) JOÃO TEM 13 ANOS E SEU IRMÃO TEM 4. QUANTOS ANOS JOÃO É MAIS VELHO QUE SEU IRMÃO? _____.

D) TODOS OS DIAS AS GALINHAS DA DONA CÉLIA BOTAM 12 OVOS NO TOTAL. DONA CÉLIA JÁ RECOLHEU 3 OVOS DO GALINHEIRO. QUANTOS ELA AINDA FALTA RECOLHER? _____.

E) MÁRCIA E MARIA FIZERAM DOCES PARA A FESTA DE ANIVERSÁRIO. MÁRCIA FEZ 18 E MARIA FEZ 10. QUANTOS DOCES ELAS FIZERAM JUNTAS? _____.

F) HOJE É ANIVERSÁRIO DE CAIO. ELE ESTÁ FAZENDO 18 ANOS. SUA MÃE FEZ UM BOLO E COLOCOU 9 VELAS. QUANTAS AINDA FALTAM COLOCAR? _____.

3. CALCULE E RESPONDA:

A) $5 + 6 =$ _____

E) $12 - 6 =$ _____

B) $8 + 5 =$ _____

F) $15 - 4 =$ _____

C) $5 + 7 =$ _____

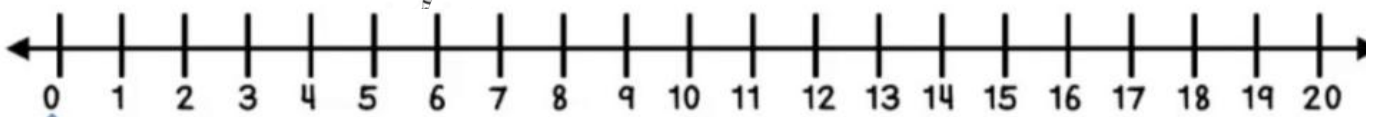
G) $13 - 7 =$ _____

D) $5 + 8 + 6 =$ _____

H) $14 - 7 - 3 =$ _____

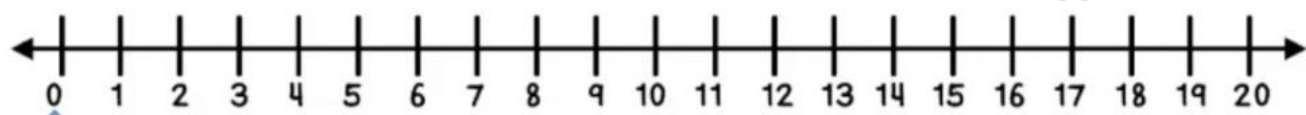
4. OBSERVE A RETA NUMÉRICA E RESPONDA CORRETAMENTE:

A) ANDRÉ ESTAVA NO **NÚMERO 6** E **ANDOU 8 PASSOS PARA FRENTE**. EM QUAL NÚMERO ANDRÉ CHEGOU?



ANDRÉ CHEGOU AO NÚMERO:

B) ROMÁRIO ESTAVA NO **NÚMERO 17** E **ANDOU 6 PASSOS PARA TRÁS**. EM QUAL NÚMERO ROMÁRIO CHEGOU?



ROMÁRIO CHEGOU AO NÚMERO:



UNIDADE ESCOLAR:

PROFESSOR(A)

ANO DE ESCOLARIDADE

DATA

NOME:

HOJE É?

SEGUNDA

TERÇA

QUARTA

QUINTA

SEXTA

CÓDIGO BNCC

EF01LP07.RJ

ABC LÍNGUA PORTUGUESA

1. Cutedidade:

Janela - boneca - bola - peteca - memine
- casa - tapete - jacaré - televisão



