

PREFEITURA MUNICIPAL DE BOM JESUS DO ITABAPOANA-RJ  
SECRETARIA MUNICIPAL DE EDUCAÇÃO, ESPORTE E LAZER

# Atividades Orientadoras



## Educação de Jovens e Adultos

### FASE I



UNIDADE ESCOLAR:

PROFESSORA

DATA

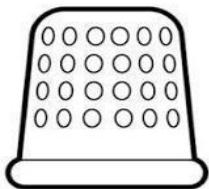
NOME:

FASE

CÓDIGO BNCC

**LP** **LÍNGUA PORTUGUESA**

1- LEIA E CIRCULE O NOME DE CADA FIGURA:




DEDAL  
DAMA  
DEDO



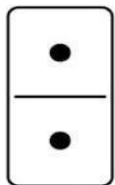
DONA  
DIAMANTE  
DITADO



DEDO  
DIA  
DENTE




DIA  
DAMA  
DEDO



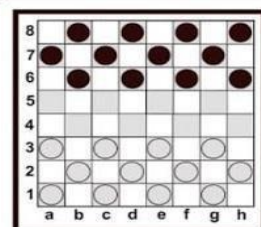
DOMINÓ  
DOIDO  
DITADO



DICA  
DIA  
DINHEIRO



DAMA  
DEDO  
DADO



DUELO  
DAMA  
DEDINHO



DADO  
DEDO  
DONA



DATA  
DAMA  
DOCE

2- COMPLETE AS LETRAS QUE FALTAM NAS PALAVRAS, DE ACORDO COM OS DESENHOS:

C	A	D	E	A	D	O
C		D			D	
C			E		D	
C				A		



D	A	D	O
D		D	
		D	
D			



D	E	D	O
D		D	
D			
		D	



UNIDADE ESCOLAR:

PROFESSORA

DATA

NOME:


FASE

CÓDIGO BNCE EFEJAFI-IVM02/EFEJAFI-IVM12/EFEJAFI-IVM15

**MA**

**MATEMÁTICA**

1- EMANUEL IRÁ ACOMPANHAR SEU AVÔ PARA FAZER A CÓPIA DA CHAVE DE SUA CASA. CIRCULE ONDE ELES TERÃO QUE IR NA IMAGEM ABAIXO E DEPOIS RESPONDA:



A) ESTÁ À DIREITA DA IGREJA:

( ) PRAÇA

( ) BANCO

( ) LANCHONETE

B) ESTÁ EM FRENTE AO CHAVEIRO:

( ) PRAÇA

( ) BANCO

( ) IGREJA

2- MOSTRE QUE VOCÊ ESTÁ ATENTO E EFETUE AS SOMAS DOS DADOS:

$$\begin{array}{|c|} \hline \bullet \bullet \\ \bullet \bullet \\ \bullet \bullet \\ \hline \end{array} + \begin{array}{|c|} \hline \\ \bullet \\ \hline \end{array} = \square$$

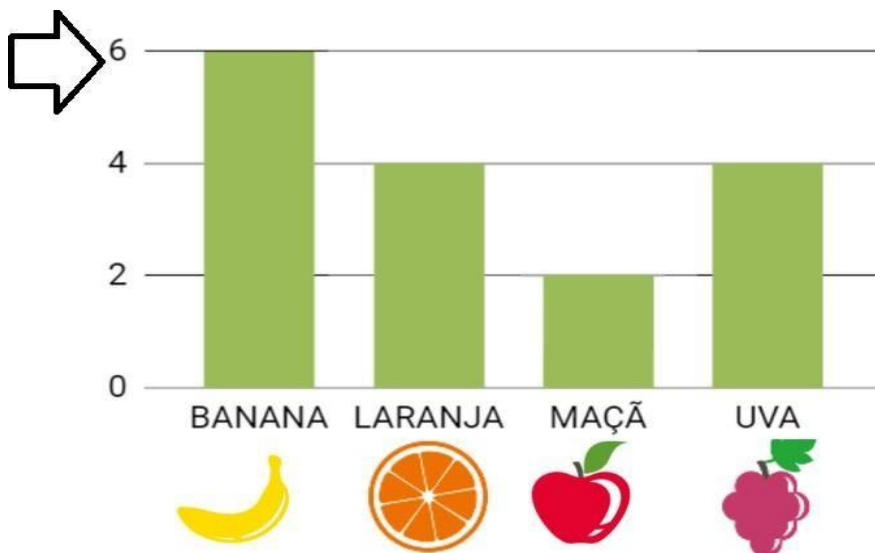
$$\begin{array}{|c|} \hline \bullet \bullet \\ \bullet \bullet \\ \hline \end{array} + \begin{array}{|c|} \hline \bullet \bullet \\ \bullet \bullet \\ \hline \end{array} = \square$$

$$\begin{array}{|c|} \hline \bullet \bullet \\ \bullet \bullet \\ \hline \end{array} + \begin{array}{|c|} \hline \bullet \\ \\ \bullet \\ \hline \end{array} = \square$$

$$\begin{array}{|c|} \hline \bullet \bullet \\ \bullet \bullet \\ \bullet \\ \hline \end{array} + \begin{array}{|c|} \hline \bullet \\ \\ \bullet \\ \hline \end{array} = \square$$

3- ESTAS SÃO AS FRUTAS PREFERIDAS DAS NETAS DE DONA CARMEM.

OBSERVE O GRÁFICO E RESPONDA ÀS PERGUNTAS:



	<b>6</b>

A) QUAL FRUTA FOI MAIS VOTADA?

( ) BANANA      ( ) LARANJA      ( ) MAÇÃ      ( ) UVA

B) QUAL FOI A MENOS VOTADA?

( ) BANANA      ( ) LARANJA      ( ) MAÇÃ      ( ) UVA

C) QUAIS FRUTAS TÊM A MESMA QUANTIDADE DE VOTOS?

( ) BANANA      ( ) LARANJA      ( ) MAÇÃ      ( ) UVA



UNIDADE ESCOLAR:

DATA

PROFESSORA

NOME:

FASE

FI

CÓDIGO BNCC

EFEJAFILP01/EFEJAFILP05/  
EFEJAFILP07/EFEJAFILP21



1- OS RÓTULOS ESTÃO PRESENTES NA IDENTIFICAÇÃO DOS PRODUTOS QUE COMPRAMOS PARA NOSSA CASA. OBSERVE OS RÓTULOS A SEGUIR E COMPLETE AS FRASES COM OS NOMES DOS PRODUTOS CORRETAMENTE:



A) ANA COMPROU PARA BEBER O REFRIGERANTE \_\_\_\_\_.

B) MAMÃE USA O SABÃO EM PÓ DA MARCA \_\_\_\_\_ PARA LAVAR ROUPAS.

C) O CHOCOLATE PREFERIDO DA MINHA FILHA É \_\_\_\_\_.

2- OBSERVE O RÓTULO DO SABÃO EM PÓ.

A) ESSE PRODUTO É:



( ) ALIMENTO

( ) BEBIDA

( ) PRODUTO DE LIMPEZA

B) ESCREVA A MARCA DO SABÃO EM PÓ: \_\_\_\_\_


C) QUANTAS LETRAS ESSA MARCA POSSUI? \_\_\_\_\_

D) QUAL É A SUA LETRA INICIAL? \_\_\_\_\_

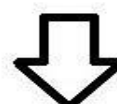
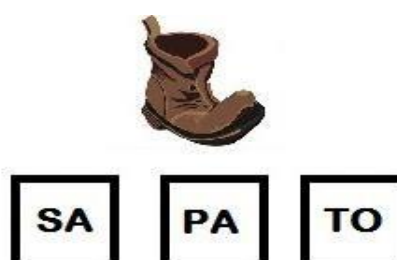

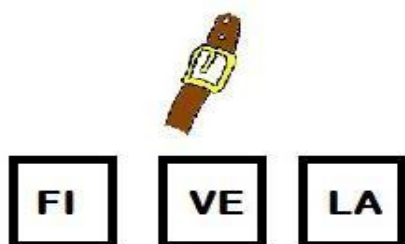

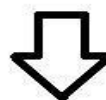
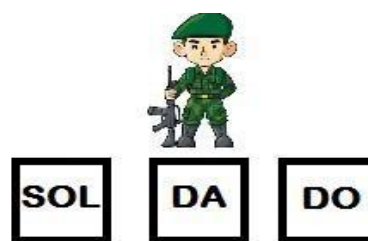
E) QUAL A SUA LETRA FINAL? \_\_\_\_\_

3- QUE TAL ACHARMOS UMA PALAVRA DENTRO DA OUTRA? É ASSIM: LEIA AS SÍLABAS E DESCUBRA QUAL PALAVRA ESTÁ ESCONDIDA.

VEJA O EXEMPLO:



JACA





UNIDADE ESCOLAR:

PROFESSORA

DATA

NOME:

FASE

CÓDIGO BNCC

**MA** **MATEMÁTICA**

1- ENCONTRE OS ANTECESSORES E SUCESSORES DOS NÚMEROS ABAIXO:

5

21

19

3

17

11

29

2

8

15

12

4



2- LIGUE AS SUBTRAÇÕES AOS RESULTADOS CORRETOS:

$38 - 16$

53

$74 - 54$

50

$42 - 30$

20

$97 - 44$

22

$80 - 30$

12

3- COMPLETE A SEQUÊNCIA NUMÉRICA DE 1 A 30:

<b>1</b>					
					<b>30</b>



UNIDADE ESCOLAR:

PROFESSORA

DATA

NOME:

FASE

CÓDIGO BNCC



1- COMPLETE AS PALAVRAS COM AS VOGAIS:

**A- E- I- O- U**




**M \_ R \_ N G \_**




**B \_ N \_ N \_**



**\_ B \_ C \_ X \_**




**\_ V \_**



**L \_ R \_ N J \_**

2- ENCONTRE NO DIAGRAMA O NOME DAS FRUTAS:



B	A	N	A	N	A	V	I
S	M	U	V	A	P	E	U
B	L	A	R	A	N	J	A
J	A	B	A	C	A	X	I
M	O	R	A	N	G	O	P

3- COMPLETE AS PALAVRAS COM B OU P:



TA\_\_\_\_\_ETE



A\_\_\_\_\_ITO



CE\_\_\_\_\_OLA



SA\_\_\_\_\_ÃO