

PREFEITURA MUNICIPAL DE BOM JESUS DO ITABAPOANA-RJ
SECRETARIA MUNICIPAL DE EDUCAÇÃO, ESPORTE E LAZER

Atividades Orientadoras



Educação de Jovens e Adultos

FASE II

UNIDADE ESCOLAR:

PROFESSORA

DATA

NOME:

FASE

CÓDIGO BNCC



OBSERVE O ALFABETO ABAIXO E CIRCULE AS VOGAIS:

A B C D E F G H I J K L M N O P Q R S T U V W X Y Z

1- AGORA COMPLETE O ALFABETO COM AS LETRAS QUE **ESTÃO FALTANDO**:

A ___ C ___ E F ___ H I ___ K L ___ N O ___ Q R ___ T ___
V ___ X Y ___

2- QUE TAL ESCREVERMOS UMA LISTA DE COMPRAS? OBSERVE OS PRODUTOS PRESENTES NO CARRINHO E COMPLETE AS PALAVRAS COM **AS VOGAIS** QUE ESTÃO FALTANDO!

LISTA DE COMPRAS

FEIJ ___

AÇÚC ___ R

SUC ___

C ___ F ___

ÓL ___ O

S ___ B ___ N ___ T ___

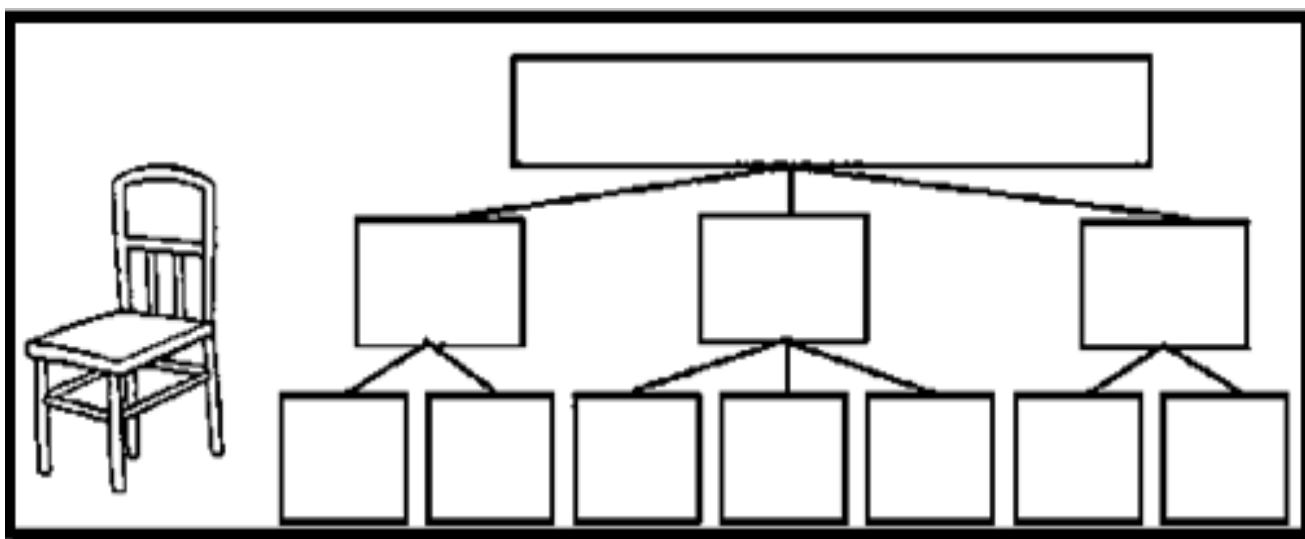
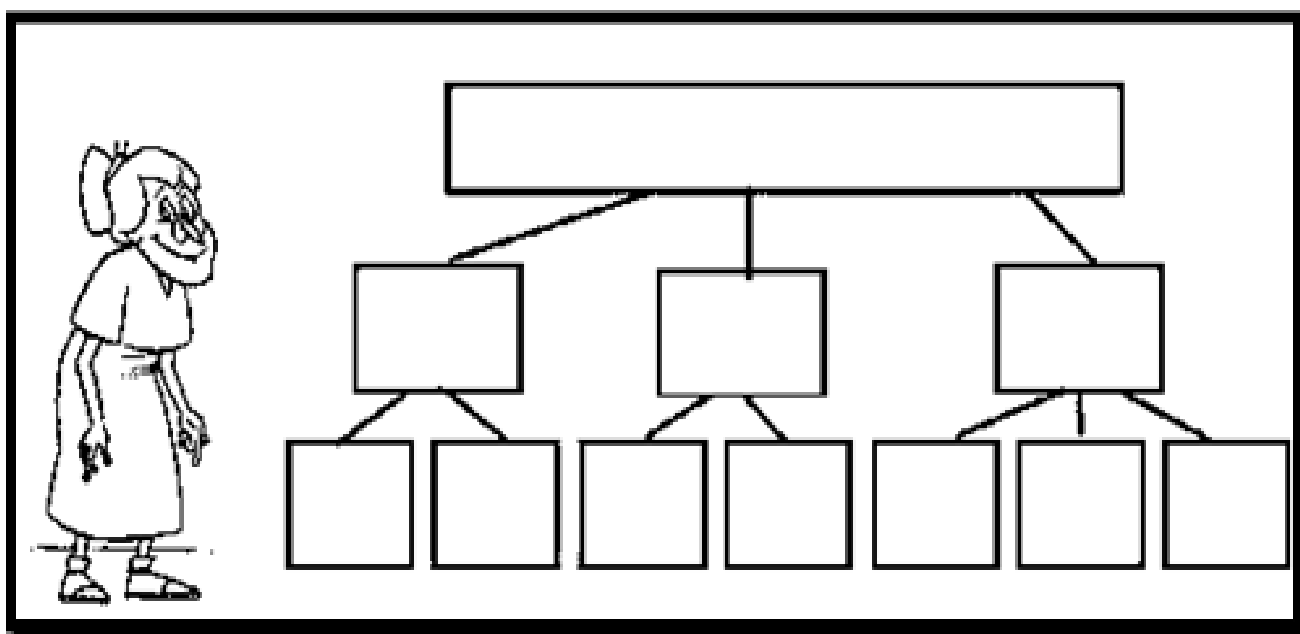
B ___ SCO ___ T ___



3- VAMOS LER A PARLENDIA ABAIXO, QUE FAZ PARTE DO FOLCLORE BRASILEIRO:

O MACACO FOI À FEIRA, NÃO SABIA O QUE COMPRAR.
COMPROU UMA **CADEIRA** PRA **COMADRE** SE SENTAR.
A **COMADRE** SE SENTOU, A **CADEIRA** ESCORREGOU.
COITADA DA **COMADRE!** FOI PARAR NO CORREDOR.

A) PRIMEIRO VOCÊ VAI ESCREVER A **PALAVRA**, DEPOIS, VAI ESCREVER AS **SÍLABAS** E POR ÚLTIMO, AS **LETRAS** QUE FORMAM A PALAVRA QUE DÁ NOME À IMAGEM AO LADO.



UNIDADE ESCOLAR:

PROFESSORA

DATA

NOME:

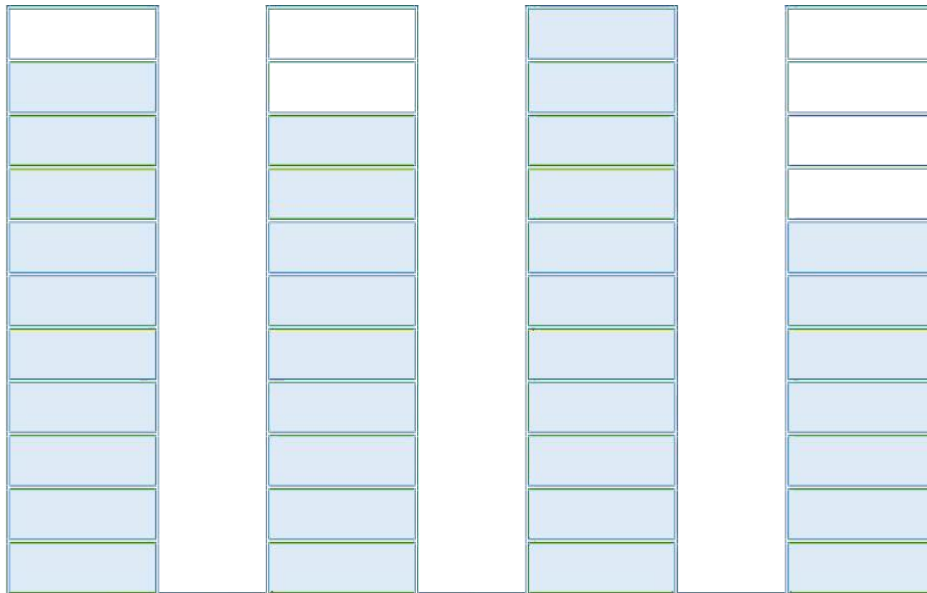
FASE

CÓDIGO BNCC

MA

MATEMÁTICA

1- VEJA A QUANTIDADE DE BISCOITOS VENDIDOS NO ARMAZÉM DO SEU JOAQUIM E DEPOIS RESPONDA ÀS PERGUNTAS ABAIXO.



A) QUAL É O BISCOITO QUE VENDEU MAIS?

() PASSATEMPO () TRAKINAS () NEGRESKO () BONO

B) QUAL É O BISCOITO QUE VENDEU MENOS?

() PASSATEMPO () TRAKINAS () NEGRESKO () BONO

C) QUANTOS BISCOITOS PASSATEMPO FORAM VENDIDOS?

() 10 () 11 () 07 () 09



UNIDADE ESCOLAR:

PROFESSORA

DATA


NOME:

FASE

CÓDIGO BNCC



1- COMPLETE AS PALAVRAS COM AS VOGAIS, OBSERVANDO OS DESENHOS:

P	<input type="text"/>	TO	
P	<input type="text"/>	NA	
P	<input type="text"/>	LHA	
P	<input type="text"/>	RTA	
P	<input type="text"/>	LO	
P	<input type="text"/>	IXE	

2- ESCREVA AS VOGAIS USADAS NA ATIVIDADE ANTERIOR:

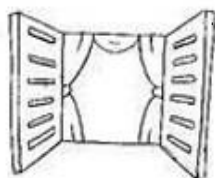
<input type="text"/>	<input type="text"/>	<input type="text"/>	<input type="text"/>	<input type="text"/>	<input type="text"/>
----------------------	----------------------	----------------------	----------------------	----------------------	----------------------

3- CIRCULE O NOME CORRETO DE CADA DESENHO E COPIE NO ESPAÇO AO LADO:



SAPATO

SACOLA




PANELA

JANELA



MOTO

BOTO



FACA

VACA



MALA

LATA



UVA

LUVA



DADO

DEDO



UNIDADE ESCOLAR:

PROFESSORA

DATA

NOME:

FASE

CÓDIGO BNCC



FASES DA LUA

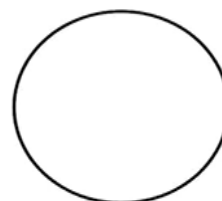

A LUA É O SATÉLITE NATURAL DA TERRA E AO CONTRÁRIO DO SOL, NÃO TEM LUZ PRÓPRIA. A LUA RECEBE A LUZ SOLAR E A REFLETE. ESSA LUMINOSIDADE NÃO É SEMPRE A MESMA, POIS, ÀS VEZES, A TERRA ENTRA NA FRENTE DO SOL E ISSO MUDA A QUANTIDADE DE LUZ QUE A LUA RECEBE. ESSAS MUDANÇAS NA LUZ SÃO CHAMADAS DE FASES DA LUA. CADA FASE DURA, APROXIMADAMENTE, 7 DIAS. A LUA PASSA POR 4 FASES.

LUA CHEIA: O REFLEXO DA LUZ É VISÍVEL EM TODA A SUPERFÍCIE DA LUA.

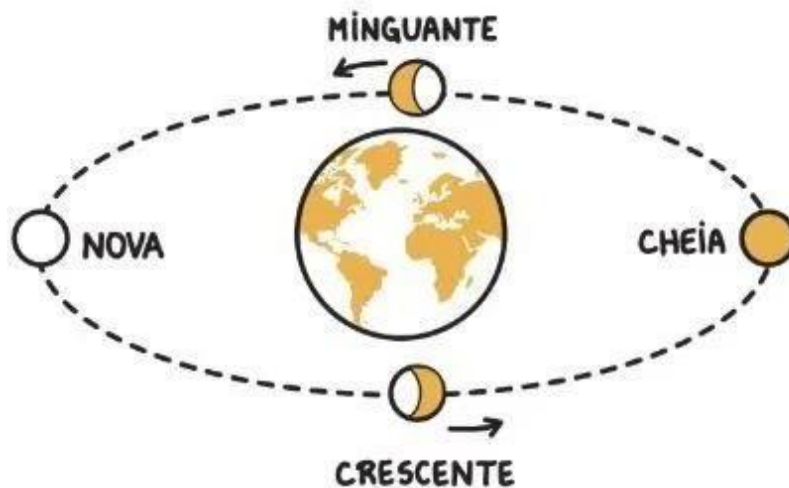
LUA NOVA: O SOL ILUMINA A FACE QUE NÃO ESTÁ VIRADA PARA A TERRA, POR ISSO NÃO PODEMOS VER A LUZ SENDO REFLETIDA.

LUA CRESCENTE E LUA MINGUANTE: APENAS METADE DA LUA FICA VISÍVEL.

NOMEIE AS 4 FASES DA LUA, DE ACORDO COM O QUE LEU ACIMA:



ENCONTRE NO DIAGRAMA, O NOME DAS QUATRO FASES DA LUA:





UNIDADE ESCOLAR:

PROFESSORA

DATA

NOME:

FASE

II

CÓDIGO BNCC

GE

GEOGRAFIA

TRABALHO

O TRABALHO É UMA ATIVIDADE ESSENCIAL PARA TODOS OS SERES HUMANOS, SEJA REALIZADO DE FORMA FÍSICA OU INTELECTUAL, ELE TEM MUITA IMPORTÂNCIA PARA AS PESSOAS. SUA FINALIDADE É PRODUZIR ALGO, SEJA BENS OU SERVIÇOS. POR MEIO DELE, AS PESSOAS CONSTROEM RELAÇÕES AMIGÁVEIS E GARANTEM O SEU SUSTENTO.

QUAIS SÃO AS PRINCIPAIS MODALIDADES DE TRABALHO?

EM RESUMO, AS SETE MODALIDADES DE TRABALHO MAIS COMUNS SÃO: TRABALHO ASSALARIADO, TEMPORÁRIO, MEIO PERÍODO, INTERMITENTE, TEMPO INTEGRAL, AUTÔNOMO OU FREELANCER E REMOTO OU HOME OFFICE.

MARQUE UM X NA RESPOSTA CERTA:

1- POR MEIO DO TRABALHO, AS PESSOAS:

- A () BRINCAM DE ESTUDAR.
- B () GANHAM BRINQUEDOS.
- C () GARANTEM O SEU SUSTENTO.
- D () ASSEGURAM A SAÚDE.

2- ENCONTRE NO DIAGRAMA, ALGUNS TRABALHOS DO NOSSO DIA A DIA:

CANTOR	MECÂNICO	PADEIRO
PROFESSOR	JARDINEIRO	PINTOR

C	A	N	T	O	R	J	M	P	G
K	V	E	L	P	I	N	T	O	R
O	O	P	A	R	I	J	C	N	C
Y	M	E	C	A	N	I	C	O	O
B	O	L	T	F	V	Y	N	O	D
N	O	K	F	E	P	L	I	R	E
T	E	C	P	A	D	E	I	R	O
P	C	D	L	S	T	F	O	A	H
P	R	O	F	E	S	S	O	R	P
G	M	Y	O	P	B	D	J	R	L
J	A	R	D	I	N	E	I	R	O

3- ESCOLHA 3 PALAVRAS DO DIAGRAMA E FAÇA 3 FRASES: