

PREFEITURA MUNICIPAL DE BOM JESUS DO ITABAPOANA-RJ
SECRETARIA MUNICIPAL DE EDUCAÇÃO, ESPORTE E LAZER

Atividades Orientadoras



Educação de Jovens e Adultos

FASE II



UNIDADE ESCOLAR:

PROFESSORA

DATA

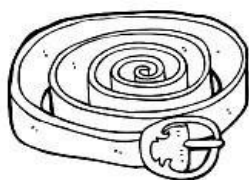
NOME:

FASE

CÓDIGO BNCC

LP **LÍNGUA PORTUGUESA**

1- CIRCULE A SÍLABA CORRETA E COMPLETE A PALAVRA:




CE CO CI
__ NTO



CU CA CO
__ BRA



CI CA CE
__ LULAR



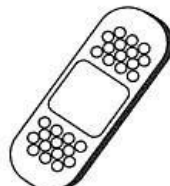
CO CA CU
__ MA




CA CU CO
__ BIDE



CA CE CI
__ REJA



CO CA CU
__ RATIVO



CU CO CI
__ LHER

2- PINTE AS SÍLABAS QUE FORMAM OS NOMES DOS DESENHOS. DEPOIS ESCREVA AS PALAVRAS FORMADAS:



CU CO CA PO PA



CA BA BE A SA



CU BA E A CA

3- COMPLETE AS PALAVRAS COM AJUDA DO PROFESSOR, UTILIZANDO A LETRA Z OU S. EM SEGUIDA SEPRE EM SÍLABAS E CONTE-AS:

FELI ___ = _____

GÁ ___ = _____

ÔNIBU ___ = _____

RAPA ___ = _____

SIMPLE ___ = _____



LU ___ = _____

AVESTRU ___ = _____

MATRI ___ = _____

PA ___ = _____

4- NUMERE A SEQUÊNCIA CORRETA DA HISTÓRIA ABAIXO:



5- OBSERVE A CENA E RESPONDA:

A) O QUE OS MENINOS ESTÃO FAZENDO?

UNIDADE ESCOLAR:

PROFESSORA

DATA

NOME:

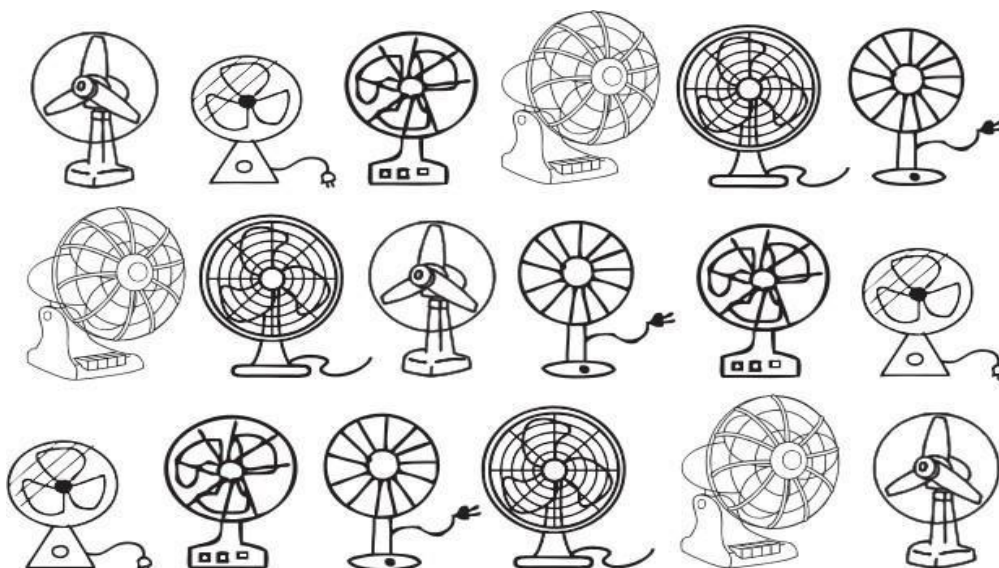
FASE

CÓDIGO BNCC

MA

MATEMÁTICA

1- OBSERVE ABAIXO A QUANTIDADE DE VENTILADORES QUE JOSÉ CONSERTOU EM UMA SEMANA DE TRABALHO.



QUANTOS VENTILADORES JOSÉ CONSERTOU NESSA SEMANA?

- A- () DEZESSEIS
- B- () DEZESSETE
- C- () DEZOITO
- D- () DEZENOVE

2- CAROLINA DIGITOU **CENTO E NOVE** EM UMA CALCULADORA. QUAL NÚMERO APARECEU NO VISOR DESSA CALCULADORA?


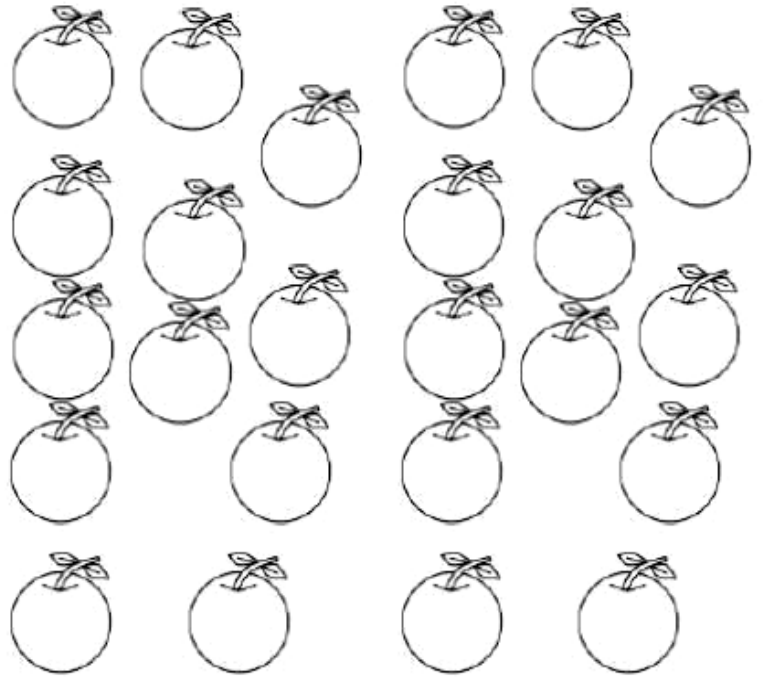
99

1009

109

19

3- DONA GERALDA FOI À FEIRA COMPRAR ALGUMAS FRUTAS PARA FAZER UMA SALADA. VEJA O QUE ELA COMPROU E INDIQUE A QUANTIDADE DE CADA PRODUTO NO RETÂNGULO ABAIXO, ESCRREVENDO POR EXTENSO:





UNIDADE ESCOLAR:

PROFESSORA

DATA

NOME:

FASE

CÓDIGO BNCC



CIÊNCIAS NATURAIS

TIPOS DE SOLO

SOLO ARENOSO- COMPOSTO POR GRÃOS DE AREIA, TAMBÉM CHAMADO DE SOLO LEVE PELA BAIXA CONCENTRAÇÃO DE ÁGUA EM SUA COMPOSIÇÃO.

SOLO ARGILOSO- PESADO, COMPOSTO POR MAIS DE 30% DE ARGILA, MACIO E ÚMIDO.

SOLO HUMOSO- COM CONCENTRAÇÃO DE ATÉ 70% DE MATÉRIA ORGÂNICA (HÚMUS).



SOLO ARENOSO



SOLO ARGILOSO



SOLO HUMOSO

1- O SOLO _____ É FORMADO POR PARTÍCULAS PEQUENAS E LEVES, POR ISSO, TEM A TENDÊNCIA DE SOFRER EROSÃO (DESGASTE OU ARRASTAMENTO DA TERRA POR AÇÃO DA ÁGUA, DO VENTO).

A OPÇÃO QUE COMPLETA O TEXTO ACIMA É:

A- () ARENOSO.

B- () ARGILOSO.

C- () HUMOSO.

2- OBSERVE AS FIGURAS:



COMPARANDO OS SOLOS ARENOSOS E ARGILOSOS, PODEMOS AFIRMAR QUE:

- A- () O SOLO ARENOSO POSSUI MAIS ÁGUA.
- B- () O SOLO ARGILOSO POSSUI MAIS ÁGUA.
- C- () OS DOIS SOLOS POSSUEM A MESMA QUANTIDADE DE ÁGUA.
- D- () SOLOS NÃO POSSUEM ÁGUA.

3- COMPLETE AS FRASES COM AS PALAVRAS ABAIXO, DE MANEIRA QUE FIQUEM CORRETAS:

PESSOAS – ANIMAIS – SOLO – CRESCEM

O _____ É A PARTE DA SUPERFÍCIE TERRESTRE ONDE NASCEM
E _____ AS PLANTAS, ONDE VIVEM AS
_____ E MUITOS OUTROS _____.

4- COMO SE CHAMA O SOLO FORMADO POR TERRA SOLTA (AREIA)?

- A- () HUMÍFERO
- B- () ARGILOSO
- C- () ARENOSO



UNIDADE ESCOLAR:

PROFESSORA

DATA

NOME:



FASE

CÓDIGO BNCC




GEOGRAFIA

1- OBSERVE AS PAISAGENS A SEGUIR E CLASSIFIQUE-AS ESCRREVENDO, NOS ESPAÇOS, **N** PARA AS PAISAGENS NATURAIS E **C** PARA AS PAISAGENS CONSTRUÍDAS:



2- OBSERVE A PAISAGEM NATURAL ABAIXO E MODIFIQUE-A, DESENHANDO 4 ELEMENTOS QUE PODEM SER CONSTRUÍDOS PELO SER HUMANO. DEPOIS, ESCREVA O QUE FOI INSERIDO NA PAISAGEM:





UNIDADE ESCOLAR:

PROFESSORA

DATA

NOME:


FASE

CÓDIGO BNCC



HISTÓRIA

1- COLOQUE **R**, PARA AS PAISAGENS RURAIS E **U**, PARA AS PAISAGENS URBANAS:



2- RELACIONE A SEGUNDA COLUNA DE ACORDO COM A PRIMEIRA.

(A) – ÁREA RURAL

(B) – ÁREA URBANA

() MOVIMENTO INTENSO DE VEÍCULOS.

() CONSTRUÇÕES DE ESTABELECIMENTOS COMERCIAIS.

() PAISAGEM COM PLANTAÇÕES, PASTOS E ANIMAIS.