

**PREFEITURA MUNICIPAL DE BOM JESUS DO ITABAPOANA-RJ**  
**SECRETARIA MUNICIPAL DE EDUCAÇÃO, ESPORTE E LAZER**

# **Atividades Orientadoras**



## **Educação de Jovens e Adultos**

### **FASE II**



UNIDADE ESCOLAR:

DATA

PROFESSORA

NOME:

FASE

CÓDIGO BNCC



1- SEPARE AS LETRAS E AS SÍLABAS DA PALAVRA ABAIXO.



**ALHO**

--	--	--	--

--	--

2- QUAL IMAGEM **NÃO** POSSUI A SÍLABA FINAL DA PALAVRA ALHO?

(A)



(C)



(B)



(D)



3- ESCREVA O NÚMERO DE SÍLABAS DA PALAVRA **MACACO**.

4- QUAL IMAGEM ABAIXO TEM A LETRA INICIAL DA PALAVRA **C**OCA-COLA:

(A)



(C)



(B)



(D)



5- COMPLETE AS FRASES ESCRIVENDO OS NOMES DAS FIGURAS:

A) EU TENHO UM \_\_\_\_\_.



B) A PROFESSORA USA UMA \_\_\_\_\_.



C) A MULHER SEMPRE USA O \_\_\_\_\_.



UNIDADE ESCOLAR:

PROFESSORA

DATA

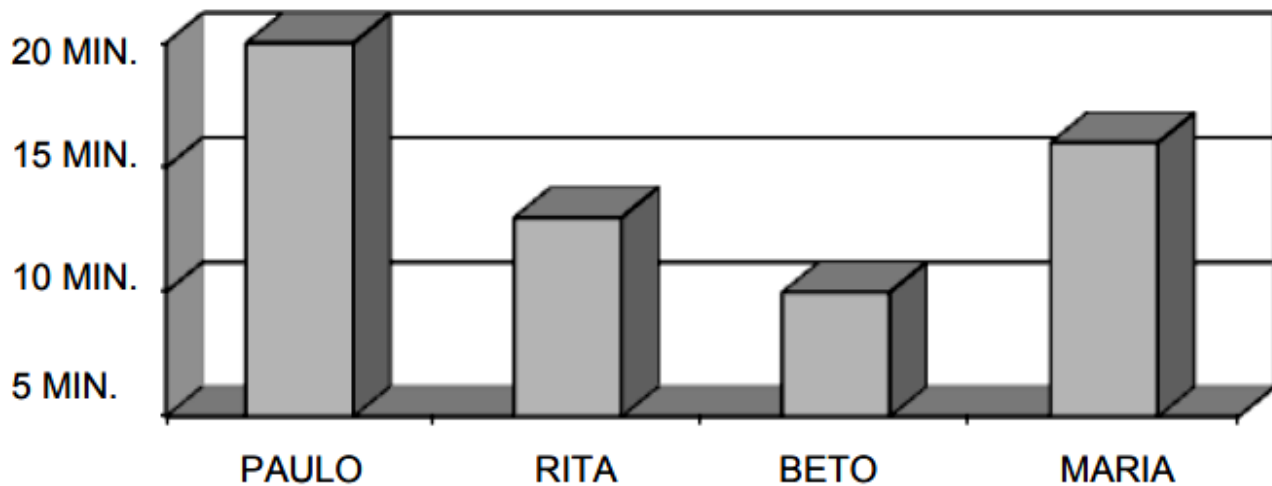
NOME:

FASE

CÓDIGO BNCC



1- ATUALMENTE, HÁ UMA GRANDE PREOCUPAÇÃO COM O DESPERDÍCIO DE ÁGUA E DE ENERGIA ELÉTRICA. O GRÁFICO ABAIXO INDICA QUANTO TEMPO PAULO, RITA, BETO E MARIA GASTAM DURANTE O BANHO, COM O CHUVEIRO LIGADO:



A) QUAIS AS PESSOAS QUE GASTAM MENOS DE 15 MINUTOS NO BANHO?

- ( ) PAULO E RITA.
- ( ) BETO E MARIA.
- ( ) PAULO E BETO.
- ( ) RITA E BETO.

B) A PESSOA QUE CONSOME MAIS ENERGIA ELÉTRICA DURANTE O BANHO É:

- ( ) MARIA.
- ( ) PAULO.
- ( ) RITA.
- ( ) BETO.

2- MARGARIDA PRECISOU FAZER UM PAGAMENTO DE R\$ 305,00 NO MERCADO E NÃO SABIA ESCREVER ESSE VALOR NO CHEQUE. AJUDE MARGARIDA ESCREVENDO O VALOR DE SUA COMPRA NO CHEQUE DESENHADO ABAIXO:

Comp 007	Banco 700	Agência 1515	C1 6	Conta 330044-5	C2 2	Cheque N° 123456	C3 2	R\$ <b>305,00</b>
-------------	--------------	-----------------	---------	-------------------	---------	---------------------	---------	----------------------

Pague por este cheque a quantia de \_\_\_\_\_

a \_\_\_\_\_ ou a sua ordem \_\_\_\_\_

**BANCO** \_\_\_\_\_ de \_\_\_\_\_

ESPECIAL

RUA ZERO 123  
SAO PAULO SP

MARGARIDA SANTOS FILHO  
Cliente Bancário desde: 06/2005

32 1456 01 2340001 23 987654321

3- PEDRO RECEBEU SEU **FGTS** E RESTARAM ESSAS NOTAS PARA ELE DEPOSITAR NA POUPANÇA.

9 NOTAS DE  TOTAL DE: \_\_\_\_\_

6 NOTAS DE  TOTAL DE: \_\_\_\_\_

5 NOTAS DE  TOTAL DE? \_\_\_\_\_

4- QUANTO PEDRO DEPOSITOU EM DINHEIRO?

- (A) R\$ 900,00.
- (B) R\$ 300,00.
- (C) R\$100,00.
- (D) R\$1.300,00.



UNIDADE ESCOLAR:

PROFESSORA

DATA

NOME:

FASE

CÓDIGO BNCC

**GE**

**GEOGRAFIA**

## DIFERENÇA ENTRE MUNICÍPIO, ESTADO E PAÍS.

**MORAMOS** EM UM MUNICÍPIO, EM UM ESTADO E EM UM PAÍS. O NOSSO **PAÍS** É O **BRASIL**. O BRASIL É DIVIDIDO EM 26 ESTADOS E UM DISTRITO FEDERAL. NÓS MORAMOS NO **ESTADO DO RIO DE JANEIRO**, QUE É UM DOS 26 ESTADOS DO BRASIL.

O ESTADO DO **RIO DE JANEIRO** TAMBÉM É **DIVIDIDO EM 92 MUNICÍPIOS**.

### **PAÍS**

FAZ LIMITE COM OUTROS PAÍSES;

É A MAIOR UNIDADE ADMINISTRATIVA, A UNIÃO, ESFERA FEDERAL;

É GOVERNADO PELO(A) PRESIDENTE(A) DA REPÚBLICA.

### **ESTADO**

RIO DE JANEIRO É O NOME DO ESTADO EM QUE MORAMOS;

O BRASIL É DIVIDIDO EM 26 ESTADOS E UM DF;

É GOVERNADO PELO(A) GOVERNADOR(A).

### **MUNICÍPIO**

DENTRO DOS LIMITES DO MUNICÍPIO ESTÃO O CAMPO E A CIDADE;

É A MENOR UNIDADE ADMINISTRATIVA;

É GOVERNADO PELO(A) PREFEITO(A).

1- ASSOCIE A SEGUNDA COLUNA DE ACORDO COM A PRIMEIRA:

**UNIDADE ADMINISTRATIVA:**

(M) MUNICÍPIO

(E) ESTADO

(P) PAÍS

**CARACTERÍSTICAS:**

A-( ) É GOVERNADO PELO PRESIDENTE DA REPÚBLICA.

B-( ) É FORMADO PELA ZONA RURAL E ZONA URBANA.

C-( ) O NOSSO \_\_\_\_\_ É O BRASIL.

D-( ) É ADMINISTRADO PELO(A) PREFEITO(A).

E-( ) O BRASIL TEM 26 \_\_\_\_\_ E UM DISTRITO FEDERAL.

F-( ) RIO DE JANEIRO É UM EXEMPLO DE \_\_\_\_\_.

G-( ) É ADMINISTRADO PELO GOVERNADOR.

H-( ) É A MENOR UNIDADE ADMINISTRATIVA.

2- VOCÊ CONHECE OUTROS MUNICÍPIOS DO ESTADO DO RIO DE JANEIRO?

SE CONHECER, ESCREVA DOIS ABAIXO:



UNIDADE ESCOLAR:

PROFESSORA

DATA

NOME:

FASE

CÓDIGO BNCC

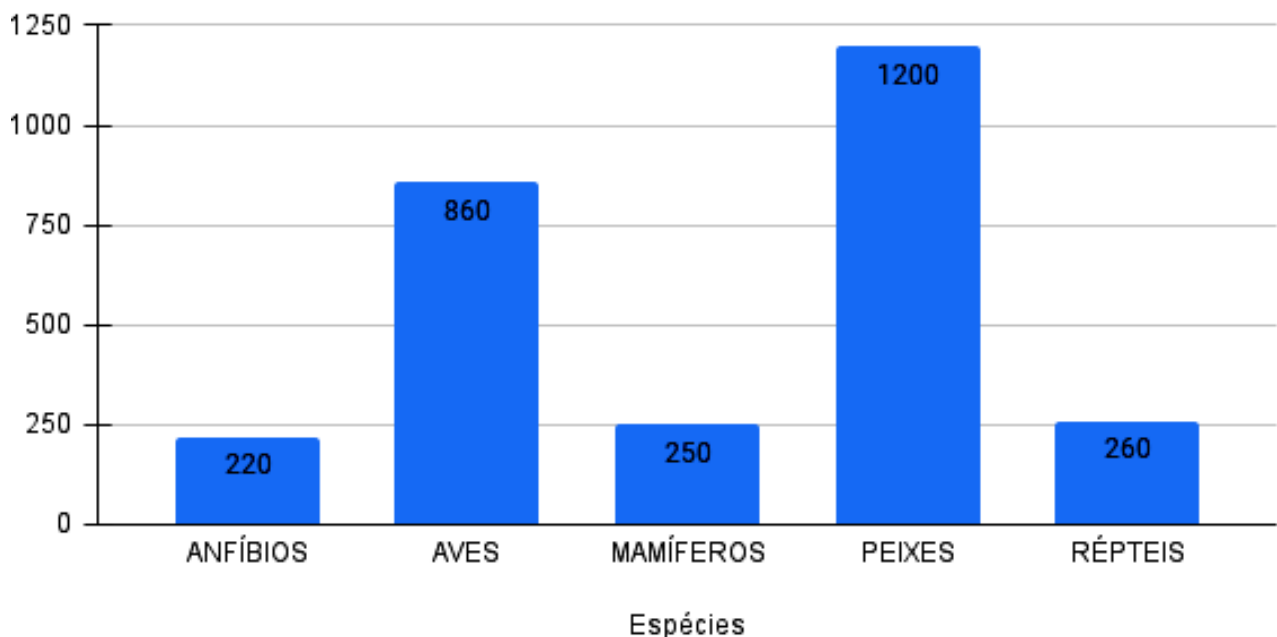
CI

**CIÊNCIAS NATURAIS**

NO CERRADO VIVEM INÚMERAS ESPÉCIES DE ANIMAIS, ENTRE AS ESPÉCIES JÁ IDENTIFICADAS TEMOS: **860** SÃO AVES, **250** SÃO MAMÍFEROS, **260** SÃO RÉPTEIS, **1.200** SÃO PEIXES E **220** SÃO ANFÍBIOS.

VEJA ESSES NÚMEROS NO GRÁFICO.

### QUANTIDADE DE ESPÉCIES ANIMAIS IDENTIFICADAS NO CERRADO



Fonte: Instituto Jurumi-Natu Cerrado

1- DE ACORDO COM O GRÁFICO, RESPONDA:

A) QUAL ESPÉCIE APRESENTA MAIOR QUANTIDADE?




B) QUANTAS AVES JÁ FORAM IDENTIFICADAS NO CERRADO?

C) QUAL ESPÉCIE APRESENTA MENOR QUANTIDADE?

D) HÁ MAIS AVES OU RÉPTEIS IDENTIFICADOS NO CERRADO?

2- COMPLETE A CRUZADINHA COM OS NOMES DE ANIMAIS EM EXTINÇÃO:





UNIDADE ESCOLAR:

PROFESSORA

DATA

NOME:

FASE

CÓDIGO BNCC

## HI HISTÓRIA

BOM JESUS DO ITABAPOANA TEM DEZ DISTRITOS. LEIA A LEGENDA.



- 1º DISTRITO – SEDE
- 2º DISTRITO – CALHEIROS
- 3º DISTRITO – ROSAL
- 4º DISTRITO – CARABUÇU
- 5º DISTRITO – PIRAPETINGA
- 6º DISTRITO – SERRINHA
- 7º DISTRITO – BARRA DO PIRAPETINGA
- 8º DISTRITO – SANTA MARIA
- 9º DISTRITO – SANTA ISABEL
- 10º DISTRITO – BOM JARDIM

CLASSIFIQUE OS DISTRITOS NA ORDEM QUE APARECEM NA LEGENDA ACIMA:

SEDE

CARABUÇU

PIRAPETINGA

SERRINHA

SANTA MARIA

ROSAL

SANTA ISABEL

BOM JARDIM

CALHEIROS

BARRA DO PIRAPETINGA

EM QUAL LUGAR DO MUNICÍPIO DE BOM JESUS DO ITABAPOANA VOCÊ MORA?

( ) BAIRRO - QUAL? \_\_\_\_\_.

( ) CALHEIROS.

( ) ROSAL.

( ) CARABUÇU.

( ) PIRAPETINGA.

( ) SERRINHA .

( ) BARRA DO PIRAPETINGA.

( ) USINA SANTA MARIA.

( ) USINA SANTA ISABEL.

( ) BOM JARDIM.

( ) OUTRA LOCALIDADE.