

PREFEITURA MUNICIPAL DE BOM JESUS DO ITABAPOANA-RJ
SECRETARIA MUNICIPAL DE EDUCAÇÃO, ESPORTE E LAZER

Atividades Orientadoras



Educação de Jovens e Adultos

FASE I



UNIDADE ESCOLAR:

PROFESSORA

DATA

NOME:

FASE

CÓDIGO BNCC



1- FORME PALAVRAS, JUNTANDO AS SÍLABAS NUMERADAS:

1 - BA	2 - CA	3 - LO	4 - PO	5 - MA
6 - BO	7 - SA	8 - CO	9 - TA	10 - LA

1+10



6+9

8+10

10+9

8+3

2+5

6+10


7+4

7+10

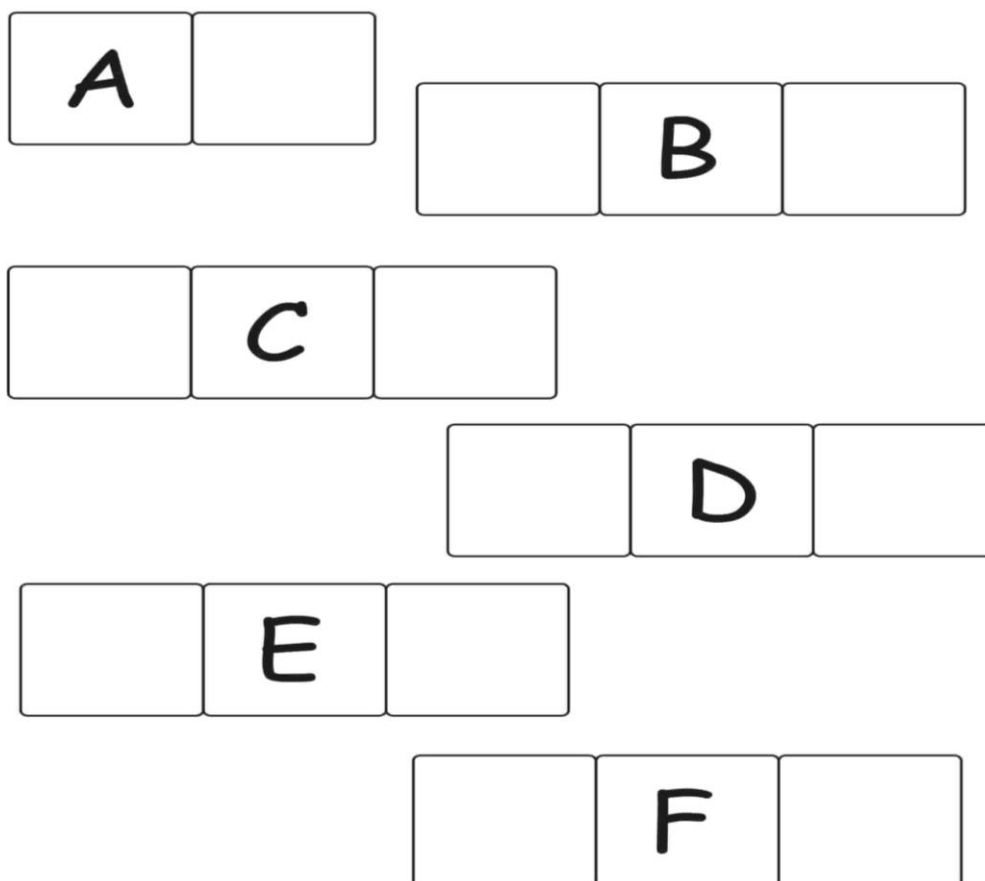
10+5

5 + 2 + 8

2- COMPLETE O ALFABETO COM AS LETRAS QUE FALTAM:



3- COMPLETE COM A LETRA VIZINHA:





PORTAL SEMEEL

A mudança está em nossas mãos



PREF. BC DO I

	2	3				7			
				15				19	
		23							30
					36				
41							48		
			54			57			
	62							69	
				75					80
81		83							
			94			97			100

AL
RTE E LAZER

UNIDADE ESCOLAR:

PROFESSORA

NOME:

FASE

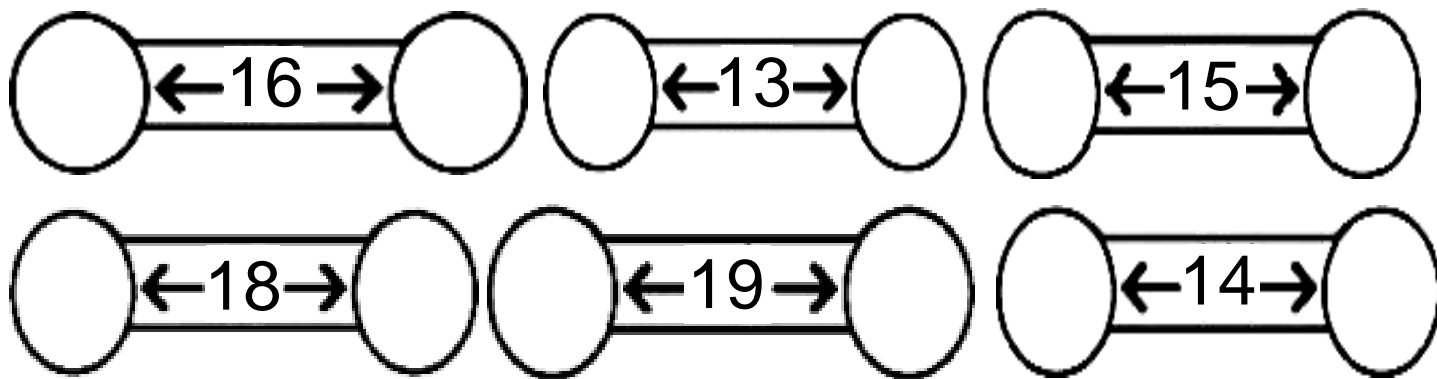
CÓDIGO BNC



1- COMPLETE A TABELA COM OS NUMERAIS QUE ESTÃO FALTANDO:


	2	3				7			
				15				19	
		23							30
					36				
41							48		
			54			57			
	62							69	
				75					80
81		83							
			94			97			100

2- COMPLETE COM OS ANTECESSORES E SUCESSORES:



3- COMPLETE A CRUZADINHA COM OS NOMES DOS NUMERAIS:

- ① UM ② DOIS ③ TRÊS ④ QUATRO ⑤ CINCO
⑥ SEIS ⑦ SETE ⑧ OITO ⑨ NOVE ⑩ DEZ





UNIDADE ESCOLAR:

PROFESSORA

DATA

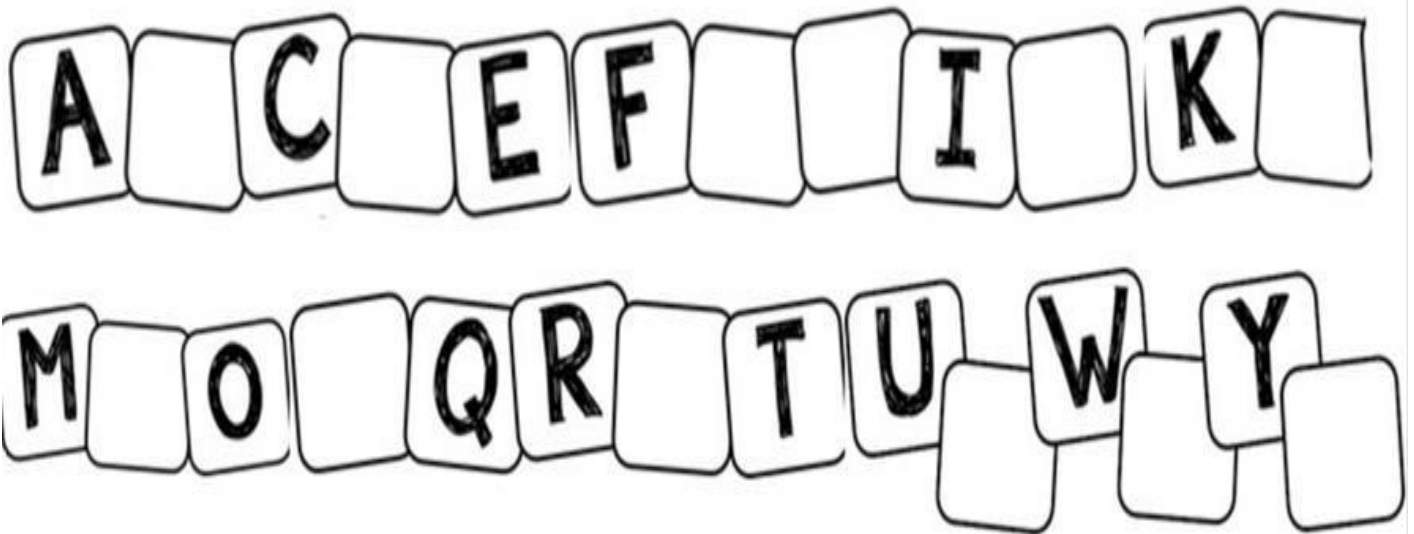
NOME:

FASE


CÓDIGO BNCC



1- COMPLETE COM AS LETRAS DO ALFABETO QUE ESTÃO FALTANDO:



2- COMPLETE AS PALAVRAS COM AS VOGAIS ADEQUADAS E ESCREVA-AS NOVAMENTE:



P _ _ N _ _ L _ _




T _ _ M _ _ T _ _



S _ _ P _ _ T _ _

3- LIGUE AS RIMAS ABAIXO:



4- MARQUE UM X ONDE ESTÁ ESCRITO O NOME DA FIGURA:



SABONETE




SACOLA



SAPATO



5- MARQUE UM X ONDE ESTÁ ESCRITO O NOME DE CADA ANIMAL ABAIXO:



- () TATU
- () TARTARUGA
- () TELHA



- () PALHA
- () PATO
- () PÁSSARO



UNIDADE ESCOLAR:

PROFESSORA

DATA

NOME:

FASE

CÓDIGO BNCC

MA **MATEMÁTICA**

1- RESOLVA AS ADIÇÕES ABAIXO:

$$\begin{array}{r} 1 \\ + 3 \\ \hline \square \end{array}$$

$$\begin{array}{r} 2 \\ + 4 \\ \hline \square \end{array}$$

$$\begin{array}{r} 2 \\ + 3 \\ \hline \square \end{array}$$

$$\begin{array}{r} 4 \\ + 2 \\ \hline \square \end{array}$$

$$\begin{array}{r} 5 \\ + 1 \\ \hline \square \end{array}$$

$$\begin{array}{r} 4 \\ + 3 \\ \hline \square \end{array}$$

$$\begin{array}{r} 6 \\ + 2 \\ \hline \square \end{array}$$

$$\begin{array}{r} 5 \\ + 3 \\ \hline \square \end{array}$$

$$\begin{array}{r} 7 \\ + 2 \\ \hline \square \end{array}$$

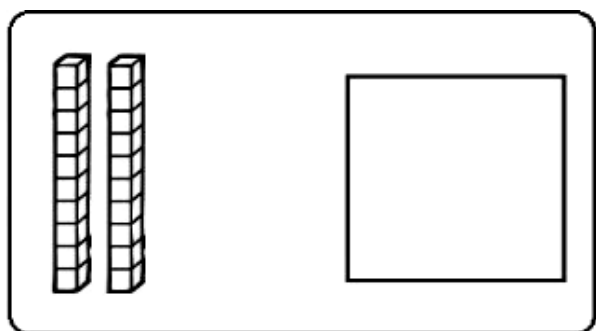
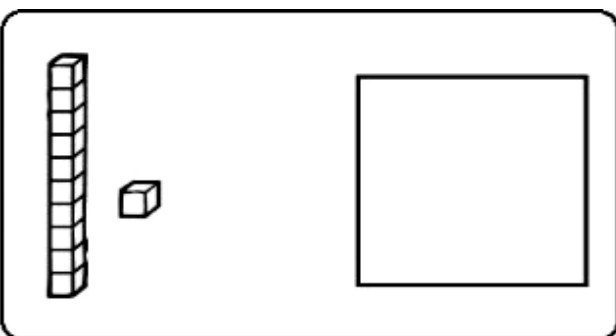
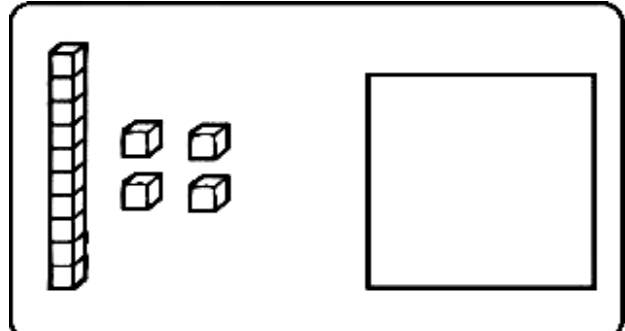
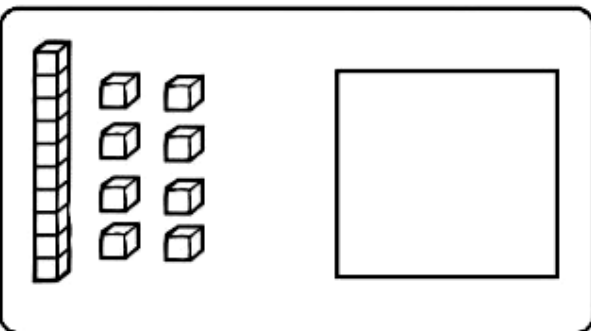
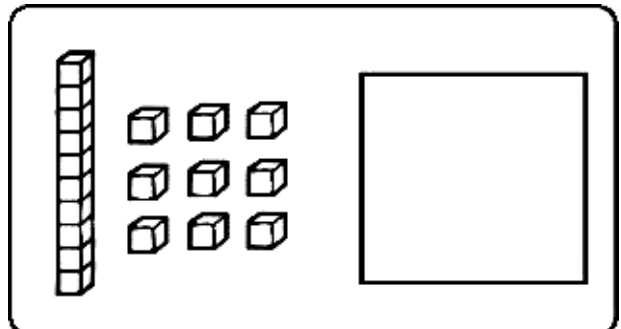
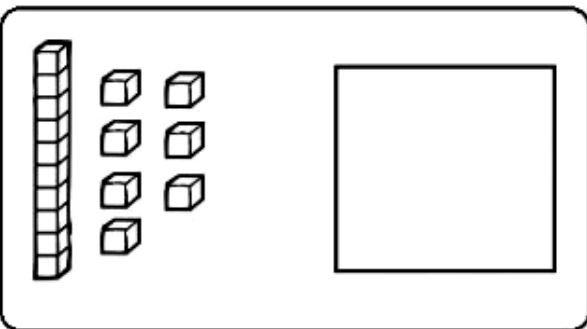
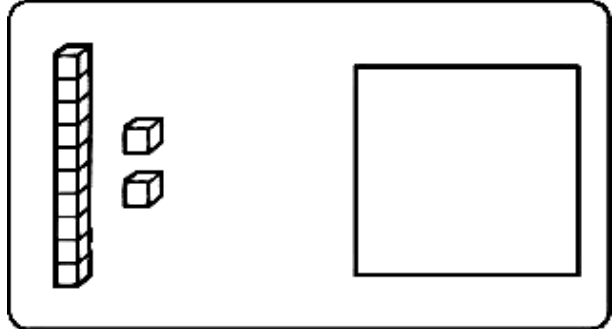
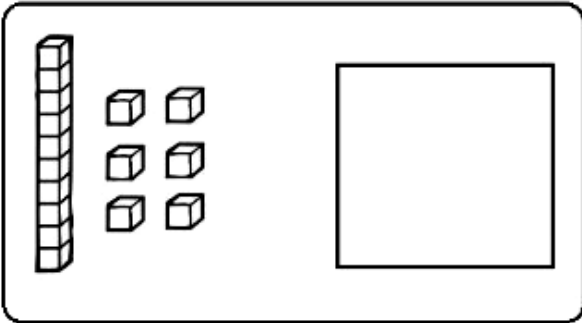
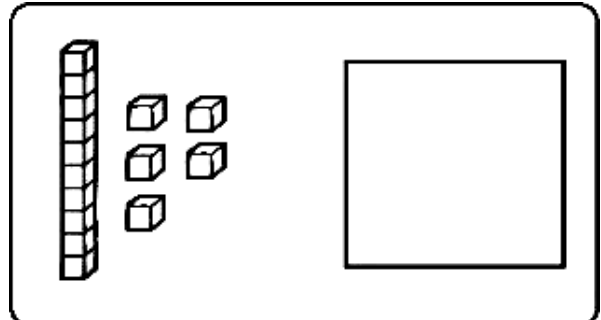
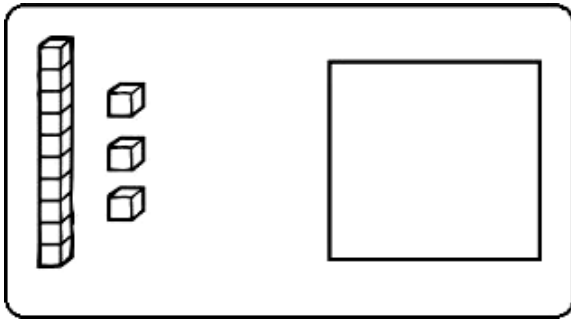
2- OBSERVE AS MOEDAS QUE CARLA COLOCOU NO SEU COFRE:



A) CARLA FOI AO MERCADO E TROCOU SUAS MOEDAS POR NOTAS DE 2 REAIS. A QUANTIDADE DE NOTAS QUE CARLA RECEBEU FOI:

- () 2 () 3 () 4 () 5

3- REPRESENTE OS NUMERAIS DE ACORDO COM A QUANTIDADE DE MATERIAL DOURADO:





UNIDADE ESCOLAR:

PROFESSORA

DATA


NOME:


FASE

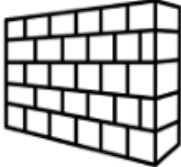
CÓDIGO BNCC



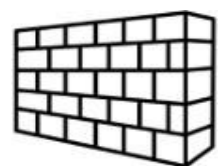
1- LEIA AS PALAVRAS E CIRCULE O NOME DO DESENHO:

	SAL	SOL
	SALADA	LUA

	CHUVA	UVA
	CHORO	AVIÃO

	PANELA	TAPETE
	PAMONHA	PAREDE

2- ESCREVA O NOME DOS DESENHOS:



3- LEIA AS PALAVRAS, SEPARE AS SÍLABAS, CONTE-AS E MARQUE A QUANTIDADE, COMO NO EXEMPLO:

PALAVRA	SÍLABAS	QUANTIDADE DE SÍLABAS
OVO	<input type="text" value="O"/> <input type="text" value="VO"/>	<input type="text" value="2"/>
FADA	<input type="text"/> <input type="text"/>	<input type="text"/>
FARINHA	<input type="text"/> <input type="text"/> <input type="text"/>	<input type="text"/>
COLHER	<input type="text"/> <input type="text"/>	<input type="text"/>
TORTA	<input type="text"/> <input type="text"/>	<input type="text"/>
SAPATINHO	<input type="text"/> <input type="text"/> <input type="text"/> <input type="text"/>	<input type="text"/>
CORTINA	<input type="text"/> <input type="text"/> <input type="text"/>	<input type="text"/>