

PREFEITURA MUNICIPAL DE BOM JESUS DO ITABAPOANA-RJ  
SECRETARIA MUNICIPAL DE EDUCAÇÃO, ESPORTE E LAZER

# Atividades Orientadoras



## Educação de Jovens e Adultos

### FASE I



UNIDADE ESCOLAR:

PROFESSORA

DATA

NOME:

FASE

CÓDIGO BNCC



1- FAÇA UM X NO QUADRINHO DAS CONSOANTES **C, P E T** ESCRITAS COM LETRA CURSIVA:

A- ( ) *d f y*

B- ( ) *c p t*

C- ( ) *h l m*

D- ( ) *n m e*

2- FAÇA UM X NO QUADRINHO ONDE ESTÃO ESCRITAS AS MESMAS PALAVRAS DA FICHA.

CAMA – DADO

A- ( ) *Gama \_ dedo*

B- ( ) *Cola \_ dama*

C- ( ) *cama \_ dado*

D- ( ) *cana \_ data*

3- QUANTAS LETRAS TEM A PALAVRA **MACARRÃO**?


A- ( ) 3 LETRAS

B- ( ) 6 LETRAS

C- ( ) 8 LETRAS

D- ( ) 9 LETRAS

VELA O OBJETO DESENHADO NO QUADRO.



4- FAÇA UM X NO QUADRINHO ONDE ESTÁ ESCRITO O NOME DO OBJETO:

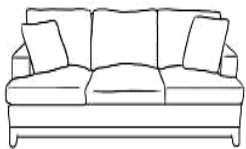
A- ( ) ESPELHO.

B- ( ) ESTRELA.

C- ( ) ESCADA.

D- ( ) ESPADA.

5-LIGUE OS DESENHOS AOS SEUS RESPECTIVOS NOMES:



OLHO



ÓCULOS



SOFÁ



SAPATO



ESCADA



UNIDADE ESCOLAR:

PROFESSORA

DATA

NOME:

FASE

CÓDIGO BNCC



1- OBSERVE O CALENDÁRIO E RESPONDA ÀS PERGUNTAS ABAIXO.

<b>OUTUBRO</b>		<b>2024</b>				
<b>DOM</b>	<b>SEG</b>	<b>TER</b>	<b>QUA</b>	<b>QUI</b>	<b>SEX</b>	<b>SÁB</b>
		<b>1</b>	<b>2</b>	<b>3</b>	<b>4</b>	<b>5</b>
<b>6</b>	<b>7</b>	<b>8</b>	<b>9</b>	<b>10</b>	<b>11</b>	<b>12</b>
<b>13</b>	<b>14</b>	<b>15</b>	<b>16</b>	<b>17</b>	<b>18</b>	<b>19</b>
<b>20</b>	<b>21</b>	<b>22</b>	<b>23</b>	<b>24</b>	<b>25</b>	<b>26</b>
<b>27</b>	<b>28</b>	<b>29</b>	<b>30</b>	<b>31</b>		

EM QUE DIA DA SEMANA COMEÇOU O DIA 01?

QUAIS SÃO OS DIAS QUE CAEM NA QUINTA-FEIRA?

QUAL É O ÚLTIMO DIA DESSE MÊS?

QUANTOS DOMINGOS TEM NESTE MÊS?

2- OBSERVE A TABELA NUMÉRICA E RESPONDA...

1	2	3	4	5	6	7	8	9	10
11	12	13	14	15	16	17	18	19	20
21	22	23	24	25	26	27	28	29	30
31	32	33	34	35	36	37	38	39	40
41	42	43	44	45	46	47	48	49	50

A) QUE NÚMERO ESTÁ ENTRE 18 E 20?

B) QUAIS NÚMEROS DA SEQUÊNCIA ACIMA TERMINAM EM ZERO?

C) QUAIS SÃO OS NÚMEROS QUE APARECEM NA ÚLTIMA LINHA?

D) QUAL NÚMERO APARECE ANTES DO 49?

E) QUAL NÚMERO APARECE DEPOIS DO 25?

F) QUAIS NÚMEROS DA SEQUÊNCIA ACIMA TERMINAM EM 7?



UNIDADE ESCOLAR:

PROFESSORA

DATA

NOME:

FASE

CÓDIGO BNCC





1- LOCALIZE OS NOMES NO CAÇA-PALAVRAS E CIRCULE:

VANIA – DAVI – TACIANA – ANA – JULIA – LARA – BRUNO – DIEGO – PEDRO – BIA

D	X	V	A	N	I	A	G	H	D
A	P	A	N	A	C	A	J	H	I
V	W	E	J	T	K	L	A	Z	E
I	A	T	U	B	L	A	A	E	G
Q	W	A	L	I	B	R	U	N	O
T	A	C	I	A	N	A	I	M	P
O	Q	E	A	Y	P	E	D	R	O

2- COLOQUE OS NOMES ACIMA EM ORDEM ALFABÉTICA:


3- CIRCULE OS DESENHOS QUE COMEÇAM COM A SÍLABA **MA**. DEPOIS ESCREVA OS NOMES NOS RETÂNGULOS ABAIXO:



--	--	--

4- COMPLETE O ALFABETO COM AS LETRAS QUE ESTÃO FALTANDO E CIRCULE AS VOGAIS:

<b>A</b>		<b>C</b>			<b>F</b>
	<b>H</b>			<b>K</b>	
<b>M</b>					<b>R</b>
<b>S</b>				<b>W</b>	
<b>Y</b>					



UNIDADE ESCOLAR:

PROFESSORA

DATA

NOME:

FASE

CÓDIGO BNCC

**MA** **MATEMÁTICA**

1- LIGUE AS HORAS QUE CORRESPONDEM A CADA RELÓGIO:



8 HORAS OU 20 HORAS.




10 HORAS OU 22 HORAS.




9 HORAS OU 21 HORAS.

2- MARQUE AS HORAS PEDIDAS NOS RELÓGIOS:



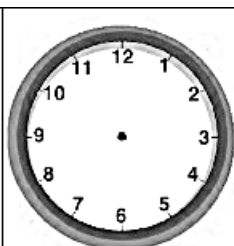
1 HORA E  
30 MINUTOS



3 HORAS



9 HORAS




6 HORAS E  
30 MINUTOS



14 HORAS E  
MEIA



3- AGORA COMPLETE A SEQUÊNCIA DE FIGURAS:



**12 UNIDADES FORMAM 1 DÚZIA.**  
**6 UNIDADES FORMAM MEIA DÚZIA.**

4- ROBERTA COMPROU 1 DÚZIA DE OVOS. CONTE OS OVOS E COMPLETE:



1 DÚZIA= \_\_\_\_\_ OVOS.

A) ELA SEPAROU MEIA DÚZIA DE OVOS PARA FAZER UM BOLO. CONTE OS OVOS QUE ELA SEPAROU E COMPLETE:



MEIA DÚZIA= \_\_\_\_\_ OVOS.

UMA DEZENA CORRESPONDE A **10** UNIDADES.  
UMA CENTENA CORRESPONDE A **100** UNIDADES.

5- ASSINALE A ALTERNATIVA CORRETA:

A) UMA DEZENA CORRESPONDE A:

( ) 100 UNIDADES

( ) 10 UNIDADES

( ) 1 UNIDADE

B) UMA CENTENA CORRESPONDE A:

( ) 10 UNIDADES

( ) 1 UNIDADE

( ) 100 UNIDADES



UNIDADE ESCOLAR:

PROFESSORA

DATA

NOME:

FASE

CÓDIGO BNCC



**O VERSO E A ESTROFE SÃO ELEMENTOS DE UM POEMA.  
CADA LINHA DE UM POEMA REPRESENTA UM VERSO.  
A ESTROFE É O CONJUNTO DE VERSOS.**

1- LEIA O TEXTO COM AJUDA DO PROFESSOR:

### **O DESTINO DA SEMENTINHA**

A SEMENTINHA DE SALSINHA  
PELO VENTO FOI LEVADA.  
CAIU NO CANTEIRO DO SÍTIO  
E PELA TERRA FOI LOGO ACARICIADA.

PASSOU-SE UMA SEMANA  
E A SEMENTINHA FOI CRESCENDO.  
TORNOU-SE UMA SENSÍVEL PLANTINHA.  
QUE FOI SÓ SE DESENVOLVENDO.

VERDINHA E BEM SEGURA,  
A SALSINHA VIVIA FELIZ!  
SUA TERRA NÃO ERA SECA  
E UMEDECIA A SUA RAIZ.

COM UM SIMPLES TOQUE DE DEDOS  
ALGUMAS DE SUAS FOLHAS FORAM TIRADAS  
E LEVADAS NA COZINHA  
PARA A CARNE SER TEMPERADA.

*GRAÇA BATITUCI*

1- RESPONDA DE ACORDO COM O TEXTO:

A) QUAL É O TÍTULO DO TEXTO?

( ) O DESTINO DA SALSINHA.

( ) O DESTINO DA SEMENTINHA.

( ) O DESTINO DA PLANTINHA.

B) QUEM É O AUTOR?

--

C) QUANTAS ESTROFES TEM ESSE POEMA?

( ) 6 ESTROFES

( ) 4 ESTROFES

( ) 5 ESTROFES

D) E QUANTOS VERSOS?

( ) 16 VERSOS

( ) 20 VERSOS

( ) 18 VERSOS

E) PARA QUE TIRARAM AS FOLHAS DELA?

( ) PARA FAZER CHÁ.

( ) PARA TEMPERAR A CARNE.

( ) PARA PLANTAR NO VASINHO.

2- COMPLETE O QUADRO ABAIXO:

PALAVRAS	SEPARAR AS SÍLABAS	NÚMERO DE SÍLABAS	QUANTAS VOGAIS?	QUANTAS CONSOANTES?
VENTO				
VERDINHA				
SALSINHA				
SEMENTINHA				
PLANTINHA				