

PREFEITURA MUNICIPAL DE BOM JESUS DO ITABAPOANA-RJ
SECRETARIA MUNICIPAL DE EDUCAÇÃO, ESPORTE E LAZER

Atividades Orientadoras



Educação de Jovens e Adultos

FASE II



UNIDADE ESCOLAR:

PROFESSORA

DATA

NOME:

FASE

CÓDIGO BNCC



OUTUBRO ROSA

O **MOVIMENTO** CONHECIDO COMO OUTUBRO ROSA NASCEU NOS ESTADOS UNIDOS, NA **DÉCADA** DE 1990, PARA **ESTIMULAR** A PARTICIPAÇÃO DA **POPULAÇÃO** NO **CONTROLE** DO CÂNCER DE **MAMA** E PROMOVER A CONSCIENTIZAÇÃO SOBRE A IMPORTÂNCIA DA DETECÇÃO O QUANTO ANTES DA **DOENÇA**.

1- ENCONTRE NO DIAGRAMA AS PALAVRAS DESTACADAS ACIMA.

| | | | | | | | | | | | |
|---|---|---|---|---|---|---|---|---|---|---|---|
| R | S | E | S | T | I | M | U | L | A | R | M |
| O | S | G | C | O | N | T | R | O | L | E | A |
| S | D | O | E | N | Ç | A | L | U | A | R | M |
| A | W | O | U | T | U | B | R | O | G | O | A |
| M | O | V | I | M | E | N | T | O | Ç | U | S |
| S | X | H | K | D | É | C | A | D | A | V | E |
| P | O | P | U | L | A | Ç | Ã | O | B | O | A |

2- EM QUE PAÍS SURTIU A CAMPANHA DE CONSCIENTIZAÇÃO DO CÂNCER DE MAMA?

3- ACRESCENTE A LETRA **N** ENTRE AS SÍLABAS PARA FORMAR OUTRAS, COMO NO EXEMPLO A SEGUIR:

| PALAVRA | ACRESCENTAR N | SEPARAÇÃO DE SÍLABAS |
|-------------|----------------------|----------------------|
| <i>MITO</i> | <i>MINTO</i> | <i>MIN – TO</i> |
| LIDA | | |
| LOGO | | |
| SUGA | | |
| PESA | | |

4- COM AS SÍLABAS A SEGUIR, FORME PALAVRAS NAS LINHAS CORRESPONDENTES:

| | | |
|-----------------|---------|-----------|
| RA-PE-TEM-TU-RA | MEM-H O | RÃO-CA-MA |
| | | |
| VEM-NU | DA-ON | LÃ-VI |
| | | |

5- COM AJUDA DO PROFESSOR, ESCREVA O NOME DOS DESENHOS ABAIXO.



UNIDADE ESCOLAR:

PROFESSORA

DATA

NOME:

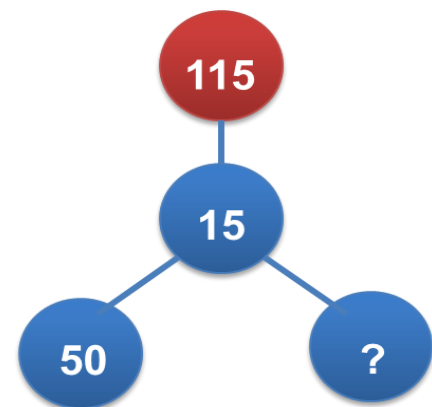
FASE

CÓDIGO BNCC



1- BIA TEM 115 MEDALHAS E AS DIVIDIU EM 3 CAIXAS DIFERENTES, CONFORME DESENHO AO LADO. QUANTAS MEDALHAS ELA COLOCOU NA TERCEIRA CAIXA?

- A) 15 MEDALHAS.
- B) 50 MEDALHAS.
- C) 55 MEDALHAS.
- D) 60 MEDALHAS.



2- QUAL DAS FIGURAS AO LADO REPRESENTA UMA ESFERA?

- A) FIGURA 1.
- B) FIGURA 2.
- C) FIGURA 3.
- D) FIGURA 4.

Figura 1




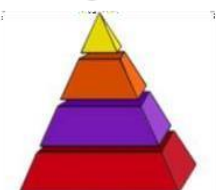
Figura 2



Figura 3



Figura 4



3- DÉBORA COMPROU UM CELULAR POR R\$ 678,00, ELA PAGOU EM DINHEIRO, COM SETE NOTAS DE R\$ 100,00. QUANTO ELA RECEBEU DE TROCO?

4- UM GALÃO DE ÁGUA JÁ TEM 125 LITROS, AINDA FALTAM 75 LITROS PARA TERMINAR DE ENCHER. QUANTOS LITROS CABEM NO GALÃO?

5- NO QUINTAL DA DONA TEREZINHA FORAM PLANTADOS ESSES ALIMENTOS. O SR. ODAIR COMERCIALIZOU OS PRODUTOS:



Alface
unidade
2,50



Tomate
kilo
5,00



Mamão
unidade
1,99



Chicória
unidade
3,00



Acelga
unidade
3,50

A) ELE VENDEU 2 QUILOS E MEIO DE TOMATE. QUAL O VALOR TOTAL RECEBIDO?

B) SUA VIZINHA DA VILA COMPROU 2 ALFACES, 4 MAMÕES E 1 CHICÓRIA. QUAL O VALOR PAGO?

C) PARA COMPRAR DE TODOS OS PRODUTOS, QUANTO VAMOS PRECISAR?



UNIDADE ESCOLAR:

DATA

PROFESSORA

NOME:

FASE

II

CÓDIGO BNCC

EFEJAFI-IVH07

HI

HISTÓRIA

O HOMEM, NUM DETERMINADO MOMENTO DA HISTÓRIA, PERCEBEU A NECESSIDADE DE MEDIR O TEMPO, PARA PLANEJAR MELHOR A SUA VIDA, E OBSERVANDO OS ASTROS NO CÉU, ESPECIALMENTE O SOL E A LUA, VIU QUE PELA POSIÇÃO DO SOL PODERIA CRIAR UM JEITO DE MARCAR A PASSAGEM DO TEMPO. ENTÃO, UM DOS PRIMEIROS RELÓGIOS A SER CRIADO FOI O RELÓGIO DE SOL.

1- LIGUE AS IMAGENS AOS SEUS RESPECTIVOS NOMES, COMO NO EXEMPLO.



RELÓGIO DE PÊNDULO



RELÓGIO DE PONTEIRO



RELÓGIO DE AREIA



RELÓGIO DIGITAL

2- OBSERVE A PASSAGEM DO TEMPO NOS OBJETOS. MARQUE UM (X) NOS QUADRINHOS QUE INDICAM OS OBJETOS ANTIGOS.



FERRO DE PASSAR ROUPAS



FERRO DE PASSAR ROUPAS



AUTOMÓVEL



AUTOMÓVEL



GELADEIRA



GELADEIRA



MÁQUINA DE ESCREVER



MÁQUINA DE ESCREVER



MÁQUINA DE COSTURA



MÁQUINA DE COSTURA

UNIDADE ESCOLAR:

PROFESSORA

DATA

NOME:

FASE

CÓDIGO BNCC

GE **GEOGRAFIA**

O BRASIL É UMA REPÚBLICA FEDERATIVA ORGANIZADA POLÍTICA E ADMINISTRATIVAMENTE EM ESTADOS, MUNICÍPIOS E DISTRITOS. PARA ADMINISTRAR O PAÍS, EXISTE UMA DIVISÃO EM GOVERNOS: FEDERAL, ESTADUAL E MUNICIPAL. OS 26 ESTADOS BRASILEIROS, ALÉM DO DISTRITO FEDERAL, COMPÕEM A REPÚBLICA FEDERATIVA DO BRASIL.



1- MARQUE A ALTERNATIVA CORRETA:

A) QUANTOS ESTADOS TEM O BRASIL?

23 ESTADOS E O DISTRITO FEDERAL.

29 ESTADOS E O DISTRITO FEDERAL.

26 ESTADOS E O DISTRITO FEDERAL.

B) QUAL O NOME DO SEU ESTADO?

ESPÍRITO SANTO.

RIO DE JANEIRO.

SÃO PAULO.

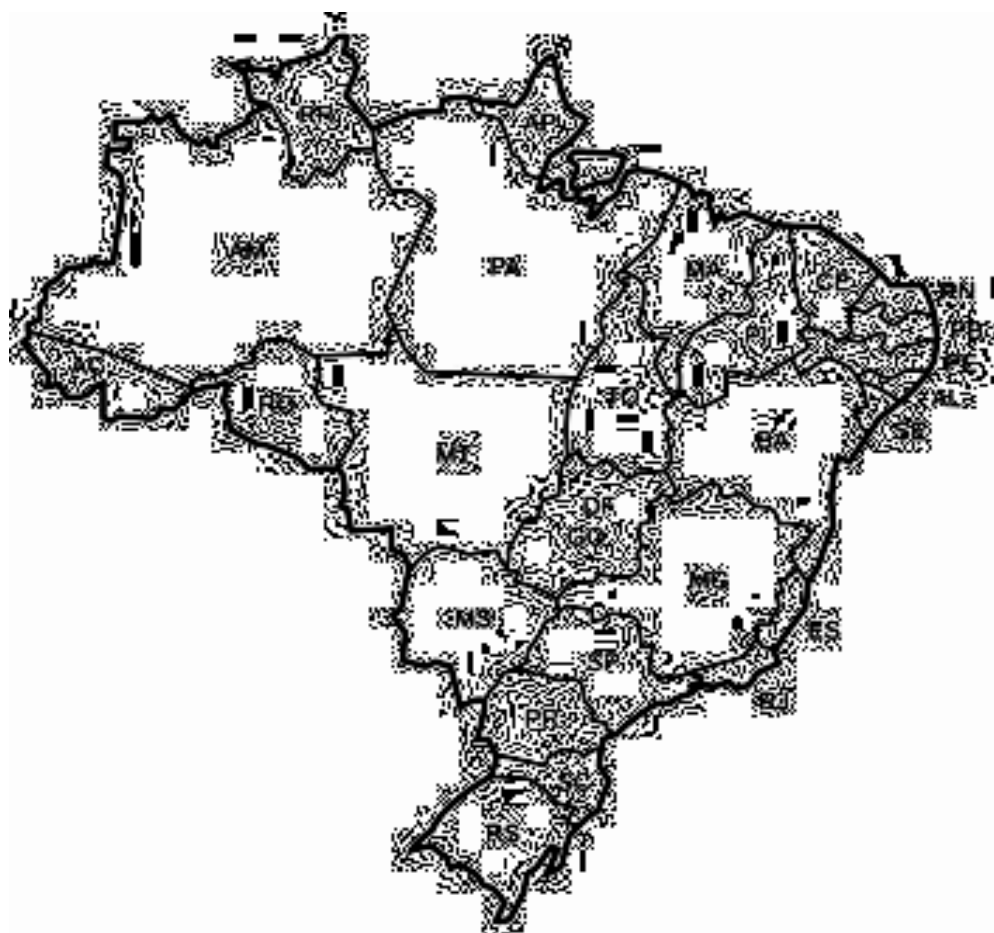
C) O SEU MUNICÍPIO É?

BOM JESUS DO NORTE.

BOM JESUS DO ITABAPOANA.

ITAPERUNA.

2- CIRCULE O ESTADO DO RIO DE JANEIRO (RJ) NO MAPA DO BRASIL, ABAIXO:





UNIDADE ESCOLAR:

PROFESSORA

DATA

NOME:

FASE

II

CÓDIGO BNCC

EFEJAFI-IVC11

CI

CIÊNCIAS NATURAIS

1- VAMOS AVALIAR SE ESTAMOS EM DIA COM NOSSOS HÁBITOS DE HIGIENE E SAÚDE? POR MEIO DE UM JOGO DE PONTUAÇÃO, VOCÊ VAI VERIFICAR EM QUE NÍVEL ESTÁ.

PARA CADA ITEM, ESCREVA **SIM** OU **NÃO**

| | | |
|----------|---|--|
| A | TOMO BANHO TODOS OS DIAS. | |
| B | QUANDO ESTOU COM SEDE, BEBO QUALQUER ÁGUA QUE ENCONTRO. | |
| C | ESCOVO OS DENTES AO ACORDAR, APÓS AS REFEIÇÕES E ANTES DE DORMIR. | |
| D | LAVO BEM AS FRUTAS ANTES DE COMER. | |
| E | SEMPRE ANDO DESCALÇO. | |
| F | SEMPRE CORTO AS MINHAS UNHAS E AS DEIXO LIMPAS. | |
| G | DURMO CEDO E ACORDO CEDO. | |
| H | ANTES DE COMER, LAVO BEM AS MÃOS. | |
| I | QUANDO USO O BANHEIRO, LAVO AS MÃOS. | |
| J | SEMPRE ENTRO EM CASA COM AS SANDÁLIAS OU SAPATOS SUJOS. | |
| K | QUANDO ESTOU RESFRIADO(A), USO PAPEL HIGIÊNICO OU LENÇO DE PAPEL. DEPOIS, JOGO NO LIXO. | |

RESPOSTAS: **SIM** – A, C, D, F, G, H, I, K. / **NÃO** – B, E, J.

CADA RESPOSTA CERTA VALE 01 PONTO. CONFIRA O RESULTADO:

11 PONTOS: PARABÉNS! VOCÊ SABE SE CUIDAR BEM E TEM BONS HÁBITOS DE HIGIENE.

09 A 10 PONTOS: VOCÊ CUIDA BEM DA SUA SAÚDE.

05 A 08 PONTOS: VOCÊ CUIDA POUCO DA SUA SAÚDE. PRECISA MELHORAR!

0 A 4 PONTOS: VOCÊ NÃO ESTÁ CUIDANDO TÃO BEM ASSIM DA SUA SAÚDE. PODERÁ ADOECER. CUIDE-SE!

2- MARQUE A RESPOSTA CORRETA:

A-() A HIGIENE NOS AJUDA A PERDER A SAÚDE.

B-() A HIGIENE NOS AJUDA A MANTER A SAÚDE.

C-() A HIGIENE DIMINUI NOSSA SAÚDE.

3- PREENCHA A CRUZADINHA OBSERVANDO A NUMERAÇÃO DOS DESENHOS:

