

PREFEITURA MUNICIPAL DE BOM JESUS DO ITABAPOANA-RJ
SECRETARIA MUNICIPAL DE EDUCAÇÃO, ESPORTE E LAZER

SEMEEL

A mudança está em nossas mãos

Atividades Orientadoras



4º
ano

Ensino Fundamental

UNIDADE ESCOLAR:

PROFESSOR(A) ANO DE ESCOLARIDADE DATA
4º ANO

NOME:

HOJE É?

SEGUNDA TERÇA QUARTA QUINTA SEXTA

CÓDIGO BNCC

EF04LP06 – EF15LP16 – EF35LP05 – EF35LP22

LÍNGUA PORTUGUESA

Lembrete:

- **Presente:** AÇÃO OCORRENDO NO MOMENTO EM QUE SE FALA.
- **Pretérito (passado):** AÇÃO JÁ OCORRIDA.
- **Futuro:** AÇÃO QUE OCORRERÁ OU PODERÁ OCORRER.



1. Circule o verbo de cada oração e indique o tempo verbal:

- a) Viajaremos amanhã logo cedo. _____
- b) Hélio comprou uma caixa de bombom. _____
- c) Ele está muito feliz. _____
- d) O cantor se apresenta na sexta-feira. _____
- e) Por que você faltou à aula? _____
- f) Eu tenho um skate amarelo. _____

2. Passe o verbo das frases abaixo para o tempo **presente**:

- a) Eu entrei em casa.

- b) Eles receberam presentes.

- c) Fechei os olhos com força.

- d) João viajará para Recife.

3. Coloque no quadro a seguir, os verbos nos lugares certos.

VESTIR	ANDAR	RECEBER	AMAR	PARTIR
PRENDER	PEDIR	CONTAR	TRAZER	COMER
ESTUDAR	SUBIR	FALAR	ESCONDER	OUVIR

1ª conjugação	2ª conjugação	3ª conjugação

4. Indique se o verbo da oração indica **estado**, **ação** ou **fenômeno da natureza**:

a) O gatinho anda adoentado.

b) Ontem, choveu muito durante a noite.

c) Pedro dirige o automóvel tranquilamente.

d) Estudei bastante par o teste de matemática.

e) Com o frio intenso, geou no Sul.

f) Pedro andou de patins.

g) Solange está muito feliz.

5. Forme frases de acordo com as figuras, depois circule os verbos:





UNIDADE ESCOLAR:

PROFESSOR(A) ANO DE ESCOLARIDADE DATA

NOME:

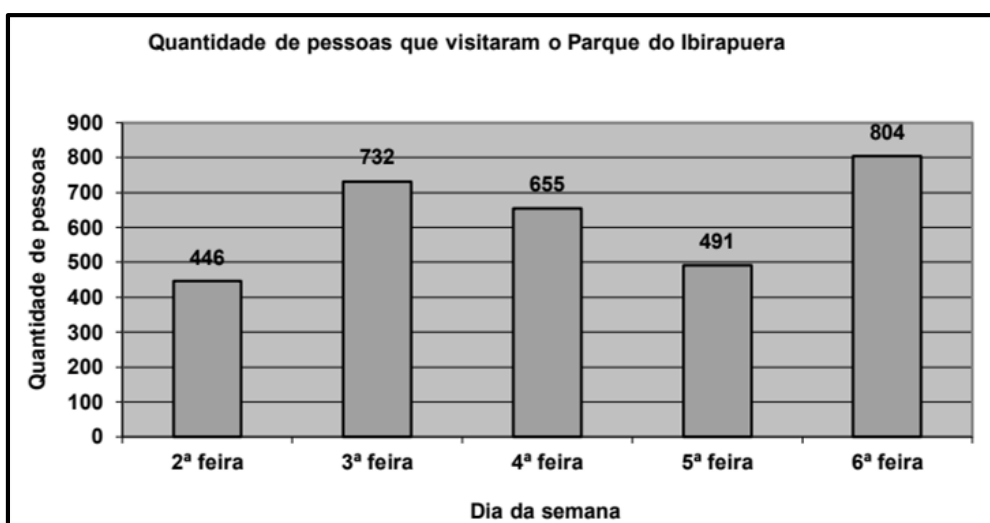
HOJE É?

CÓDIGO BNCC

EF04MA27

123 MATEMÁTICA 123

1. Observe o gráfico a seguir e responda:



- Em qual dia da semana houve a maior quantidade de visitantes? _____
- Em qual dia da semana houve menos visitantes? _____
- Quantas pessoas, ao todo, visitaram o Parque do Ibirapuera nos cinco dias? _____

CÁLCULO:

2. Leia as questões abaixo e marque a resposta correta:

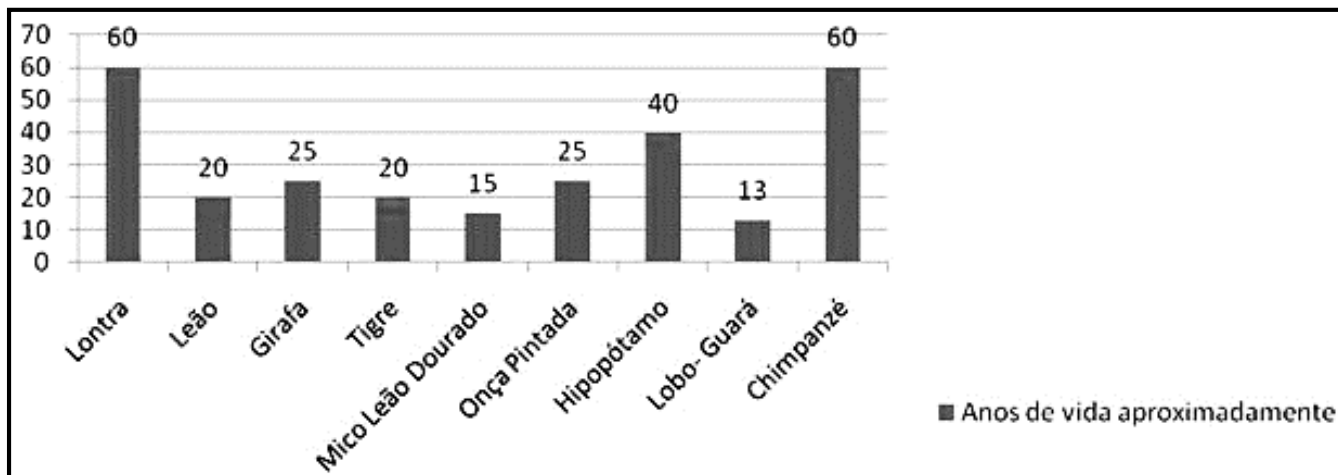
- A professora fez uma pesquisa para saber quais as cores que seus alunos mais gostam.



A cor menos preferida dos alunos é:

- Branca.
- Vermelha.
- Verde.
- Amarela.

3. O gráfico abaixo traz o tempo aproximado de vida em anos, de alguns animais.



Baseado no gráfico, qual animal vive menos?

- A) () Leão.
- B) () Girafa.
- C) () Onça Pintada.
- D) () Lobo-Guará.

4. A tabela de contagem mostra o número de horas que diferentes alunos dedicam aos estudos, durante uma semana.

NOME	HORAS A ESTUDAR
André	
Lúcia	
Ricardo	
Francisco	



Responda:

a) Na sua opinião, qual seria um bom título para esta tabela?

b) Quantas horas Francisco estudou durante a semana?

c) Qual aluno estudou mais? E quem estudou menos?

UNIDADE ESCOLAR:

PROFESSOR(A) ANO DE ESCOLARIDADE DATA
 4º ANO

NOME:

HOJE É?

SEGUNDA TERÇA QUARTA QUINTA SEXTA

CÓDIGO BNCC

EF04LP06 – E04FLP07 – EF35LP08

LÍNGUA PORTUGUESA

Leia o quadrinho e responda:



- No último quadrinho, a frase “Eles não gostam de filme de terror!”, significa que as notas do irmão são:
(A) ótimas. (B) boas. (C) péssimas. (D) feias.
- No primeiro quadrinho e no segundo, as palavras destacadas são pronomes de tratamento que indicam:
(A) Uma maneira delicada de chamar os pais.
(B) Uma forma respeitosa de chamar os pais.
(C) Uma forma moderna de chamar os pais.
(D) Uma forma agressiva de chamar os pais.
- Qual o pronome de tratamento do terceiro quadrinho?
(A) Senhora.
(B) Ele.
(C) Minhas.
(D) Você.
- Relacione a 2ª coluna com a 1ª:
(A) Senhor, senhora () Papa
(B) Vossa Santidade () Príncipes e Princesas
(C) Vossa Majestade () Altas Autoridades
(D) Vossa Excelência () Pessoas em situação cerimoniosas
(E) Vossa Senhoria () Pessoas que não temos muita intimidade, pessoas mais velhas.
(F) Vossa Alteza () Reis e rainhas.


PRODUÇÃO TEXTUAL

Vamos desenvolver a história que já foi iniciada e tem fim. Mas o meio é você quem cria e escreve. Não se esqueça do título!

André era um menino que gostava de colecionar objetos. Ele colecionava carrinhos, bolinhas de gude, chaveiros, figurinhas, entre outras “bugigangas”. Todas as pessoas que o conheciam, sempre o presenteavam com objetos para sua coleção.

Um dia, _____

Então, André pediu ajuda à sua mãe e à sua irmã. Elas encontraram a sua coleção dentro do armário da cozinha. André ficou muito feliz, pois a sua coleção era muito importante!



UNIDADE ESCOLAR:

PROFESSOR(A)

ANO DE ESCOLARIDADE

DATA

NOME:


HOJE É?

SEGUNDA TERÇA QUARTA QUINTA SEXTA

CÓDIGO BNCC

123 MATEMÁTICA 123

1. Observe a tabela a seguir:



A alternativa que corresponde de forma correta ao que está representado na tabela é:

- (A) Há mais quadrados do que círculos.
- (B) Há mais triângulos do que quadrados.
- (C) Há mais círculos do que triângulos.
- (D) Há mais triângulos do que círculo.

2. Luiz, Frederico, João e Paulo estudam juntos na sala do 3º Ano. A figura a seguir mostra o quanto cada um deles levou para a escola.

LUIZ	FREDERICO	JOÃO	PAULO
 BANCO CENTRAL DO BRASIL 2 REAIS	 BANCO CENTRAL DO BRASIL 5 REAIS	 BANCO CENTRAL DO BRASIL 2 REAIS	 BANCO CENTRAL DO BRASIL 5 REAIS
	 BANCO CENTRAL DO BRASIL 2 REAIS	 BANCO CENTRAL DO BRASIL 1 REAL	 BANCO CENTRAL DO BRASIL 1 REAL 50 CENTAVOS 50 CENTAVOS

Dois amigos levaram a mesma quantidade de dinheiro para a escola. Quais são eles?

- (A) Frederico e Paulo.
- (B) Luiz e João.
- (C) Luiz e Frederico.
- (D) João e Paulo.

3. A professora Maria estava planejando levar a turma ao cinema. Para isto fez uma pesquisa com todos os estudantes para decidir qual o gênero de filme preferido. Cada um votou uma única vez. O resultado da pesquisa pode ser visto na tabela a seguir.

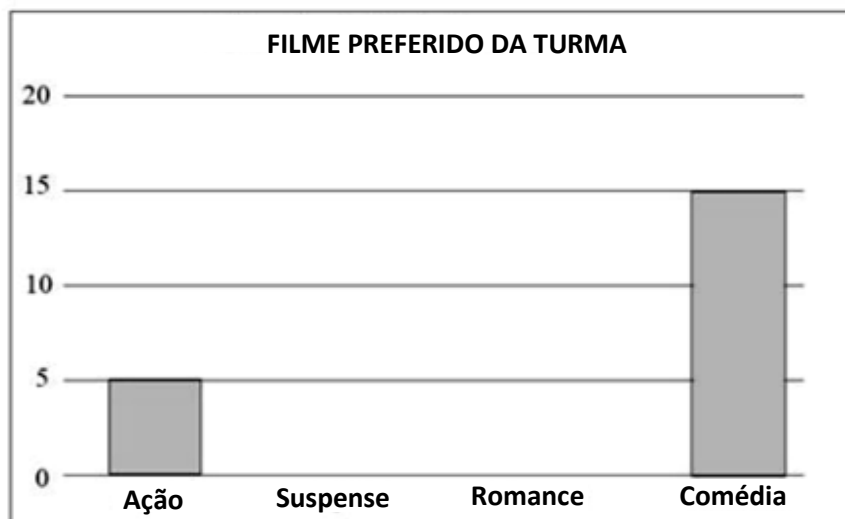
Gênero de filme preferido pela turma	
<i>Gênero de filme</i>	<i>Alunos</i>
Ação	5
Suspense	10
Romance	5
Comédia	15

Fonte: Alunos da turma



Os estudantes desejam elaborar um gráfico com o resultado da pesquisa.

Vamos ajudar esses estudantes. Complete o gráfico a seguir com as informações da pesquisa.



Agora, responda:

- a) Qual o gênero de filme mais assistido? _____
- b) Qual o número de estudantes pesquisados? _____