

PREFEITURA MUNICIPAL DE BOM JESUS DO ITABAPOANA-RJ
SECRETARIA MUNICIPAL DE EDUCAÇÃO, ESPORTE E LAZER

Atividades Orientadoras



Educação de Jovens e Adultos

FASE I

UNIDADE ESCOLAR:

PROFESSORA

DATA

NOME:

FASE

CÓDIGO BNCC

LP **LÍNGUA PORTUGUESA**



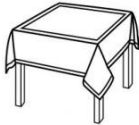

1- PREENCHA A CRUZADINHA ABAIXO:

BANCO DE PALAVRAS

ERVILHA – TOMATE – MILHO –
MACARRÃO – QUEIJO – PÃO –
PIMENTÃO - BANANA

2- QUAL PALAVRA ESTÁ ESCRITA CORRETAMENTE?

LEIA E PINTE O QUADRO CORRETO.

	PATO	PRETO	PRATO
	TOALA	TOALHA	TUALHA
	MESA	MEZA	MUZA
	GORFO	GARFO	GARFA

3- ENCONTRE AS PALAVRAS NO DIAGRAMA ABAIXO:



ABÓBORA



CENOURA



REPOLHO



CHUCHU



MILHO

L	A	L	F	A	C	E	S	A	D	F	C	E	R	A	T	R	F	G	C
G	S	A	D	F	C	E	R	G	S	A	D	F	C	E	R	M	O	R	F
A	T	R	F	G	C	S	A	D	F	C	E	R	A	T	M	I	L	H	O
S	A	D	F	C	E	N	O	U	R	A	G	C	R	A	T	R	F	G	I
L	M	O	R	F	T	G	S	A	D	F	C	E	R	A	T	R	F	G	C
G	S	A	D	F	C	E	R	G	S	A	B	Ó	B	O	R	A	O	R	F
A	T	R	F	G	C	S	A	D	F	C	E	R	A	T	M	O	R	F	T
S	A	D	F	C	H	U	C	H	U	F	G	C	R	A	T	R	F	G	I

UNIDADE ESCOLAR:

PROFESSORA

DATA

NOME:

FASE

CÓDIGO BNCC



1- MARIA VAI FAZER UM BOLO. A RECEITA INDICA QUE ELA DEVE COLOCAR UMA DÚZIA DE OVOS.

QUANTOS OVOS ELA PRECISA PARA FAZER ESSE BOLO?

A- () 2 OVOS

B- () 6 OVOS

C- () 10 OVOS

D- () 12 OVOS

2- COMO SE ESCREVE **OITENTA E DOIS** USANDO ALGARISMOS?

A- () 28

B- () 48

C- () 82

D- () 52

3- RESOLVA AS ADIÇÕES ABAIXO:

$$\begin{array}{r} 6 \\ + 2 \\ \hline \end{array}$$

$$\begin{array}{r} 5 \\ + 3 \\ \hline \end{array}$$

$$\begin{array}{r} 7 \\ + 2 \\ \hline \end{array}$$

$$\begin{array}{r} 6 \\ + 4 \\ \hline \end{array}$$

$$\begin{array}{r} 4 \\ + 2 \\ \hline \end{array}$$

$$\begin{array}{r} 3 \\ + 3 \\ \hline \end{array}$$

$$\begin{array}{r} 8 \\ + 2 \\ \hline \end{array}$$

$$\begin{array}{r} 4 \\ + 3 \\ \hline \end{array}$$

4- COMPLETE COM OS NÚMEROS QUE FALTAM EM CADA SEQUÊNCIA:

45		47
----	--	----

7		9
---	--	---

24		
----	--	--

35	36	
----	----	--

17	18	
----	----	--

14	15	
----	----	--

25		27
----	--	----

	47	
--	----	--

		44
--	--	----

	15	16
--	----	----

	31	32
--	----	----

74		76
----	--	----

	12	
--	----	--

67		69
----	--	----

	64	
--	----	--

12		14
----	--	----

43		
----	--	--

14		16
----	--	----

13		
----	--	--

	19	20
--	----	----

34	35	
----	----	--

27		28
----	--	----

47		
----	--	--

	64	
--	----	--

9		11
---	--	----

23	24	
----	----	--

74		
----	--	--



UNIDADE ESCOLAR:

PROFESSORA

DATA

NOME:

FASE

CÓDIGO BNCC



1- OBSERVE O ALFABETO E SEPRE AS LETRAS ENTRE VOGAIS E CONSOANTES:

A, B, C, D, E, F, G, H, I, J, K, L, M, N, O, P, Q, R, S, T, U, V, W, X, Y, Z.

A) VOGAIS:

--	--	--	--	--

B) CONSOANTES:

2- SEPRE AS CONSOANTES E AS VOGAIS DAS PALAVRAS ABAIXO:



BICICLETA

CADEIRA

CONSOANTES

VOGAIS

CONSOANTES

VOGAIS

--	--	--	--

3- OBSERVE OS PRODUTOS E COPIE CADA LETRA DA PALAVRA EM UM QUADRINHO.



--	--	--



--	--	--	--	--



--	--	--	--	--	--



--	--	--



--	--	--	--	--	--



--	--	--	--	--



--	--	--	--	--






--	--	--	--	--	--	--



--	--	--	--	--	--	--	--	--	--

4- COMPLETE OS DADOS DO QUADRO DE ACORDO COM CADA EMBALAGEM.

	PRODUTO	MARCA	EMBALAGEM															
	<table border="1"> <tr> <td></td> <td></td> <td></td> <td></td> <td>T</td> <td>E</td> </tr> </table>					T	E	<table border="1"> <tr> <td>N</td> <td>I</td> <td></td> <td></td> </tr> </table>	N	I			<table border="1"> <tr> <td>L</td> <td>A</td> <td></td> </tr> </table>	L	A			
				T	E													
N	I																	
L	A																	
	<table border="1"> <tr> <td>M</td> <td>I</td> <td></td> <td></td> <td></td> </tr> </table>	M	I				<table border="1"> <tr> <td></td> <td></td> <td></td> <td>R</td> <td>O</td> </tr> </table>				R	O	<table border="1"> <tr> <td></td> <td></td> <td></td> <td>X</td> <td>A</td> </tr> </table>				X	A
M	I																	
			R	O														
			X	A														
	<table border="1"> <tr> <td></td> <td></td> <td></td> <td>C</td> <td>O</td> </tr> </table>				C	O	<table border="1"> <tr> <td>T</td> <td>I</td> <td></td> <td></td> </tr> </table>	T	I			<table border="1"> <tr> <td></td> <td></td> <td>D</td> <td>R</td> <td>O</td> </tr> </table>			D	R	O	
			C	O														
T	I																	
		D	R	O														



UNIDADE ESCOLAR:

PROFESSORA

DATA

NOME:

FASE

CÓDIGO BNCC



1- A FAMÍLIA DE PEDRO ESTÁ SE PROGRAMANDO PARA IR PASSEAR NA PRAIA NOS PRÓXIMOS DIAS. ELES TAMBÉM CONSULTARAM A PREVISÃO DO TEMPO. OBSERVE E RESPONDA:

QUA 7	QUI 8	SEX 9	SÁB 10	DOM 11	SEG 12	TER 13
PREDOMÍNIO DE SOL	PREDOMÍNIO DE SOL	PREDOMÍNIO DE SOL	TROVOADA ESPARSA	TROVOADA ESPARSA	TROVOADA ESPARSA	TROVOADA ESPARSA
28° 17°	29° 17°	29° 18°	28° 18°	28° 19°	27° 19°	28° 19°

A) NESSE PERÍODO, QUAIS OS DIAS MAIS FAVORÁVEIS PARA APROVEITAR A PRAIA?

B) QUAL É A MAIOR TEMPERATURA PREVISTA E EM QUE DIAS?

C) QUAL É A MENOR TEMPERATURA PREVISTA E EM QUE DIA?

D) O QUE VOCÊ ACHA QUE SIGNIFICA TROVOADA ESPARSA?

2- MARQUE A ALTERNATIVA QUE REPRESENTA O VALOR TOTAL DO DINHEIRO.



A- () 86 REAIS

B- () 96 REAIS

C- () 76 REAIS

A) AGORA, OBSERVE OS PREÇOS DE CADA PRODUTO E ASSINALE AQUELE QUE PODEMOS COMPRAR COM O VALOR TOTAL DO DINHEIRO ACIMA.

99
REAIS

80
REAIS

96
REAIS

86
REAIS



BATEDEIRA

FERRO ELÉTRICO

VENTILADOR

LIQUIDIFICADOR

3- FAÇA CÁLCULOS MENTAIS E RESPONDA.

A) TINHA



GASTEI



FIQUEI COM:

B) TINHA



GASTEI



FIQUEI COM:

C) TINHA



GASTEI



FIQUEI COM: