

PREFEITURA MUNICIPAL DE BOM JESUS DO ITABAPOANA-RJ  
SECRETARIA MUNICIPAL DE EDUCAÇÃO, ESPORTE E LAZER

# Atividades Orientadoras



## Educação de Jovens e Adultos

### FASE I



UNIDADE ESCOLAR:

PROFESSORA

DATA

NOME:

FASE

CÓDIGO BNCC

LP

LÍNGUA PORTUGUESA

1- CIRCULE AS SÍLABAS QUE FORMAM O NOME DOS DESENHOS E ESCREVA OS NOMES ABAIXO:



RE

AR

TA

VO

LA

ÇA



SI

TRE

TI

ES

LA

CAR



DU

SE

ME

DE

TI

EN



LEI

NE

NO

CA

SI

GO



O

JO

ES

AN

LA

DI

UNIDADE ESCOLAR:

PROFESSORA

DATA


NOME:


FASE

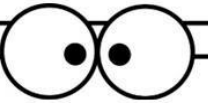
CÓDIGO BNCC

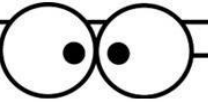



1- LEIA E MARQUE O NÚMERO CORRETO, DEPOIS LIQUE AO NOME:


  
ONZE  
 11    12    10

  
DEZ  
 11    12    10

  
VINTE E UM  
 21    22    20

  
DEZESETE  
 16    18    17

  
DEZESSEIS  
 14    16    15

  
DOZE  
 11    12    10



UNIDADE ESCOLAR:

PROFESSORA

DATA

NOME:

FASE


CÓDIGO BNCC

**LP** **LÍNGUA PORTUGUESA**

1- FAÇA UM X EM CADA CÍRCULO REPRESENTANDO CADA PALAVRA DA FRASE. REGISTRE A QUANTIDADE DE PALAVRAS NO QUADRO AO LADO E ESCREVA NOVAMENTE A FRASE ABAIXO:



O ANJO CHEGOU.



Nº PALAVRAS
-------------



BATE O SINO PEQUENINO.



Nº PALAVRAS
-------------



MEU GORRO É VERMELHO E BRANCO.



Nº PALAVRAS
-------------



O DUENDE AJUDA SEPARAR OS PRESENTES.



Nº PALAVRAS
-------------



UNIDADE ESCOLAR:

PROFESSORA

DATA

NOME:

FASE

CÓDIGO BNCC



## MATEMÁTICA

1- ANTÔNIO PAGOU R\$ 26,00 NO INGRESSO DO CINEMA. O VALOR, POR EXTENSO, DA ENTRADA DO CINEMA FOI:

- A- ( ) DEZESSEIS REAIS.
- B- ( ) VINTE E SEIS REAIS.
- C- ( ) TRINTA E SEIS REAIS.
- D- ( ) SESSENTA E DOIS REAIS.

2- CLÁUDIA VENDE ÁGUA MINERAL NO SINAL. ELA ANOTOU A QUANTIDADE DE ÁGUA MINERAL VENDIDA DURANTE QUATRO DIAS.

SÁBADO	DOMINGO	SEGUNDA-FEIRA	TERÇA-FEIRA
95	53	116	95

A- O DIA EM QUE ELA VENDEU MENOS ÁGUA MINERAL FOI:

( ) SÁBADO ( ) DOMINGO ( ) TERÇA-FEIRA ( ) QUARTA-FEIRA

B- O DIA EM QUE ELA VENDEU MAIS ÁGUA MINERAL FOI:

( ) SÁBADO ( ) DOMINGO ( ) TERÇA-FEIRA ( ) QUARTA-FEIRA

A- OS DIAS EM QUE ELA VENDEU A MESMA QUANTIDADE DE ÁGUA MINERAL FORAM:

( ) SÁBADO ( ) DOMINGO ( ) TERÇA-FEIRA ( ) QUARTA-FEIRA





UNIDADE ESCOLAR:

PROFESSORA

DATA

NOME:



FASE

CÓDIGO BNCC

**LP**

**LÍNGUA PORTUGUESA**

1- ENCONTRE OS 7 ERROS NAS GRAVURAS ABAIXO:



2- ESCREVA OS SETE ERROS QUE ENCONTROU NA GRAVURA ACIMA:


3- AGORA ESCOLHA DUAS PALAVRAS E FORME FRASES:

--

--