



PREFEITURA MUNICIPAL
BOM JESUS
DO ITABAPOANA



SECRETARIA
MUNICIPAL DE
EDUCAÇÃO

Atividades Orientadoras

2º ANO
Ensino Fundamental 1





UNIDADE ESCOLAR:

PROFESSOR(A) ANO DE ESCOLARIDADE DATA

2º ANO

NOME:

HOJE É?

SEGUNDA TERÇA QUARTA QUINTA SEXTA

CÓDIGO BNCC

EF12LP18/EF15LP17/EF15LP03

LÍNGUA PORTUGUESA

1. LEIA O POEMA E PINTE AS RIMAS QUE A PROFESSORA INDICAR.

POEMA DE UM TUCANO


UM TUCANO TEIMOSO
COM SEU BICO GIGANTE
TEM AS ASAS BEM PRETAS
SEU OLHAR TÃO BRILHANTE.

TAVA TENTANDO POUSAR
NO TELHADO DA VOVÓ
MAS DE REPENTE POUSOU
NA JANELA DO VOVÔ.

ELE É TÃO ESPERTO
ME DEIXOU CHEGAR PERTO
UM TUCANO TRAPALHÃO
RESOLVEU DESCER NO CHÃO.

COM SEU PAPO BRANCO
NÃO QUIS PAPO COMIGO
NA VERDADE ESSE TUCANO
GOSTA MUITO DE PERIGO.

VIVE VOANDO
ENTRE AS ÁRVORES DA FLORESTA
ESSA VIDA DE TUCANO
QUE PRA ELE É UMA FESTA.



KREYSIELLE OLIVEIRA

2. QUAL É O TÍTULO DO POEMA? _____

3. QUAL O NOME DA AUTORA DO POEMA? _____

4. QUANTOS VERSOS? _____ QUANTAS ESTROFES? _____

SÍLABA TÔNICA

É A SÍLABA DA PALAVRA QUE POSSUI **MAIOR** INTENSIDADE (FORÇA).

5. CIRCULE AS SÍLABAS TÔNICAS EM CADA PALAVRA.

TU – CA – NO

BI – CO

TRA – PA – LHÃO

ÁR – VO – RES

TE – LHA – DO

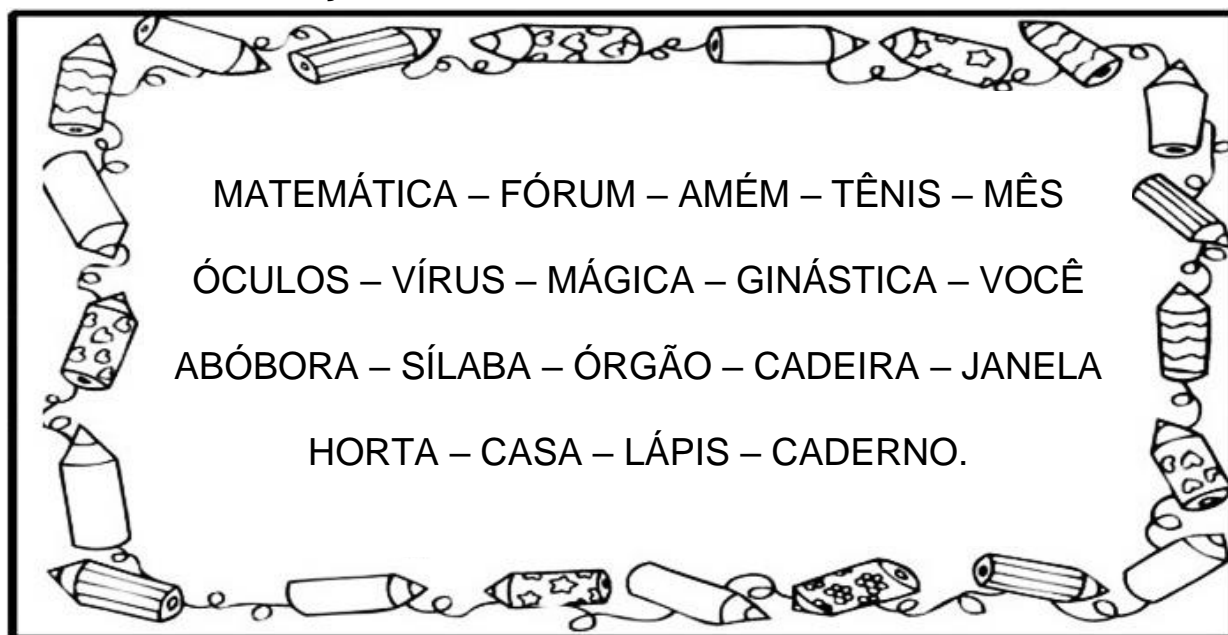
VO – VÔ

GI – GAN – TE

FES – TA



6. OBSERVE AS PALAVRAS DO QUADRO, IDENTIFIQUE A SÍLABA TÔNICA E SEPRE-A DE ACORDO COM AS INDICAÇÕES:



ANTEPENÚLTIMA	PENÚLTIMA	ÚLTIMA



UNIDADE ESCOLAR:

PROFESSOR(A) ANO DE ESCOLARIDADE DATA

2º ANO

NOME:

HOJE É?

SEGUNDA TERÇA QUARTA QUINTA SEXTA

CÓDIGO BNCC

EF02MA01/EF02MA04/EF01MA05

123 MATEMÁTICA 123

1. RESPONDA, QUAL É O NÚMERO:

- DUZENTOS E SESSENTA E TRÊS: _____
- 4 CENTENAS, 3 DEZENAS E 1 UNIDADE: _____
- $300 + 10 + 3$: _____
- 4 CENTENAS, 2 DEZENAS E 1 UNIDADE: _____
- $100 + 30 + 4$: _____
- CENTO E QUARENTA E SETE: _____
- DUZENTOS E TRINTA E QUATRO: _____
- $500 + 20 + 8 =$ _____



2. COMPLETE COM ATENÇÃO.

315 → _____ UNIDADES.
 → _____ DEZENA OU _____ UNIDADES.
 → _____ CENTENA _____ DEZENAS OU _____ UNIDADES.

224 → _____ UNIDADES.
 → _____ DEZENAS OU _____ UNIDADES.
 → _____ CENTENAS _____ DEZENAS OU _____ UNIDADES.

186

UNIDADES.

DEZENAS OU _____ UNIDADES.

CENTENA _____ DEZENAS OU _____ UNIDADES.

415

UNIDADES.

DEZENA OU _____ UNIDADES.

CENTENAS _____ DEZENAS OU _____ UNIDADES.

3. CALCULE:

C	D	U
	5	5
4	3	4

C	D	U
3	4	3
2	2	2

C	D	U
5	4	5
1	4	1

C	D	U
6	2	6
3	5	1

C	D	U
4	0	1
3	6	6

C	D	U
2	3	7
4	6	0

C	D	U
3	7	4
5	1	2

C	D	U
2	1	6
	6	2

C	D	U
1	6	1
7	0	4

C	D	U
4	3	7
2	1	1

C	D	U
5	2	8
3	1	0

C	D	U
6	9	1
2	0	5

C	D	U
	7	4
8	1	2

C	D	U
5	0	6
2	7	3

C	D	U
4	9	1
4	0	4

C	D	U
2	7	5
3	1	2



UNIDADE ESCOLAR:

PROFESSOR(A) ANO DE ESCOLARIDADE DATA

NOME:

HOJE É?

SEGUNDA TERÇA QUARTA QUINTA SEXTA

CÓDIGO BNCC

EF12LP03/EF02LP01.RJ

ABC LÍNGUA PORTUGUESA

1. REESCREVA O TEXTO USANDO A LETRA CURSIVA, SUBSTITUINDO AS FIGURAS POR NOMES. DEPOIS DÊ O TÍTULO A ELE.



VIU UMA



DE



MAS ONDE ESTÁ O



?

ORA



O



NÃO ESTÁ SUMIDO.

ELE ESTÁ LÁ NA






ESCONDIDO.

2. ORDENE AS LETRAS E TENDE DESCOBRIR QUAIS SÃO AS PALAVRAS QUE ESTÃO DENTRO DO BALÃO.



3. DITADO RECORTADO. RECORTE AS PALAVRAS CORRESPONDENTES AOS DESENHOS E COLE.



TEIA

TREM

TOALHA

TARTARUGA

TÊNIS

TERMÔMETRO

TESOURA

TUBARÃO

TUCANO



UNIDADE ESCOLAR:

PROFESSOR(A)

ANO DE ESCOLARIDADE
2º ANO

DATA

NOME:

HOJE É?

SEGUNDA TERÇA QUARTA QUINTA SEXTA

CÓDIGO BNCC

EF02MA06

123 MATEMÁTICA 123


SITUAÇÕES-PROBLEMA

1. UMA INDÚSTRIA PRODUZIU NUM DIA 4 CENTENAS, 1 DEZENA E 8 UNIDADES DE LITROS DE LEITE PELA MANHÃ E, 3 CENTENAS, 8 DEZENAS E 8 UNIDADES À TARDE. QUANTOS LITROS DE LEITE FORAM PRODUZIDOS NESTE DIA?



R.: _____

2. CLAYTON TEM 5 NOTAS DE 10 REAIS E DUAS NOTAS DE 5 REAIS. MAYARA TEM 3 NOTAS DE 20 REAIS. QUAL DOS DOIS TEM MAIS DINHEIRO?




R.: _____

3. CÉSAR GANHOU 5 CARRINHOS DE SUA MÃE, 10 BOLINHAS DE GUDE DO SEU PAI, 14 FIGURINHAS DE SEU PRIMO E 5 PEÕES DE SEU AVÔ. QUANTOS BRINQUEDOS CÉSAR GANHOU?



R.: _____


4. UMA CAIXA TINHA 185 PREGOS. RETIREI 64. QUANTOS PREGOS HÁ NA CAIXA AGORA?



R.: _____




5. EM UMA ESTANTE HAVIA 120 LIVROS. FORAM COLOCADOS MAIS 152. COM QUANTOS LIVROS A ESTANTE FICOU?



C	D	U

R.: _____

6. VICENTE GANHOU 148 BALAS DE SUA MADRINHA. DEU 34 PARA SEU IRMÃO. COM QUANTAS BALAS VICENTE FICOU?



C	D	U

R.: _____

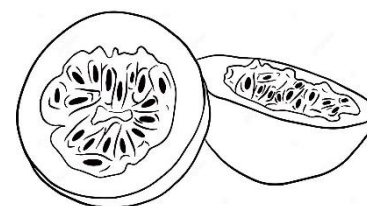
7. CLARA TINHA 832 REAIS PARA PAGAR SUAS CONTAS DO MÊS. ELA GASTOU 332 REAIS. COM QUANTOS REAIS CLARA FICOU?



C	D	U

R.: _____

8. EM UMA CAIXA CABEM 50 MARACUJÁS. SEU JOAQUIM COMPROU DUAS CAIXAS. QUANTOS MARACUJÁS ELE COMPROU?



R.: _____

9. EM UMA PAPELARIA HÁ 468 CANETAS. NESTA SEMANA, FORAM VENDIDAS 257. QUANTAS CANETAS A PAPELARIA AINDA TEM PARA VENDER?



C	D	U

R.: _____



UNIDADE ESCOLAR:

PROFESSOR(A)

ANO DE ESCOLARIDADE
2º ANO

DATA

NOME:

HOJE É?

SEGUNDA

TERÇA

QUARTA

QUINTA


SEXTA

CÓDIGO BNCC

EF15LP06

ABC LÍNGUA PORTUGUESA

1. LEIA O POEMA E COPIE-O USANDO A LETRA CURSIVA.



Tuta, o tucano de topete,

é amigo da jumenta.

Eles fizeram um jantar:

tutu de feijão e pimenta.

Tico-tico era o convidado
e foi de bota e paletó.
Mas na hora do jantar, o
tutu era uma pimenta só!

